


**Министерство Российской Федерации  
по делам гражданской обороны, чрезвычайным ситуациям и  
ликвидации последствий стихийных бедствий**

Управление безопасности людей на водных объектах


**Экзаменационные билеты  
для аттестации граждан на право управления маломерным судном  
в районе плавания ВВ**

## Билет 21 – ВВ


В-1. Что означает сигнал - горизонтальное движение флагом - отмашкой, подаваемый с патрульного судна ГИМС?

	<ul style="list-style-type: none"><li>а) "Подойдите к моему борту"</li><li>б) "Прошу лечь на обратный курс"</li><li>в) "Проходите по борту со стороны отмашки"</li><li>г) "Прошу остановить судно"</li></ul>
---	--


В-2. Какое значение имеет звуковой сигнал - 1 короткий, 1 продолжительный и 1 короткий звуки, подаваемый судном в условиях ограниченной видимости?

	<ul style="list-style-type: none"><li>а) "Несамоходное судно с экипажем на якоре или на мели в пределах судового хода"</li><li>б) "Одиночные суда в движении"</li><li>в) "Составы в движении"</li><li>г) "Одиночные суда или составы на якоре или на мели в пределах судового хода"</li></ul>
--	---


В-3. Какое административное наказание предусмотрено за управление маломерным судном, не зарегистрированным в установленном порядке?

	<ul style="list-style-type: none"><li>а) Предупреждение</li><li>б) Предупреждение либо административный штраф</li><li>в) Предупреждение, либо административный штраф, либо лишение права управления маломерным судном</li><li>г) Административный штраф</li></ul>
--	---


В-4. Как должен производиться обгон маломерным судном другого маломерного судна?

	<ul style="list-style-type: none"><li>а) По правому борту обгоняемого судна</li><li>б) По правому борту при следовании вниз</li><li>в) По правому борту при следовании вверх</li><li>г) По левому борту обгоняемого судна</li></ul>
--	---


В-5. Как называется угол между диаметральной плоскостью судна и направлением на магнитный север?

	<ul style="list-style-type: none"><li>а) курс</li><li>б) компасный курс</li><li>в) истинный курс</li><li>г) магнитный курс</li></ul>
---	--


В-6. Как называется движение двух судов, двигающихся навстречу друг другу?

	<ul style="list-style-type: none"><li>а) Контрплавание</li><li>б) Осевое плавание</li><li>в) Курсовое плавание</li><li>г) Встречное плавание</li></ul>
---	--


В-7. Как называется явление скопления микроскопических капелек воды в нижних слоях атмосферы?

	<ul style="list-style-type: none"><li>а) Мгла</li><li>б) Морось</li><li>в) Дымка</li><li>г) Туман</li></ul>
---	---


В-8. Как называется неправильное (беспорядочное) вращательное течение в реке, вызываемое либо столкновением струй двух водных потоков (спорными водами), либо наличием на дне реки крупных предметов?

	<ul style="list-style-type: none"><li>а) Майдан</li><li>б) Взбросы</li><li>в) Толчея</li><li>г) Суводь</li></ul>
---	--

В-9. Как называется прибор для наблюдения за изменениями атмосферного давления и графической записи показаний?


	<ul style="list-style-type: none"><li>а) Барометр</li><li>б) Гидролокатор</li><li>в) Анемометр</li><li>г) Барограф</li></ul>
---	--

В-10. Где будет находиться область высокого давления по отношению к человеку, стоящему спиной к ветру в северном полушарии?


	<ul style="list-style-type: none"><li>а) впереди;</li><li>б) справа,</li><li>в) слева,</li><li>г) со стороны спины</li></ul>
---	--

## Билет 22 – ВВ


В-1. При какой мощности подвесного лодочного мотора (двигателя) маломерное судно массой более 200 кг подлежит государственной регистрации?

	<ul style="list-style-type: none"><li>а) Более 3,68 кВт</li><li>б) Более 5 кВт</li><li>в) Более 8 кВт</li><li>г) Более 10 кВт</li></ul>
---	---


В-2. По какому борту одно маломерное судно должно обгонять другое маломерное судно?

	<ul style="list-style-type: none"><li>а) Обгон не разрешается</li><li>б) По любому борту</li><li>в) По правому борту обгоняемого судна</li><li>г) По левому борту обгоняемого судна</li></ul>
---	---


В-3. Какое административное наказание предусматривается за управление маломерным судном, судоводителем, не имеющим при себе судового билета?

	<ul style="list-style-type: none"><li>а) Предупреждение</li><li>б) Предупреждение либо административный штраф</li><li>в) Предупреждение, либо административный штраф, либо лишение права управления маломерным судном на срок до шести месяцев</li><li>г) Административный штраф</li></ul>
---	--

В-4. Какой из маневров на моторной лодке "А" является наиболее эффективным, чтобы уступить дорогу катеру "Б"?

	<ul style="list-style-type: none"><li>а) Сделать оборот через левый борт</li><li>б) Повернуть влево на 10 град</li><li>в) Повернуть вправо на 10 град</li><li>г) Уменьшить скорость и повернуть под корму катера "Б"</li></ul>
---	--

В-5. Как называется столкновение струй двух водных потоков (слияние рукавов)?

	<ul style="list-style-type: none"><li>а) Взброс</li><li>б) Толчая</li><li>в) Прибой</li><li>г) Спорные воды</li></ul>
---	---

В-6. Как называется песчаная отмель – бугор в русле реки?




- а) Огрудок
- б) Лещадь
- в) Печина
- г) Шалыга

В-7. Выберите правильное определение термина «пеленг»



- а) угол между направлением на север и направлением на объект
- б) угол между направлением на север и диаметральной плоскостью судна
- в) угол между диаметральной плоскостью судна и направлением на объект
- г) угол между курсом судна и направлением на объект

В-8. Как называется область с повышенным давлением, которое понижается от центра к периферии?



- а) Циклон
- б) Шторм
- в) Штиль
- г) Антициклон

В-9. Укажите единицу измерения силы ветра.



- а) м/сек;
- б) км/час;
- в) балл;
- г) градус.


В-10. Какое название носят приливы, которые наблюдаются в дни первой и последней четвертей луны?



- а) полусуточные;
- б) суточные;
- в) сигизийные;
- г) квадратурные

## Билет 23 – ВВ


В-1. В каком из перечисленных случаев государственный инспектор по маломерным судам имеет право использовать суда, принадлежащие гражданам?

	<ul style="list-style-type: none"><li>а) Для следования к месту работы</li><li>б) Для транспортировки судна нарушителя</li><li>в) Для доставки нарушителей на медицинское обследование</li><li>г) Для доставки в лечебные учреждения пострадавших людей</li></ul>
---	---


В-2. Сколько метров составляет ширина береговой полосы водных объектов общего использования?

	<ul style="list-style-type: none"><li>а) 10 м</li><li>б) 30 м</li><li>в) 50 м</li><li>г) 20 м</li></ul>
---	---


В-3. Что необходимо выполнить судоводителю маломерного судна при встрече немаломерного судна на судовом ходу?

	<ul style="list-style-type: none"><li>а) заблаговременно уйти с его пути без обмена звуковыми и зрительными сигналами;</li><li>б) уступить дорогу после обмена звуковыми сигналами;</li><li>в) уступить дорогу после обмена зрительными сигналами;</li><li>г) потребовать, чтобы ему уступили дорогу.</li></ul>
---	---


В-4. На какой срок выдается свидетельство о классификации маломерного судна после его постройки и (или) освидетельствования?

	<ul style="list-style-type: none"><li>а) на 1 год</li><li>б) на 5 лет</li><li>в) на 10 лет</li><li>г) бессрочно</li></ul>
---	---


В-5. Что обозначают изображенные на иллюстрации знаки?

	<ul style="list-style-type: none"><li>а) Лоцманское судно при исполнении своих обязанностей</li><li>б) Судно, занятое буксировкой с длиной буксира более 200 м</li><li>в) Судно, ограниченное в возможности маневрировать, на ходу</li><li>г) Судно, лишенное возможности управляться</li></ul>
---	---


В-6. Как называется угол между северным направлением меридиана и диаметральной плоскостью судна по направлению его движения?

	а) пеленг б) курсовой угол в) курс г) магнитный курс
---	---


В-7. Пеленг на какой из объектов необходимо взять в последнюю очередь при определении места судна?

	а) на объект, находящийся по носу б) на объект, находящийся по корме в) на объект, находящийся на траверзе г) на любой из перечисленных
---	--


В-8. Как называется ветер, который дует днем с моря на сушу, а ночью с суши на море?

	а) пассат; б) бора; в) бриз; г) муссон.
--	--

В-9. Признаком какого изменения погоды является резкое падение атмосферного давления?

	а) Изменения направления ветра б) Улучшения погоды в) Устойчивой хорошей погоды г) Приближения шторма
---	--


В-10. Как называется разновидность тумана при видимости от 1 до 10 км?

	а) Мгла б) Рефракция в) Морось г) Дымка
---	--




## Билет 24 – ВВ


В-1. Что должен выполнить судоводитель для предотвращения непосредственно угрожающей опасности или ее возможных последствий?

	<ul style="list-style-type: none"><li>а) следовать безопасной скоростью</li><li>б) уменьшить скорость до минимальной</li><li>в) увеличить скорость до максимальной</li><li>г) остановиться</li></ul>
---	--


В-2. На какие органы (организации) Водным кодексом РФ возложены обязанности об информировании жителей в случае введения запрета (ограничения) на использование маломерных судов на водных объектах общего пользования?

	<ul style="list-style-type: none"><li>а) На ВОСВОД</li><li>б) на инспекторские подразделения ГИМС</li><li>в) На территориальные органы МЧС России</li><li>г) На органы местного самоуправления</li></ul>
---	--


В-3. Что обозначает изображенный на иллюстрации знак?

	<ul style="list-style-type: none"><li>а) Судно, стоящее на мели</li><li>б) Судно, стоящее на якоре</li><li>в) Судно, идущее под парусом и одновременно использующее силовую установку</li><li>г) Судно, осуществляющее перевозку опасных грузов</li></ul>
---	---

В-4. При каком условии можно перевозить на маломерном судне детей дошкольного возраста?

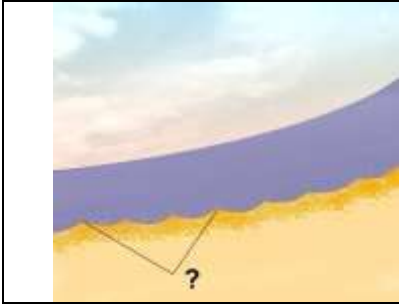
	<ul style="list-style-type: none"><li>а) В сопровождении взрослого, не связанного с управлением гидроцикла</li><li>б) При наличии одетого на ребенка спасательного жилета</li><li>в) Если ребенок умеет плавать</li><li>г) Нельзя ни при каких условиях</li></ul>
---	---

В-5. Как называется место начала реки?

	<ul style="list-style-type: none"><li>а) Воложка</li><li>б) Протока</li><li>в) Стрежень</li><li>г) Исток</li></ul>
---	--



В-6. Как называется скопление наносов, отложенных в виде подводной гряды по ширине русла?



- а) Коса
- б) Порог
- в) Отмель
- г) Перекат

В-7. Как называется течение из главного русла, направляющееся в боковые протоки у их входов?



- а) Свальное
- б) Боковое
- в) Прижимное
- г) Затяжное

В-8. Что измеряет барометр-анероид?



- а) Температуру воды
- б) Силу ветра
- в) Влажность воздуха
- г) Атмосферное давление

В-9. Как называется интенсивное (при забрызгивании) нарастание слоя льда на палубе, фальшборте, надстройках, рангоуте и палубных судовых устройствах?



- а) Замораживание
- б) Наледь
- в) Обмораживание
- г) Обледенение

В-10. По какой шкале производится визуальная оценка силы ветра?



- а) Саффира – Симпсона
- б) Бофорта
- в) Цельсия
- г) Кельвина

## Билет 25 – ВВ

В-1. Какое движение флага-отмашки днем означает сигнал "Прошу остановиться"?




- а) Вертикальное
- б) Вращательное
- в) Любое
- г) Горизонтальное

В-2. Что обозначает изображенный на иллюстрации знак?



- а) Судно на ходу
- б) Судно, осуществляющее перевозку радиоактивных грузов
- в) Судно, идущее под парусом и одновременно использующее силовую установку
- г) Судно, стоящее на якоре

В-3. Какой срок отводится Кодексом Российской Федерации об административных правонарушениях для уплаты административного штрафа?



- а) 10 суток
- б) 20 суток
- в) 60 суток
- г) 30 суток

В-4. Какому из маломерных судов должно уступить дорогу маломерное судно "А"?



- а) В
- б) Обоим судам
- в) Ни одному из судов
- г) Б

В-5. Как называется невысокий обрывистый, как правило, вогнутый берег?



- а) Обрыв
- б) Овраг
- в) Пески
- г) Яр

В-6. Как называется течение, которое создается у берега на участках, где слив воды направлен к берегу, и вызывает раскат судов в сторону берега?



- а) Затяжное
- б) Раскатное
- в) Свальное
- г) Прижимное

В-7. Как называется отклонение стрелки компаса от магнитного севера под влиянием внешних магнитных полей?



- а) Магнитное склонение
- б) Девиация
- в) Угловое склонение
- г) Демаркация

В-8. Что измеряется ручным анемометром?



- а) Направление ветра
- б) Скорость течения
- в) Атмосферное давление
- г) Скорость ветра

В-9. Какую погоду следует ожидать при резком падении атмосферного давления и появлении перисто-кучевых облаков?



- а) Изменение направления ветра
- б) Усиления дождя
- в) Ухудшение погоды через 6-10 часов
- г) Грозу и шторм через 1-2 часа


В-10. Какое название носят приливы, которые наблюдаются в дни новолуния и полнолуния?




- а) полусуточные;
- б) суточные;
- в) сизигийные;
- г) квадратурные.

## Билет 26 – ВВ


В-1. Что обязан выполнить судоводитель, находящийся поблизости от аварийного судна, если имеется опасность для находящихся на нем людей?

	<ul style="list-style-type: none"><li>а) оказать немедленную помощь</li><li>б) насколько это совместимо с безопасностью его судна, оказать немедленную помощь;</li><li>в) не оказывать помощь;</li><li>г) привлечь внимание других судов</li></ul>
---	--


В-2. Что обозначает изображенный на иллюстрации знак?

	<ul style="list-style-type: none"><li>а) Судно, стоящее на мели</li><li>б) Судно, стоящее на якорь</li><li>в) Судно, осуществляющее перевозку радиоактивных грузов</li><li>г) Судно, идущее под парусом и одновременно использующее силовую установку</li></ul>
---	---


В-3. На какой срок задерживается маломерное судно при совершении административного правонарушения?

	<ul style="list-style-type: none"><li>а) На срок до рассмотрения дела об административном правонарушении</li><li>б) На срок до составления протокола об административном правонарушении</li><li>в) На срок до вступления постановления по делу об административном правонарушении в законную силу</li><li>г) На срок до устранения причины задержания</li></ul>
--	---

В-4. При каком условии маломерному судну можно заходить и маневрировать на акватории пляжей?

	<ul style="list-style-type: none"><li>а) Только на самом малом ходу</li><li>б) Только для высадки на берег пассажиров</li><li>в) Если в непосредственной близости от судна нет купающихся людей</li><li>г) Ни при каких условиях</li></ul>
---	--

В-5. Под каким номером на рисунке обозначен урез воды?

	<ul style="list-style-type: none"><li>а) 1</li><li>б) 2</li><li>в) 4</li><li>г) 3</li></ul>
---	---

В-6. Как называется вращательное движение воды в реке, возникающее, как правило, за выступами берегов, мысами, выпуклыми берегами, мостовыми опорами, дамбами?



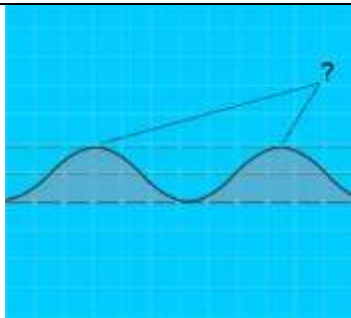
- а) Майдан
- б) Водоворот
- в) Бурун
- г) Суводь

В-7. Как называется часть речной долины, затапливаемая при половодье (1 и 2)?



- а) Затон
- б) Воложка
- в) Протока
- г) Пойма

В-8. Как называется наивысшая точка волнового профиля?



- а) Взброс
- б) Подошва
- в) Высота
- г) Гребень

В-9. Что означает выражение «Шторм 9 баллов»?



- а) волна высотой 9 метров;
- б) ветер скоростью 9 м/сек;
- в) ветер скоростью 9 км/час;
- г) ветер силой 9 баллов.


В-10. Какое название носят приливы, имеющие одну полную и одну малую воду в течение суток?




- а) полусуточные;
- б) суточные;
- в) сигизийные;
- г) квадратурные.

## Билет 27 – ВВ


В-1. Кто допускается к управлению маломерным судном?

	<ul style="list-style-type: none"><li>а) Лицо, имеющее действительный диплом на право занятия судоводительской должности</li><li>б) Лицо, имеющее справку об окончании курсов подготовки судоводителей маломерных судов</li><li>в) Любой совершеннолетний гражданин Российской Федерации</li><li>г) Лицо, имеющее действующее удостоверение на право управления маломерным судном</li></ul>
---	---


В-2. В каком случае требуется заключение договора водопользования для плавания на маломерном судне?

	<ul style="list-style-type: none"><li>а) Если мощность двигателя маломерного судна более 55 кВт (75 л.с.)</li><li>б) Если на одного владельца зарегистрировано два и более маломерных судов</li><li>в) Таких случаев законодательством не предусмотрено</li><li>г) Если судовладелец использует судно для рыболовства, рыбоводства или охоты</li></ul>
---	--


В-3. Какие действия должно предпринять судно, которому уступают дорогу?

	<ul style="list-style-type: none"><li>а) Сохранить свой курс и скорость</li><li>б) Увеличить свою скорость и изменить курс на 10 градусов вправо</li><li>в) Изменить свой курс на 10 градусов вправо</li><li>г) Увеличить свою скорость</li></ul>
---	---

В-4. Какое административное наказание предусмотрено за управление маломерным судном судоводителем или иным лицом, находящимся в состоянии опьянения?

	<ul style="list-style-type: none"><li>а) Лишение прав управления маломерным судном</li><li>б) Предупреждение</li><li>в) Штраф</li><li>г) Штраф или лишение прав управления маломерным судном</li></ul>
---	--

В-5. Как называется большое скопление камней в русле либо каменная коса?

	<ul style="list-style-type: none"><li>а) Огрудок</li><li>б) Печина</li><li>в) Гряда</li><li>г) Шалыга</li></ul>
---	---



В-6. Как называется крутой и короткий изгиб русла в пределах долины реки?



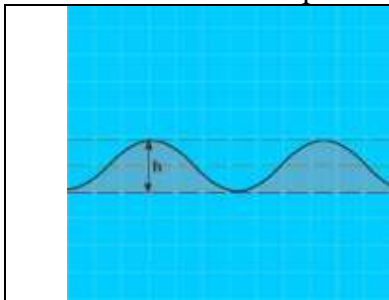
- а) Извилина
- б) Излучина
- в) Лука
- г) Колено

В-7. Выберите правильное определение термина «курсовой угол»



- а) угол между направлением на север и направлением на объект
- б) угол между направлением на север и диаметральной плоскостью судна
- в) угол между диаметральной плоскостью судна и направлением на объект
- г) угол между курсом судна и направлением на объект

В-8. Как называется расстояние (h) от подошвы до гребня волны?



- а) Период волны
- б) Диаметр волны
- в) Длина волны
- г) Высота волны

В-9. Как называется ветер, при котором воздух перемещается с запада на восток?



- а) Западный;
- б) Восточный;
- в) Северный;
- г) Южный.

В-10. В каких случаях моторное маломерное судно должно уступить дорогу гребной лодке?




- а) Если гребная лодка находится слева
- б) Если гребная лодка находится справа
- в) Если гребная лодка находится по курсу
- г) Во всех случаях




## Билет 28 – ВВ


В-1. В течение какого срока собственник маломерного судна обязан сообщить в орган государственной регистрации судна о любом изменении сведений, внесенных в судовую книгу?

	<ul style="list-style-type: none"><li>а) В течение недели</li><li>б) В течение месяца</li><li>в) В течение трех недель</li><li>г) В течение двух недель</li></ul>
---	---


В-2. На каком судне выставляется изображенный на иллюстрации сигнал?

	<ul style="list-style-type: none"><li>а) Судно на мели</li><li>б) Судно, занятое дноуглубительными работами</li><li>в) Судно, лишенное возможности управляться, на якоре</li><li>г) Судно терпит бедствие и нуждается в помощи</li></ul>
---	--


В-3. Какому из судов ("А" – моторное судно, "В" - парусное судно) должна уступить дорогу гребная лодка "Б"?

	<ul style="list-style-type: none"><li>а) "А"</li><li>б) "А" и "В"</li><li>в) Никакому</li><li>г) "В"</li></ul>
--	--


В-4. Какие документы во время плавания должен иметь при себе судоводитель моторного маломерного судна, если он сам управляет этим судном?

	<ul style="list-style-type: none"><li>а) Удостоверение на право управления</li><li>б) Акт технического освидетельствования</li><li>в) Судовой билет (или его копию)</li><li>г) Судовой билет (или его заверенную копию) и удостоверение на право управления</li></ul>
---	---

В-5. Как называется длинный изгиб русла вместе с долиной реки?

	<ul style="list-style-type: none"><li>а) Излучина</li><li>б) Колено</li><li>в) Лука</li><li>г) Извилина</li></ul>
---	---

В-6. Какая зависимость между продольным уклоном поверхности воды и скоростью течения воды в реке?



- а) Скорость течения возрастает с уменьшением продольного уклона
- б) Скорость течения уменьшается с увеличением продольного уклона
- в) Скорость течения не зависит от продольного уклона поверхности воды в реке
- г) Скорость течения возрастает с увеличением продольного уклона

В-7. Как называется угол между диаметральной плоскостью судна и направлением на истинный север?

?

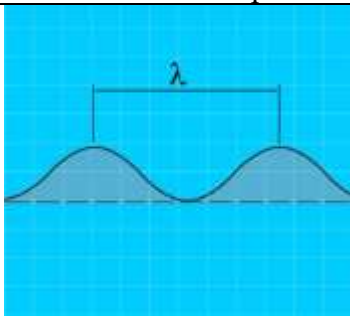
- а) курс
- б) компасный курс
- в) истинный курс
- г) магнитный курс

В-8. Как называется ветер, дующий в сторону берега?



- а) Прижимной
- б) Прибрежный
- в) Привальный
- г) Навальный

В-9. Как называется расстояние между гребнями или подошвами двух смежных волн?



- а) Бег волны
- б) Период волны
- в) Высота волны
- г) Длина волны


В-10. Какое название носят приливы, имеющие две полные и две малые воды в течение лунных суток?

?


- а) полусуточные;
- б) суточные;
- в) сизигийные;
- г) квадратурные.

## Билет 29 – ВВ


В-1. Какова периодичность проведения очередного освидетельствования маломерного судна?

	<ul style="list-style-type: none"><li>а) Один раз в 5 лет</li><li>б) Один раз в 2 года</li><li>в) Один раз в 3 года</li><li>г) Ежегодно</li></ul>
---	---


В-2. Что означают непрерывно повторяющиеся продолжительные сигналы либо беспрерывные частые удары в колокол или металлический предмет, подаваемые судном?

	<ul style="list-style-type: none"><li>а) рошу выйти на связь</li><li>б) Человек за бортом</li><li>в) Предупреждение</li><li>г) Сигнал бедствия</li></ul>
---	--


В-3. Какому из маломерных судов "А" и "В" должно уступить дорогу парусное судно "Б"?

	<ul style="list-style-type: none"><li>а) "А"</li><li>б) "А" и "В"</li><li>в) "В"</li><li>г) Ни одному из судов</li></ul>
---	--

В-4. Какое административное наказание предусматривается за нарушение лицом, управляющим маломерным судном, правил маневрирования?

	<ul style="list-style-type: none"><li>а) Административный штраф</li><li>б) Предупреждение</li><li>в) Предупреждение либо административный штраф</li><li>г) Предупреждение, либо административный штраф, либо лишение права управления маломерным судном на срок до шести месяцев</li></ul>
---	--

В-5. Как называется отклонение движущегося судна от курса под влиянием ветра?

	<ul style="list-style-type: none"><li>а) дрейф</li><li>б) дифферент</li><li>в) крен</li><li>г) слеминг</li></ul>
---	--

В-6. Как называется направление на географический северный полюс?



- а) магнитный север
- б) истинный север
- в) север по компасу
- г) полюсный север

В-7. Как называется часть реки, образованная при разделении русла островом?



- а) Прорва
- б) Затон
- в) Старица
- г) Рукав

В-8. Как называется ветер, дующий против течения реки?



- а) Верховой
- б) Бриз
- в) Встречный
- г) Низовой

В-9. Для чего из перечисленного ниже используется магнитный компас?



- а) Измерение скорости и расстояния до пункта назначения
- б) Снятие пеленга на объект
- в) Определение расстояния от объекта
- г) Для всего вышеперечисленного


В-10. Как называется прибор для наблюдения за изменениями атмосферного давления и графической записи показаний?




- а) Барометр
- б) Гидролокатор
- в) Анемометр
- г) Барограф

## Билет 30 – ВВ

В-1. Через сколько дней заявитель, показавший неудовлетворительный результат при проверке теоретических знаний при аттестации на право управления маломерным судном, может быть повторно допущен к проверке теоретических знаний?

	<ul style="list-style-type: none"><li>а) Такой срок не установлен</li><li>б) Через 3 дня</li><li>в) Через 5 дней</li><li>г) Через 7 дней</li></ul>
---	--


В-2. Должно ли маломерное моторное судно на ходу уступить дорогу парусному судну?

	<ul style="list-style-type: none"><li>а) Не должно</li><li>б) Должно, если парусное судно идет правым галсом</li><li>в) Должно, если парусное судно приближается с левого борта</li><li>г) Должно в любом случае</li></ul>
---	--


В-3. Какой из звуковых сигналов в условиях ограниченной видимости подает одиночное судно на якоре?

	<ul style="list-style-type: none"><li>а) "а"</li><li>б) "в"</li><li>в) "б"</li><li>г) "г"</li></ul>
---	---


В-4. Какое административное наказание предусмотрено за эксплуатацию маломерного судна, у которого содержание загрязняющих веществ в выбросах превышает установленные государственными стандартами нормативы?

	<ul style="list-style-type: none"><li>а) Наказания не предусмотрено</li><li>б) Лишение права управления</li><li>в) Предупреждение или штраф</li><li>г) Штраф</li></ul>
---	--


В-5. Как называется местоположение судна, полученное путем обработки результатов визуальных наблюдений различных ориентиров, положение которых известно?

	<ul style="list-style-type: none"><li>а) обсервованное</li><li>б) счислимое</li><li>в) истинное</li><li>г) расчетное</li></ul>
---	--


В-6. Как называется угловая разница между направлением на истинный север и направлением на магнитный север?

	<ul style="list-style-type: none"><li>а) Магнитное склонение</li><li>б) Девияция</li><li>в) Угловое склонение</li><li>г) Демаркация</li></ul>
---	---


В-7. Как называется водный поток, вливающийся в реку?

	<ul style="list-style-type: none"><li>а) Побочень</li><li>б) Рукав</li><li>в) Ручей</li><li>г) Приток</li></ul>
---	---


В-8. Что измеряет барометр-анероид?

	<ul style="list-style-type: none"><li>а) Температуру воды</li><li>б) Силу ветра</li><li>в) Влажность воздуха</li><li>г) Атмосферное давление</li></ul>
--	--

В-9. Укажите единицу измерения силы ветра.

	<ul style="list-style-type: none"><li>а) м/сек;</li><li>б) км/час;</li><li>в) балл;</li><li>г) градус.</li></ul>
---	--


В-10. Где будет находиться область высокого давления по отношению к человеку, стоящему спиной к ветру в северном полушарии?

	<ul style="list-style-type: none"><li>а) впереди;</li><li>б) справа,</li><li>в) слева,</li><li>г) со стороны спины</li></ul>
---	--




## Билет 31 – ВВ


В-1. Отметьте правильное определение понятия «маломерное моторное судно»

	<ul style="list-style-type: none"><li>а) маломерное судно, использующее в качестве основного средства движения подвесной мотор</li><li>б) маломерное судно, использующее в качестве основного средства стационарный двигатель</li><li>в) маломерное судно, использующее в качестве движителя гребной винт</li><li>г) маломерное судно, использующее в качестве основного средства движения механический двигатель</li></ul>
---	---


В-2. Что означает поднятый на судне сигнал?

	<ul style="list-style-type: none"><li>а) Судно терпит бедствие и нуждается в помощи</li><li>б) Судно занято дноуглубительными работами</li><li>в) Судно, лишенное возможности управляться, на якоре</li><li>г) Судно на мели</li></ul>
---	--


В-3. Какое административное наказание предусмотрено за управление маломерным судном с нарушением ограничений по условиям плавания?

	<ul style="list-style-type: none"><li>а) Лишение права управления</li><li>б) Штраф</li><li>в) Предупреждение или штраф, или лишение права управления</li><li>г) Предупреждение или штраф</li></ul>
---	--

В-4. Какой из маневров на моторной лодке "А" является наиболее эффективным, чтобы уступить дорогу катеру "Б"?

	<ul style="list-style-type: none"><li>а) Сделать оборот через левый борт</li><li>б) Повернуть влево на 10 град</li><li>в) Повернуть вправо на 10 град</li><li>г) Уменьшить скорость и повернуть под корму катера "Б"</li></ul>
---	--

В-5. Как называется неправильное (беспорядочное) вращательное течение в реке, вызываемое либо столкновением струй двух водных потоков (спорными водами), либо наличием на дне реки крупных предметов?

	<ul style="list-style-type: none"><li>а) Майдан</li><li>б) Взбросы</li><li>в) Толчея</li><li>г) Суводь</li></ul>
---	--



В-6. Как называется подводный глинистый выступ?



- а) Шалыга
- б) Опечка
- в) Осередок
- г) Печина

В-7. Для чего из перечисленного ниже используется магнитный компас?



- а) Измерение скорости и расстояния до пункта назначения
- б) Снятие пеленга на объект
- в) Определение расстояния от объекта
- г) Для всего вышеперечисленного

В-8. Признаком какого изменения погоды является резкое падение атмосферного давления?



- а) Изменения направления ветра
- б) Улучшения погоды
- в) Устойчивой хорошей погоды
- г) Приближения шторма

В-9. Какое название носят приливы, имеющие одну полную и одну малую воду в течение суток?



- а) полусуточные;
- б) суточные;
- в) сигизийные;
- г) квадратурные.


В-10. Как называется интенсивное (при забрызгивании) нарастание слоя льда на палубе, фальшборте, надстройках, рангоуте и палубных судовых устройствах?




- а) Замораживание
- б) Наледь
- в) Обмораживание
- г) Обледенение

## Билет 32 – ВВ


В-1. Какому из перечисленных судов НЕ должно уступать дорогу парусное судно на ходу?

	<ul style="list-style-type: none"><li>а) одиночное самоходное судно, толкающее или буксирующее состав (кроме плота);</li><li>б) судно, занятое ловом рыбы;</li><li>в) судно, буксирующее плот;</li><li>г) судно, лишенное возможности управляться, занятое подводными или водолазными работами</li></ul>
---	--


В-2. Если два маломерных моторных судна идут пересекающимися курсами так, что возникает опасность столкновения, какое судно должно уступить дорогу другому судну?

	<ul style="list-style-type: none"><li>а) Судно, находящееся южнее другого судна</li><li>б) Судно, находящееся севернее другого судна</li><li>в) Судно, которое наблюдает другое судно по своему левому борту</li><li>г) Судно, которое наблюдает другое судно по своему правому борту</li></ul>
---	---


В-3. В течение какого времени судоводитель имеет право обжаловать постановление по делу об административном правонарушении со дня получения копии постановления?

	<ul style="list-style-type: none"><li>а) Одного месяца</li><li>б) Пяти дней</li><li>в) Десяти дней</li><li>г) Двух недель</li></ul>
--	---

В-4. Какому из маломерных судов должно уступить дорогу маломерное судно "Б"?

	<ul style="list-style-type: none"><li>а) Б</li><li>б) А и В</li><li>в) Никакому</li><li>г) В</li></ul>
---	--

В-5. Как называется небольшое обособленное скопление камней недалеко от берега?

	<ul style="list-style-type: none"><li>а) Шальга</li><li>б) Осередок</li><li>в) Огрудки</li><li>г) Одинец</li></ul>
---	--

В-6. Как называется неправильное течение, которое представляет собой слив воды, направленный под углом к судовому ходу, и возникающее из-за разности в уровнях воды по ширине реки?



- а) Затяжное
- б) Спорное
- в) Прижимное
- г) Свальное

В-7. Как называется отклонение движущегося судна от курса под влиянием течения?



- а) дрейф
- б) дифферент
- в) снос
- г) слеминг

В-8. Что измеряется ручным анемометром?



- а) Скорость ветра
- б) Скорость течения
- в) Атмосферное давление
- г) Направление ветра

В-9. Как называется явление скопления микроскопических капелек воды в нижних слоях атмосферы?



- а) Мгла
- б) Морось
- в) Дымка
- г) Туман


В-10. Как называется ветер, который дует днем с моря на сушу, а ночью с суши на море?




- а) пассат;
- б) бора;
- в) бриз;
- г) муссон.

## Билет 33 – ВВ


В-1. Выберите правильное определение понятия «район плавания маломерного судна»

	<ul style="list-style-type: none"><li>а) район, по которому произведена предварительная прокладка перехода;</li><li>б) район, в котором фактически находится маломерное судно;</li><li>в) акватория, на которой допускается использование маломерного судна в соответствии с его техническими и конструктивными характеристиками;</li><li>г) акватория, в которой осуществляют плавание маломерные суда</li></ul>
---	---


В-2. Как должны маневрировать маломерные суда для расхождения друг с другом на акватории, не имеющей судоходной обстановки?

	<ul style="list-style-type: none"><li>а) Так, чтобы разойтись левыми бортами</li><li>б) Так, чтобы расстояние между ними было не менее 50 м</li><li>в) Так, чтобы расстояние между ними было не менее трех длин корпуса большего судна</li><li>г) Так, чтобы разойтись правыми бортами</li></ul>
---	--


В-3. Какое административное наказание предусматривается за несоблюдение лицом, управляющим маломерным судном, требований навигационных знаков?

	<ul style="list-style-type: none"><li>а) Административный штраф</li><li>б) Лишение права управления Маломерным судном на срок до шести месяцев</li><li>в) Предупреждение</li><li>г) Одно из перечисленных</li></ul>
---	---


В-4. Какие действия должен предпринять судоводитель маломерного судна "А" для безопасного расхождения?

	<ul style="list-style-type: none"><li>а) Изменить курс влево</li><li>б) Следовать прежним курсом</li><li>в) Изменить курс вправо</li><li>г) Застопорить ход и остановиться</li></ul>
---	--


В-5. Под каким номером на рисунке обозначен урез воды?

	<ul style="list-style-type: none"><li>а) 1</li><li>б) 2</li><li>в) 4</li><li>г) 3</li></ul>
---	---

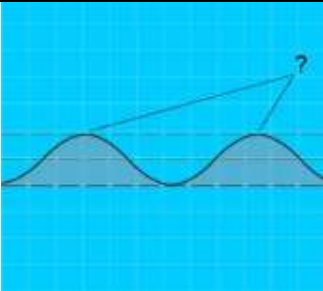
В-6. Как называется вращательное движение воды за подводным или надводным выступом?

	<p>а) Майдан б) Водоворот в) Сулои г) Суводь</p>
---	--


В-7. Как называется отклонение стрелки компаса от магнитного севера под влиянием внешних магнитных полей?

	<p>а) Магнитное склонение б) Девиация в) Угловое склонение г) Демаркация</p>
---	--


В-8. Как называется наивысшая точка волнового профиля?

	<p>а) Взброс б) Подошва в) Высота г) Гребень</p>
--	--

В-9. Что означает выражение «Шторм 9 баллов»?


	<p>а) ветер силой 9 баллов; б) ветер скоростью 9 м/сек; в) ветер скоростью 9 км/час; г) волна высотой 9 метров.</p>
---	---

В-10. Какое название носят приливы, которые наблюдаются в дни первой и последней четверти луны?


	<p>а) полусуточные; б) суточные; в) сигизийные; г) квадратурные.</p>
---	--

## Билет 34 – ВВ


В-1. Какой документ, выдаваемый собственнику маломерного судна, подтверждает право плавания под Государственным флагом Российской Федерации?

	<ul style="list-style-type: none"><li>а) Удостоверение на право управления маломерными судами</li><li>б) Технический талон</li><li>в) Акт технического освидетельствования</li><li>г) Судовой билет</li></ul>
---	---


В-2. Какие действия должно предпринять судно, которому уступают дорогу?

	<ul style="list-style-type: none"><li>а) Сохранить свой курс и скорость</li><li>б) Увеличить свою скорость и изменить курс на 10 градусов вправо</li><li>в) Изменить свой курс на 10 градусов вправо</li><li>г) Увеличить свою скорость</li></ul>
---	---


В-3. Какое административное наказание предусмотрено за передачу управления маломерным судном лицу, не имеющему на это права?

	<ul style="list-style-type: none"><li>а) Лишение права управления</li><li>б) Предупреждение</li><li>в) Штраф</li><li>г) Предупреждение или штраф</li></ul>
---	--

В-4. При каких условиях разрешается пересадка людей с одного судна на другое во время движения?

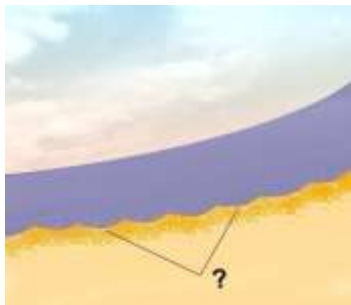
	<ul style="list-style-type: none"><li>а) При отсутствии ветра и волнения</li><li>б) При отсутствии ветра и волнения с обязательно надетым на пересаживаемого человека спасательным жилетом</li><li>в) Если по условиям плавания нет возможности остановить суда</li><li>г) Пересадка во время движения запрещена во всех случаях</li></ul>
---	--

В-5. Какой из этих изгибов реки называется "лука"?

	<ul style="list-style-type: none"><li>а)</li><li>б)</li><li>в)</li><li>г)</li></ul>
---	---



В-6. Как называется глубоководный участок реки между двумя перекатами?



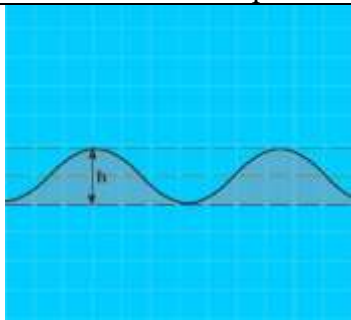
- а) Рейд
- б) Плёс
- в) Стрежень
- г) Ложбина

В-7. Как называется движение двух судов, двигающихся навстречу друг другу?



- а) Контрплавание
- б) Осевое плавание
- в) Встречное плавание
- г) Курсовое плавание

В-8. Как называется расстояние (h) от подошвы до гребня волны?



- а) Высота волны
- б) Период волны
- в) Диаметр волны
- г) Длина волны

В-9. Какую погоду следует ожидать при резком падении атмосферного давления и появлении перисто-кучевых облаков?



- а) Изменение направления ветра
- б) Усиления дождя
- в) Ухудшение погоды через 6-10 часов
- г) Грозу и шторм через 1-2 часа

В-10. Какое название носят приливы, которые наблюдаются в дни новолуния и полнолуния?




- а) полусуточные;
- б) суточные;
- в) сигизийные;
- г) квадратурные.




## Билет 35 – ВВ


В-1. Каким нормативным документом регулируется безопасность судоходства маломерных судов на внутренних водах, не включенных в Перечень внутренних водных путей Российской Федерации?

	<ul style="list-style-type: none"><li>а) Правилами плавания по внутренним водным путям Российской Федерации;</li><li>б) Правилами пользования маломерными судами на водных объектах Российской Федерации;</li><li>в) Кодексом внутреннего водного транспорта Российской Федерации;</li><li>г) Водным кодексом Российской Федерации.</li></ul>
---	---


В-2. В каком из следующих случаев не разрешается пользоваться маломерным судном?

	<ul style="list-style-type: none"><li>а) У судоводителя нет при себе удостоверения на право управления судном</li><li>б) Маломерное судно не зарегистрировано в установленном порядке</li><li>в) На маломерном судне отсутствует судовой билет</li><li>г) Во всех перечисленных случаях</li></ul>
---	---


В-3. Какое административное наказание лица, управляющего маломерным судном, предусматривается за преднамеренную остановку или стоянку судна в запрещенных местах?

	<ul style="list-style-type: none"><li>а) Предупреждение</li><li>б) Предупреждение либо административный штраф</li><li>в) Предупреждение, либо административный штраф, либо лишение права управления маломерным судном на срок до шести месяцев</li><li>г) Административный штраф</li></ul>
---	--

В-4. Какие действия должны предпринять судоводители маломерных моторных судов "А" и "Б" для безопасного расхождения при встречном движении (плавании)?

	<ul style="list-style-type: none"><li>а) Должны изменить курс влево</li><li>б) "А" должен повернуть вправо, а "Б" – влево</li><li>в) "А" должен повернуть влево, а "Б" – вправо</li><li>г) Должны изменить курс вправо</li></ul>
---	--

В-5. Как называется угол между северным направлением меридиана и диаметральной плоскостью судна по направлению его движения?

	<ul style="list-style-type: none"><li>а) пеленг</li><li>б) курсовой угол</li><li>в) курс</li><li>г) магнитный курс</li></ul>
---	--

В-6. Как называется условная линия, соединяющая на водной поверхности реки точки с наибольшей глубиной русла и максимальными скоростями течения?



- а) Перевал
- б) Ход
- в) Ось
- г) Стрежень

В-7. Как называется течение, которое создается у берега на участках, где слив воды направлен к берегу, и вызывает раскат судов в сторону берега?



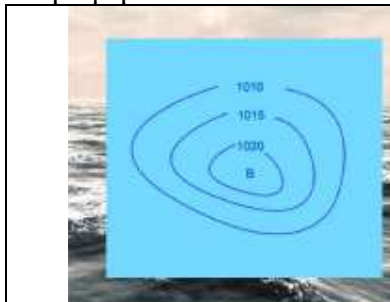
- а) Затяжное
- б) Прижимное
- в) Свальное
- г) Раскатное

В-8. По какой шкале производится визуальная оценка силы ветра?



- а) Саффира – Симпсона
- б) Бофорта
- в) Цельсия
- г) Кельвина

В-9. Как называется область с повышенным давлением, которое понижается от центра к периферии?



- а) Циклон
- б) Шторм
- в) Штиль
- г) Антициклон


В-10. Какое название носят приливы, имеющие две полные и две малые воды в течение лунных суток?




- а) полусуточные;
- б) суточные;
- в) сигизийные;
- г) квадратурные.

## Билет 36 – ВВ


В-1. В присутствии какого лица осуществляется доступ судоводителя (судовладельца) к маломерному судну, задержанному и находящемуся на специализированной стоянке?

	<ul style="list-style-type: none"><li>а) Государственного инспектора по маломерным судам</li><li>б) Представителя милиции</li><li>в) Представителя прокуратуры</li><li>г) Лица, ответственного за хранение судна</li></ul>
---	--

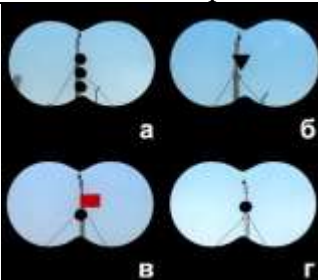
В-2. Что означает знак, выставленный на судне?

	<ul style="list-style-type: none"><li>а) Судно ограничено в возможности маневрировать</li><li>б) Судно стоит на якоре</li><li>в) Судно занято ловом рыбы</li><li>г) Судно осуществляет перевозку опасных грузов</li></ul>
---	---


В-3. За какое из перечисленных нарушений государственный инспектор по маломерным судам имеет право задержать маломерное судно и поместить его на специализированную стоянку для хранения?

	<ul style="list-style-type: none"><li>а) За нарушение правил маневрирования</li><li>б) За превышение установленной скорости</li><li>в) За управление судном в состоянии опьянения</li><li>г) За передачу управления судном лицу, не имеющему права управления</li></ul>
---	---

В-4. Какой из изображенных на иллюстрации сигналов несет судно, терпящее бедствие?

	<ul style="list-style-type: none"><li>а)</li><li>б)</li><li>в)</li><li>г)</li></ul>
---	---

В-5. Как называется наносное (без растительности) образование в русле, омываемое водой со всех сторон?

	<ul style="list-style-type: none"><li>а) Заманиха</li><li>б) Заплесок</li><li>в) Заструга</li><li>г) Осередок</li></ul>
---	---

В-6. Как называется старое русло, спрямленное новым руслом и изолированное от него?



- а) Старица
- б) Пойма
- в) Рукав
- г) Воложка

В-7. Выберите правильное определение термина «курсовой угол»



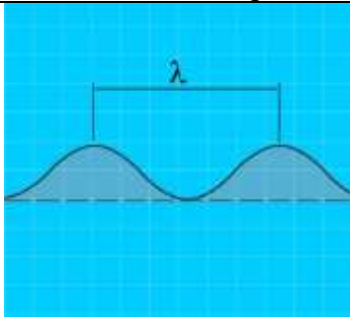
- а) угол между направлением на север и направлением на объект
- б) угол между направлением на север и диаметральной плоскостью судна
- в) угол между диаметральной плоскостью судна и направлением на объект
- г) угол между курсом судна и направлением на объект

В-8. Как называется ветер, при котором воздух перемещается с запада на восток?



- а) Западный;
- б) Восточный;
- в) Северный;
- г) Южный.

В-9. Как называется расстояние между гребнями или подошвами двух смежных волн?



- а) Бег волны
- б) Период волны
- в) Высота волны
- г) Длина волны


В-10. Как называется разновидность тумана при видимости от 1 до 10 км?




- а) Мгла
- б) Дымка
- в) Морось
- г) Рефракция

## Билет 37 – ВВ


В-1. Отметьте правильное определение понятия «полоса движения»:

	<ul style="list-style-type: none"><li>а) судовой ход;</li><li>б) часть судового хода между его осью и правой или левой кромкой;</li><li>в) ось судового хода;</li><li>г) правая сторона судового хода.</li></ul>
---	--


В-2. Что означает звуковой сигнал из трех продолжительных звуков?

	<ul style="list-style-type: none"><li>а) "Прошу уменьшить ход"</li><li>б) "Я изменяю свой курс влево"</li><li>в) "Я намереваюсь сделать оборот"</li><li>г) "Человек за бортом"</li></ul>
---	--


В-3. Какие действия должен предпринять судоводитель маломерного судна "В"?

	<ul style="list-style-type: none"><li>а) Следовать намеченным курсом</li><li>б) Повернуть вправо, чтобы пройти за кормой "Б"</li><li>в) Пройти за кормой судна "А"</li><li>г) Осуществить пропуск судов "А" и "Б"</li></ul>
--	---

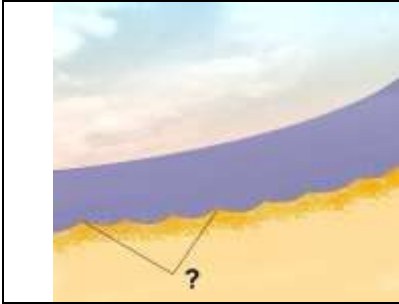
В-4. Кем выносятся постановления о лишении права управления маломерным судном?

	<ul style="list-style-type: none"><li>а) Главным государственным инспектором по маломерным судам</li><li>б) Государственным инспектором по маломерным судам</li><li>в) Судьей</li><li>г) Прокурором</li></ul>
---	---

В-5. Как называется часть реки, образованная при разделении русла островом?

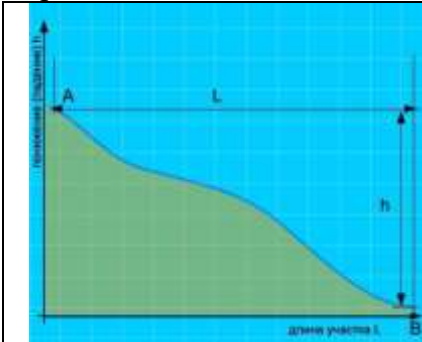
	<ul style="list-style-type: none"><li>а) Старица</li><li>б) Рукав</li><li>в) Прорва</li><li>г) Затон</li></ul>
---	--

В-6. Как называется скопление наносов, отложенных в виде подводной гряды по ширине русла?



- а) Коса
- б) Порог
- в) Отмель
- г) Перекат

В-7. Какая зависимость между продольным уклоном поверхности воды и скоростью течения воды в реке?



- А) Скорость течения уменьшается с увеличением продольного уклона
- б) Скорость течения не зависит от продольного уклона поверхности воды в реке
- в) Скорость течения возрастает с увеличением продольного уклона
- г) Скорость течения возрастает с уменьшением продольного уклона

В-8. Что измеряет барометр-анероид?




- а) Температуру воды
- б) Силу ветра
- в) Влажность воздуха
- г) Атмосферное давление

В-9. Как называется ветер, дующий против течения реки?



- а) Верховой
- б) Низовой
- в) Встречный
- г) Бриз

В-10. Где будет находиться область высокого давления по отношению к человеку, стоящему спиной к ветру в северном полушарии?



- а) впереди;
- б) справа,
- в) слева,
- г) со стороны спины



## Билет 38 – ВВ

В-1. Какое судно несет на наиболее видном месте сигнал - черный конус вершиной вниз?



- а) Судно, стоящее на мели
- б) Судно, стоящее на якоре
- в) Судно, осуществляющее перевозку радиоактивных грузов
- г) Судно, идущее под парусом и одновременно использующее силовую установку

В-2. Какие действия должен предпринять судоводитель маломерного судна "А" при выходе из базы стоянки?



- а) Пропустить "А" и начать движение
- б) Пропустить "Б" и "В" и начать движение
- в) Пропустить судно "Б" и начать движение
- г) Выйти с базы, не пропуская "Б" и "В"

В-3. Какое административное наказание предусмотрено за превышение установленной скорости?



- а) Лишение права управления
- б) Предупреждение
- в) Предупреждение или штраф, или лишение права управления
- г) Штраф

В-4. Как должны расходиться изображенные на иллюстрации суда?



- а) Катер "А" должен уступить дорогу "Б"
- б) Парусно-моторное судно "Б" должно уступить дорогу "А"
- в) Правыми бортами
- г) Левыми бортами


В-5. Как называется длинный изгиб русла вместе с долиной реки?




- а) Излучина
- б) Колено
- в) Лука
- г) Извилина




В-6. Как называется песчаная отмель – бугор в русле реки?

	<ul style="list-style-type: none"><li>а) Огрудок</li><li>б) Лещадь</li><li>в) Печина</li><li>г) Шалыга</li></ul>
--	--


В-7. Как называется угловая разница между направлением на истинный север и направлением на магнитный север?

	<ul style="list-style-type: none"><li>а) Магнитное склонение</li><li>б) Девиация</li><li>в) Угловое склонение</li><li>г) Демаркация</li></ul>
--	---


В-8. Что измеряется ручным анемометром?

	<ul style="list-style-type: none"><li>а) Направление ветра</li><li>б) Скорость течения</li><li>в) Атмосферное давление</li><li>г) Скорость ветра</li></ul>
---	--

В-9. Как называется ветер, дующий в сторону берега?


	<ul style="list-style-type: none"><li>а) Прижимной</li><li>б) Прибрежный</li><li>б) Привальный</li><li>г) Навальный</li></ul>
--	---

В-10. Укажите единицу измерения силы ветра.


	<ul style="list-style-type: none"><li>а) м/сек;</li><li>б) км/час;</li><li>б) балл;</li><li>в) градус.</li></ul>
--	--

## Билет 39 – ВВ


В-1. Что должен выполнить судоводитель в случае неуверенности в оценке ситуации (неясность в действиях других судов, неподача или неправильное подтверждение сигналов, потеря ориентировки, отсутствие или неисправность знаков навигационного оборудования и т.п.)?

	<ul style="list-style-type: none"><li>а) уменьшить ход или прекратить движение до выяснения ситуации;</li><li>б) продолжать движение, не меняя курса и скорости;</li><li>в) максимально быстро покинуть место развития ситуации;</li><li>г) изменить курс и двигаться к ближайшему берегу.</li></ul>
---	--


В-2. Что означает изображенный на иллюстрации знак, выставленный на парусном судне?

	<ul style="list-style-type: none"><li>а) Судно стоит на мели</li><li>б) Судно длиной более 20 м</li><li>в) Судно занимается рыбной ловлей</li><li>г) Судно идет под парусом и мотором одновременно</li></ul>
---	--


В-3. Какое административное наказание предусматривается за нарушение правил маневрирования?

	<ul style="list-style-type: none"><li>а) Административный штраф</li><li>б) Одно из перечисленных</li><li>в) Лишение прав управления маломерным судном</li><li>г) Предупреждение</li></ul>
--	---


В-4. В каком из перечисленных случаев маломерному судну разрешается маневрировать на акватории пляжа?

	<ul style="list-style-type: none"><li>а) Только на самом малом ходу</li><li>б) Только с принятием всех необходимых мер предосторожности</li><li>в) Ни в одном из перечисленных случаев не разрешается</li><li>г) Если в непосредственной близости от судна нет купающихся людей</li></ul>
---	---


В-5. Как называется часть реки, которая образовалась при разделении русла островом?

	<ul style="list-style-type: none"><li>а) Пойма</li><li>б) Протока</li><li>в) Старица</li><li>г) Рукав</li></ul>
---	---


В-6. Для чего из перечисленного ниже используется магнитный компас?

	<ul style="list-style-type: none"><li>а) Измерение скорости и расстояния до пункта назначения</li><li>б) снятие пеленга на объект</li><li>в) Определение расстояния от объекта</li><li>г) Для всего вышеперечисленного</li></ul>
---	--

В-7. Как называется отклонение движущегося судна от курса под влиянием течения?

	<ul style="list-style-type: none"><li>а) дрейф</li><li>б) дифферент</li><li>в) снос</li><li>г) слеминг</li></ul>
---	--


В-8. Признаком какого изменения погоды является резкое падение атмосферного давления?

	<ul style="list-style-type: none"><li>а) Изменения направления ветра</li><li>б) Улучшения погоды</li><li>в) Устойчивой хорошей погоды</li><li>г) Приближения шторма</li></ul>
--	---

В-9. Как называется явление скопления микроскопических капелек воды в нижних слоях атмосферы?


	<ul style="list-style-type: none"><li>а) Мгла</li><li>б) Морось</li><li>в) Дымка</li><li>г) Туман</li></ul>
---	---

В-10. Какое название носят приливы, имеющие одну полную и одну малую воду в течение суток?


	<ul style="list-style-type: none"><li>а) полусуточные;</li><li>б) суточные;</li><li>в) сизигийные;</li><li>г) квадратурные.</li></ul>
---	---

## Билет 40 – ВВ


В-1. В чьи обязанности входит проведение инструктажа пассажиров по правилам поведения на маломерном судне во время плавания?

	<ul style="list-style-type: none"><li>а) Государственного инспектора по маломерным судам</li><li>б) Должностного лица базы (сооружения) для стоянки маломерных судов</li><li>в) Судовладельца</li><li>г) Судоводителя</li></ul>
---	---


В-2. Что означает звуковой сигнал – серия, не менее пяти коротких звуков?

	<ul style="list-style-type: none"><li>а) "Мои двигатели работают на задний ход"</li><li>б) "Предупреждение"</li><li>в) "Прошу уменьшить ход"</li><li>г) "Я намереваюсь остановиться"</li></ul>
---	--


В-3. В течение какого срока гражданин, в отношении которого вынесено административное наказание, имеет право обжаловать постановление по делу об административном правонарушении?

	<ul style="list-style-type: none"><li>а) 5 суток</li><li>б) 20 суток</li><li>в) 15 суток</li><li>г) 10 суток</li></ul>
---	--

В-4. Как должно осуществляться маневрирование маломерных судов при расхождении на водных объектах, не имеющих навигационной обстановки?

	<ul style="list-style-type: none"><li>а) С учетом направления течения</li><li>б) С учетом левостороннего движения</li><li>в) С учетом правостороннего движения</li><li>г) Порядок расхождения не установлен</li></ul>
---	---

В-5. Как называется отклонение движущегося судна от курса под влиянием ветра?

	<ul style="list-style-type: none"><li>а) дрейф</li><li>б) дифферент</li><li>в) крен</li><li>г) слеминг</li></ul>
---	--

В-6. Как называется часть старого русла, соединенное с действующим?




- а) Левая пойма
- б) Приток
- в) Правая пойма
- г) Затон

В-7. Как называется отклонение стрелки компаса от магнитного севера под влиянием внешних магнитных полей?



- а) Магнитное склонение
- б) Девиация
- в) Угловое склонение
- г) Демаркация

В-8. Как называется область с повышенным давлением, которое понижается от центра к периферии?



- а) Циклон
- б) Шторм
- в) Штиль
- г) Антициклон

В-9. Как называется прибор для наблюдения за изменениями атмосферного давления и графической записи показаний?



- а) Барометр
- б) Гидролокатор
- в) Барограф
- г) Анемометр

В-10. Какое название носят приливы, которые наблюдаются в дни первой и последней четвертей луны?



- а) полусуточные;
- б) суточные;
- в) сигизийные;
- г) квадратурные.

## Ключи ВВ

### Ключ 21

1 – г	2 – г	3 – г	4 – г	5 – г
6 – г	7 – г	8 – а	9 – г	10 – б

### Ключ 22

1 – в	2 – г	3 – б	4 – г	5 – г
6 – г	7 – а	8 – г	9 – в	10 – г

### Ключ 23

1 – г	2 – г	3 – а	4 – б	5 – г
6 – в	7 – в	8 – в	9 – г	10 – г

### Ключ 24

1 – б	2 – г	3 – г	4 – а	5 – г
6 – г	7 – г	8 – г	9 – г	10 – б

### Ключ 25

1 – г	2 – г	3 – в	4 – г	5 – г
6 – г	7 – б	8 – г	9 – г	10 – в

### Ключ 26

1 – б	2 – г	3 – г	4 – г	5 – а
6 – г	7 – г	8 – г	9 – г	10 – б

### Ключ 27

1 – г	2 – в	3 – а	4 – г	5 – в
6 – г	7 – в	8 – г	9 – а	10 – г

### Ключ 28

1 – г	2 – г	3 – г	4 – г	5 – в
6 – г	7 – в	8 – г	9 – г	10 – а

### Ключ 29

1 – а	2 – г	3 – г	4 – г	5 – а
6 – б	7 – г	8 – г	9 – б	10 – г



## Ключи ВВ

### Ключ 30

1 – г	2 – г	3 – в	4 – в	5 – а
6 – а	7 – г	8 – г	9 – в	10 – б

### Ключ 31

1 – г	2 – а	3 – б	4 – г	5 – а
6 – г	7 – б	8 – г	9 – б	10 – г

### Ключ 32

1 – а	2 – г	3 – в	4 – г	5 – в
6 – г	7 – в	8 – а	9 – г	10 – в

### Ключ 33

1 – в	2 – а	3 – г	4 – в	5 – а
6 – г	7 – б	8 – г	9 – а	10 – г

### Ключ 34

1 – г	2 – а	3 – в	4 – г	5 – г
6 – б	7 – в	8 – а	9 – г	10 – в

### Ключ 35

1 – б	2 – г	3 – в	4 – г	5 – в
6 – г	7 – б	8 – б	9 – г	10 – а

### Ключ 36

1 – г	2 – б	3 – в	4 – в	5 – г
6 – а	7 – в	8 – а	9 – г	10 – б

### Ключ 37

1 – б	2 – г	3 – г	4 – в	5 – б
6 – г	7 – в	8 – г	9 – б	10 – б

### Ключ 38

1 – г	2 – б	3 – в	4 – г	5 – в
6 – г	7 – а	8 – г	9 – г	10 – б

### Ключ 39

1 – а	2 – г	3 – б	4 – в	5 – г
6 – б	7 – в	8 – г	9 – г	10 – б

### Ключ 40

1 – г	2 – б	3 – г	4 – в	5 – а
6 – г	7 – б	8 – г	9 – в	10 – г