



Билет 11 – ВВ


В-1. Каким нормативным документом регулируется безопасность судоходства маломерных судов на внутренних водах, не включенных в Перечень внутренних водных путей Российской Федерации?

	<ul style="list-style-type: none">а) Правилами плавания по внутренним водным путям Российской Федерации;б) Правилами пользования маломерными судами на водных объектах Российской Федерации;в) Кодексом внутреннего водного транспорта Российской Федерации;г) Водным кодексом Российской Федерации.
---	---


В-2. Что означает знак, выставленный на судне?

	<ul style="list-style-type: none">а) Судно ограничено в возможности маневрироватьб) Судно занято ловом рыбыв) Судно осуществляет перевозку опасных грузовг) Судно стоит на якоре
---	---


В-3. Какое административное наказание предусмотрено за передачу управления маломерным судном лицу, не имеющему на это права?

	<ul style="list-style-type: none">а) Лишение права управленияб) Предупреждениев) Предупреждение или штрафг) Штраф
---	--


В-4. При каких условиях разрешается пересадка людей с одного судна на другое во время движения?

	<ul style="list-style-type: none">а) При отсутствии ветра и волненияб) При отсутствии ветра и волнения с обязательно надетым на пересаживаемого человека спасательным жилетомв) Если по условиям плавания нет возможности остановить судаг) Пересадка во время движения запрещена во всех случаях
---	--


В-5. Как называется наносное (без растительности) образование в русле, омываемое водой со всех сторон?

	<ul style="list-style-type: none">а) Заманихаб) Заплесокв) Застругаг) Осередок
---	---


В-6. Как называется большое скопление камней в русле либо каменная коса?

	<ul style="list-style-type: none">а) Шалыгаб) Огрудокв) Печинаг) Гряда
---	---


В-7. Как называется отклонение движущегося судна от курса под влиянием ветра?

	<ul style="list-style-type: none">а) дрейфб) дифферентв) кренг) слеминг
---	--


В-8. Как называется ветер, дующий в сторону берега?

	<ul style="list-style-type: none">а) Прижимнойб) Прибрежныйв) Привальныйг) Навальный
--	---

В-9. Укажите единицу измерения силы ветра.


	<ul style="list-style-type: none">а) м/сек;б) км/час;в) балл;г) градус.
---	--

В-10. Какое название носят приливы, которые наблюдаются в дни новолуния и полнолуния?

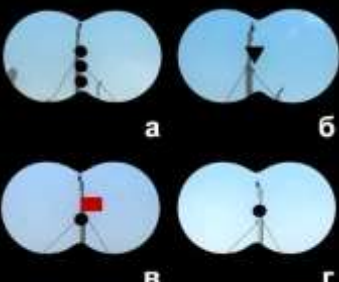
	<ul style="list-style-type: none">а) полусуточные;б) суточные;в) сигизийные;г) квадратурные.
---	---

Билет 12 – ВВ


В-1. Что должен выполнить судоводитель для предотвращения непосредственно угрожающей опасности или ее возможных последствий?

	<ul style="list-style-type: none">а) следовать безопасной скоростьюб) уменьшить скорость до минимальнойв) увеличить скорость до максимальнойг) остановиться
---	--


В-2. Какой из изображенных на иллюстрации сигналов несет судно, терпящее бедствие?

	<ul style="list-style-type: none">а) а)б) б)в) г)г) в)
---	---


В-3. Какое административное наказание предусмотрено за управление маломерным судном с нарушением ограничений по району плавания?

	<ul style="list-style-type: none">а) Предупреждениеб) Предупреждение или штраф, или лишение права управленияв) Штраф или лишение права управленияг) Штраф
---	--

В-4. Как должны расходиться изображенные на иллюстрации суда?

	<ul style="list-style-type: none">а) Катер "А" должен уступить дорогу "Б"б) Парусно-моторное судно "Б" должно уступить дорогу "А"в) Правыми бортамиг) Левыми бортами
---	---

В-5. Как называется клиновидное отложение наносов, образованное у выпуклого берега и расположенное под углом к нему вниз по течению?

	<ul style="list-style-type: none">а) Заманихаб) Застругав) Грядаг) Коса
---	--

В-6. Как называется часть реки, образованная при разделении русла островом?



- а) Прорва
- б) Затон
- в) Старица
- г) Рукав

В-7. Как называется угловая разница между направлением на истинный север и направлением на магнитный север?



- а) Магнитное склонение
- б) Девиация
- в) Угловое склонение
- г) Демаркация

В-8. Как называется разновидность тумана при видимости от 1 до 10 км?



- а) Мгла
- б) Рефракция
- в) Морось
- г) Дымка

В-9. Что означает выражение «Шторм 9 баллов»?



- а) волна высотой 9 метров;
- б) ветер скоростью 9 м/сек;
- в) ветер скоростью 9 км/час;
- г) ветер силой 9 баллов.


В-10. Какое название носят приливы, которые наблюдаются в дни первой и последней четвертей луны?




- а) полусуточные;
- б) суточные;
- в) сигизийные;
- г) квадратурные.

Билет 13 – ВВ


В-1. Какой документ, выдаваемый собственнику маломерного судна, подтверждает право плавания под Государственным флагом Российской Федерации?

	<ul style="list-style-type: none">а) Удостоверение на право управления маломерными судамиб) Технический талонв) Акт технического освидетельствованияг) Судовой билет
---	---


В-2. Как должны маневрировать маломерные суда для расхождения друг с другом на акватории, не имеющей судоходной обстановки?

	<ul style="list-style-type: none">а) Так, чтобы разойтись правыми бортамиб) Так, чтобы расстояние между ними было не менее 50 мв) Так, чтобы расстояние между ними было не менее трех длин корпуса большего суднаг) Так, чтобы разойтись левыми бортами
---	--


В-3. Какое административное наказание предусмотрено за утерю или утрату удостоверения на право управления маломерным судном?

	<ul style="list-style-type: none">а) Предупреждениеб) Предупреждение или штрафв) Штрафг) Наказание не предусмотрено
---	--


В-4. В течение какого срока действует удостоверение на право управления маломерным судном с момента его выдачи?

	<ul style="list-style-type: none">а) 5 летб) 15 летв) Бессрочног) 10 лет
---	---


В-5. Как называется неправильное (беспорядочное) вращательное течение в реке, вызываемое либо столкновением струй двух водных потоков (спорными водами), либо наличием на дне реки крупных предметов?

	<ul style="list-style-type: none">а) Майданб) Взбросыв) Толчаяг) Суводь
---	--


В-6. Выберите правильное определение термина «пеленг»

	<p>а) угол между направлением на север и направлением на объект б) угол между направлением на север и диаметральной плоскостью судна в) угол между диаметральной плоскостью судна и направлением на объект г) угол между курсом судна и направлением на объект</p>
---	--


В-7. Как называется направление на географический северный полюс?

	<p>а) магнитный север б) истинный север в) север по компасу г) полюсный север</p>
---	---


В-8. Как называется явление скопления микроскопических капелек воды в нижних слоях атмосферы?

	<p>а) Мгла б) Морось в) Дымка г) Туман</p>
--	--

В-9. Как называется ветер, при котором воздух перемещается с запада на восток?


	<p>а) Западный; б) Восточный; в) Северный; г) Южный.</p>
---	--

В-10. Как называется ветер, который дует днем с моря на сушу, а ночью с суши на море?


	<p>а) пассат; б) бора; в) бриз; г) муссон.</p>
---	--

Билет 14 – ВВ


В-1. Какому из перечисленных судов НЕ должно уступать дорогу парусное судно на ходу?

	<ul style="list-style-type: none">а) одиночное самоходное судно, толкающее или буксирующее состав (кроме плота);б) судно, занятое ловом рыбы;в) судно, буксирующее плот;г) судно, лишенное возможности управляться, занятое подводными или водолазными работами
---	--


В-2. По какому борту одно маломерное судно должно обгонять другое маломерное судно?

	<ul style="list-style-type: none">а) Обгон не разрешаетсяб) По любому бортув) По правому борту обгоняемого суднаг) По левому борту обгоняемого судна
---	---

В-3. Какое административное наказание предусмотрено за управление маломерным судном судоводителем или иным лицом, находящимся в состоянии опьянения?

	<ul style="list-style-type: none">а) Лишение прав управления маломерным судномб) Предупреждениев) Штрафг) Штраф или лишение прав управления маломерным судном
--	--


В-4. Какие действия должен предпринять судоводитель маломерного судна "А" для безопасного расхождения?

	<ul style="list-style-type: none">а) Застопорить ход и остановитьсяб) Изменить курс влевов) Следовать прежним курсомг) Изменить курс вправо
---	--


В-5. Как называется вращательное движение воды в реке, возникающее, как правило, за выступами берегов, мысами, выпуклыми берегами, мостовыми опорами, дамбами?

	<ul style="list-style-type: none">а) Майданб) Водоворотв) Бурунг) Суводь
---	---

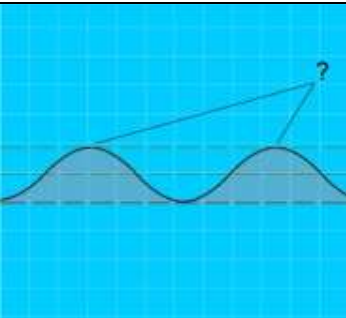
В-6. Как называется отклонение стрелки компаса от магнитного севера под влиянием внешних магнитных полей?

	<ul style="list-style-type: none">а) Магнитное склонениеб) Девиацияв) Угловое склонениег) Демаркация
---	---

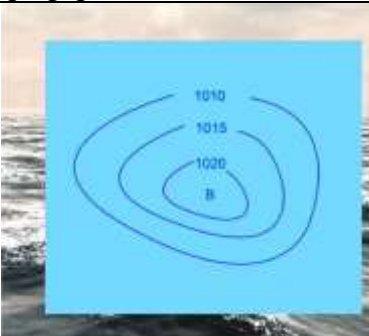
В-7. Как называется отклонение движущегося судна от курса под влиянием ветра?

	<ul style="list-style-type: none">а) дрейфб) дифферентв) кренг) слеминг
---	--


В-8. Как называется наивысшая точка волнового профиля?

	<ul style="list-style-type: none">а) Взбросб) Подошвав) Высотаг) Гребень
--	---

В-9. Как называется область с повышенным давлением, которое понижается от центра к периферии?


	<ul style="list-style-type: none">а) Циклонб) Штормв) Штильг) Антициклон
---	---

В-10. По какой шкале производится визуальная оценка силы ветра?


	<ul style="list-style-type: none">а) Саффира – Симпсонаб) Бофортав) Цельсияг) Кельвина
---	---

Билет 15 – ВВ


В-1. Какова периодичность проведения очередного освидетельствования маломерного судна?

	<ul style="list-style-type: none">а) Один раз в 5 летб) Один раз в 2 годав) Один раз в 3 годаг) Ежегодно
---	---


В-2. Должно ли маломерное моторное судно на ходу уступить дорогу парусному судну?

	<ul style="list-style-type: none">а) Не должноб) Должно, если парусное судно идет правым галсомв) Должно, если парусное судно приближается с левого бортаг) Должно в любом случае
---	--


В-3. Какое административное наказание предусматривается за управление маломерным судном, судоводителем, не имеющем при себе судового билета?

	<ul style="list-style-type: none">а) Предупреждениеб) Предупреждение либо административный штрафв) Предупреждение, либо административный штраф, либо лишение права управления маломерным судном на срок до шести месяцевг) Административный штраф
---	--

В-4. В каких случаях моторное маломерное судно должно уступить дорогу гребной лодке?

	<ul style="list-style-type: none">а) Если гребная лодка находится слеваб) Если гребная лодка находится справав) Если гребная лодка находится по курсуг) Во всех случаях
---	--

В-5. Как называется течение, которое создается у берега на участках, где слив воды направлен к берегу, и вызывает раскат судов в сторону берега?

	<ul style="list-style-type: none">а) Затяжноеб) Раскатноев) Свальноег) Прижимное
---	---

В-6. Как называется часть реки, которая образовалась при разделении русла островом?



- а) Пойма
- б) Протока
- в) Старица
- г) Рукав

В-7. Как называется угол между диаметральной плоскостью судна и направлением на магнитный север?



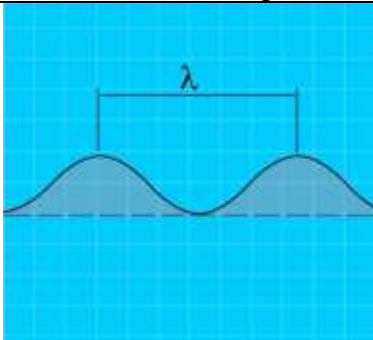
- а) курс
- б) компасный курс
- в) истинный курс
- г) магнитный курс

В-8. Что измеряется ручным анемометром?



- а) Направление ветра
- б) Скорость течения
- в) Атмосферное давление
- г) Скорость ветра

В-9. Как называется расстояние между гребнями или подошвами двух смежных волн?



- а) Бег волны
- б) Период волны
- в) Высота волны
- г) Длина волны


В-10. Как называется явление скопления микроскопических капелек воды в нижних слоях атмосферы?




- а) Мгла
- б) Морось
- в) Дымка
- г) Туман

Билет 16 – ВВ


В-1. При какой мощности подвесного лодочного мотора (двигателя) маломерное судно массой более 200 кг подлежит государственной регистрации?

	<ul style="list-style-type: none">а) Более 3,68 кВтб) Более 5 кВтв) Более 8 кВтг) Более 10 кВт
---	---


В-2. Какие действия должно предпринять судно, которому уступают дорогу?

	<ul style="list-style-type: none">а) Увеличить свою скоростьб) Увеличить свою скорость и изменить курс на 10 градусов вправов) Изменить свой курс на 10 градусов вправог) Сохранить свой курс и скорость
---	---


В-3. За какое из перечисленных нарушений государственный инспектор по маломерным судам имеет право отстранить судоводителя от управления и поместить маломерное судно на стоянку и хранение?

	<ul style="list-style-type: none">а) За нарушение правил погрузки и разгрузки маломерных судовб) За управление судном, не прошедшим технического освидетельствованияв) За нарушение правил обеспечения безопасности пассажиров в пути следованияг) За управление маломерным судном без удостоверения на право управления, судового билета или его копии, заверенной в установленном порядке
---	--


В-4. Какому из маломерных судов должно уступить дорогу маломерное судно "Б"?

	<ul style="list-style-type: none">а) Бб) А и Вв) Никакомуг) В
---	--


В-5. Как называется столкновение струй двух водных потоков (слияние рукавов)?

	<ul style="list-style-type: none">а) Взбросб) Толчаяв) Прибойг) Спорные воды
---	---


В-6. Как называется угол между северным направлением меридиана и диаметральной плоскостью судна по направлению его движения?

	<ul style="list-style-type: none">а) пеленгб) курсовой уголв) курсг) магнитный курс
---	--


В-7. Пеленг на какой из объектов необходимо взять в последнюю очередь при определении места судна?

	<ul style="list-style-type: none">а) на объект, находящийся по носуб) на объект, находящийся по кормев) на объект, находящийся на траверзег) на любой из перечисленных
---	---


В-8. Что измеряет барометр-анероид?

	<ul style="list-style-type: none">а) Температуру водыб) Силу ветрав) Влажность воздухаг) Атмосферное давление
--	--

В-9. Как называется разновидность тумана при видимости от 1 до 10 км?


	<ul style="list-style-type: none">а) Мглаб) Рефракцияв) Моросьг) Дымка
---	---

В-10. Что означает выражение «Шторм 9 баллов»?


	<ul style="list-style-type: none">а) волна высотой 9 метров;б) ветер скоростью 9 м/сек;в) ветер скоростью 9 км/час;г) ветер силой 9 баллов.
---	--

Билет 17 – ВВ


В-1. В течение какого срока собственник маломерного судна обязан сообщить в орган государственной регистрации судна о любом изменении сведений, внесенных в судовую книгу?

	<ul style="list-style-type: none">а) В течение неделиб) В течение месяцав) В течение трех недельг) В течение двух недель
---	---


В-2. Что означают непрерывно повторяющиеся продолжительные сигналы либо непрерывные частые удары в колокол или металлический предмет, подаваемые судном?

	<ul style="list-style-type: none">а) Прошу выйти на связьб) Человек за бортомв) Предупреждениег) Сигнал бедствия
--	---


В-3. Какое административное наказание предусмотрено за управление маломерным судном, не зарегистрированным в установленном порядке?

	<ul style="list-style-type: none">а) Предупреждениеб) Предупреждение либо административный штрафв) Предупреждение, либо административный штраф, либо лишение права управления маломерным судномг) Административный штраф
---	---


В-4. Какому из маломерных судов должно уступить дорогу маломерное судно "А"?

	<ul style="list-style-type: none">а) Вб) Обоим судамв) Ни одному из судовг) Б
---	--


В-5. Как называется длинный изгиб русла вместе с долиной реки?

	<ul style="list-style-type: none">а) Излучинаб) Коленов) Лукаг) Извилина
---	---


В-6. Выберите правильное определение термина «курсовой угол»

	<ul style="list-style-type: none">а) угол между направлением на север и направлением на объектб) угол между направлением на север и диаметральной плоскостью суднав) угол между диаметральной плоскостью судна и направлением на объектг) угол между курсом судна и направлением на объект
---	---


В-7. Как называется местоположение судна, полученное путем обработки результатов визуальных наблюдений различных ориентиров, положение которых известно?

	<ul style="list-style-type: none">а) обсервованноеб) счислимоев) истинноег) расчетное
---	--


В-8. Как называется ветер, дующий в сторону берега?

	<ul style="list-style-type: none">а) Прижимнойб) Прибрежныйв) Привальныйг) Навальный
--	---

В-9. Признаком какого изменения погоды является резкое падение атмосферного давления?


	<ul style="list-style-type: none">а) Изменения направления ветраб) Улучшения погодыв) Устойчивой хорошей погодыг) Приближения шторма
---	---

В-10. Укажите единицу измерения силы ветра.


	<ul style="list-style-type: none">а) м/сек;б) км/час;в) балл;г) градус.
---	--

Билет 18 – ВВ


В-1. Сколько метров составляет ширина береговой полосы водных объектов общего использования?

	<ul style="list-style-type: none">а) 10 мб) 30 мв) 50 мг) 20 м
---	---


В-2. На каком судне выставляется изображенный на иллюстрации сигнал?

	<ul style="list-style-type: none">а) Судно на мелиб) Судно, занятое дноуглубительными работамив) Судно, лишенное возможности управляться, на якоред) Судно терпит бедствие и нуждается в помощи
---	--

В-3. Какое административное наказание предусматривается за нарушение лицом, управляющим маломерным судном, правил маневрирования?

	<ul style="list-style-type: none">а) Административный штрафб) Предупреждениев) Предупреждение либо административный штрафг) Предупреждение, либо административный штраф, либо лишение права управления маломерным судном на срок до шести месяцев
---	--

В-4. Какой из маневров на моторной лодке "А" является наиболее эффективным, чтобы уступить дорогу катеру "Б"?

	<ul style="list-style-type: none">а) Сделать оборот через левый бортб) Повернуть влево на 10 градв) Повернуть вправо на 10 градг) Уменьшить скорость и повернуть под корму катера "Б"
---	--

В-5. Как называется крутой и короткий изгиб русла в пределах долины реки?

	<ul style="list-style-type: none">а) Извилинаб) Излучинав) Лукаг) Колено
---	---

В-6. Как называется часть речной долины, затапливаемая при половодье (1 и 2)?



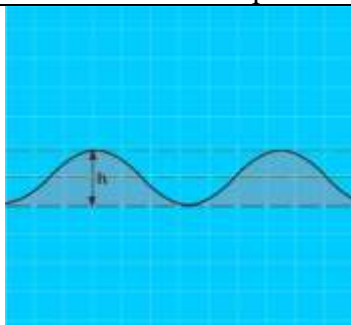
- а) Затон
- б) Воложка
- в) Протока
- г) Пойма

В-7. Для чего из перечисленного ниже используется магнитный компас?



- а) Измерение скорости и расстояния до пункта назначения
- б) Снятие пеленга на объект
- в) Определение расстояния от объекта
- г) Для всего вышеперечисленного

В-8. Как называется расстояние (h) от подошвы до гребня волны?



- а) Период волны
- б) Диаметр волны
- в) Длина волны
- г) Высота волны

В-9. Какую погоду следует ожидать при резком падении атмосферного давления и появлении перисто-кучевых облаков?



- а) Изменение направления ветра
- б) Усиления дождя
- в) Ухудшение погоды через 6-10 часов
- г) Грозу и шторм через 1-2 часа


В-10. По какой шкале производится визуальная оценка силы ветра?




- а) Саффира – Симпсона
- б) Бофорта
- в) Цельсия
- г) Кельвина

Билет 19 – ВВ


В-1. Какое движение флага-отмашки днем означает сигнал "Прошу остановиться"?

	<ul style="list-style-type: none">а) Вертикальноеб) Вращательноев) Любоег) Горизонтальное
---	--


В-2. Что обозначают изображенные на иллюстрации знаки?

	<ul style="list-style-type: none">а) Лоцманское судно при исполнении своих обязанностейб) Судно, занятое буксировкой с длиной буксира более 200 мв) Судно, ограниченное в возможности маневрировать, на ходуг) Судно, лишенное возможности управляться
---	---


В-3. Какое административное наказание предусмотрено за преднамеренную остановку или стоянку судна в запрещенных местах?

	<ul style="list-style-type: none">а) Административный штрафб) Предупреждениев) Предупреждение либо административный штрафг) Предупреждение, либо административный штраф, либо лишение права управления маломерным судном на срок до шести месяцев
---	--

В-4. Кто допускается к управлению маломерным судном?

	<ul style="list-style-type: none">а) Лицо, имеющее действительный диплом на право занятия судоводительской должностиб) Лицо, имеющее справку об окончании курсов подготовки судоводителей маломерных судовв) Любой совершеннолетний гражданин Российской Федерацииг) Лицо, имеющее действующее удостоверение на право управления маломерным судном
---	---

В-5. Как называется невысокий обрывистый, как правило, вогнутый берег?

	<ul style="list-style-type: none">а) Обрывб) Оврагв) Пескиг) Яр
---	--

В-6. Как называется старое русло, спрямленное новым руслом и изолированное от него?



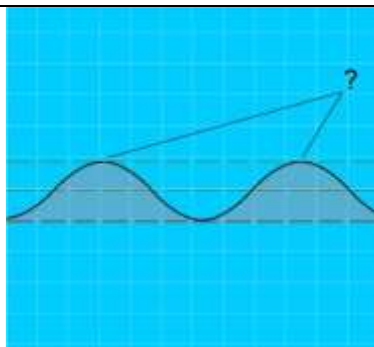
- а) Воложка
- б) Пойма
- в) Рукав
- г) Старица

В-7. Как называется угловая разница между направлением на истинный север и направлением на магнитный север?



- а) Магнитное склонение
- б) Девиация
- в) Угловое склонение
- г) Демаркация

В-8. Как называется наивысшая точка волнового профиля?



- а) Взброс
- б) Подошва
- в) Высота
- г) Гребень

В-9. Как называется прибор для наблюдения за изменениями атмосферного давления и графической записи показаний



- а) Барометр
- б) Гидролокатор
- в) Анемометр
- г) Барограф


В-10. Как называется ветер, который дует днем с моря на сушу, а ночью с суши на море?




- а) пассат;
- б) бора;
- в) бриз;
- г) муссон.

Билет 20 – ВВ


В-1. На какие органы (организации) Водным кодексом РФ возложены обязанности об информировании жителей в случае введения запрета (ограничения) на использование маломерных судов на водных объектах общего пользования?

	<ul style="list-style-type: none">а) На ВОСВОДб) На инспекторские подразделенияв) ГИМСг) На территориальные органы МЧС Россиид) На органы местного самоуправления
---	---


В-2. Что означает поднятый на судне сигнал?

	<ul style="list-style-type: none">а) Судно на мелиб) Судно занято дноуглубительными работамив) Судно, лишенное возможности управляться, на якоред) Судно терпит бедствие и нуждается в помощи
---	--


В-3. Какое административное наказание предусмотрено за управление маломерным судном, не несущим бортовых номеров?

	<ul style="list-style-type: none">а) Лишение права управленияб) Предупреждение или штрафв) Предупреждение или штраф, или лишение права управленияг) Штраф
---	--

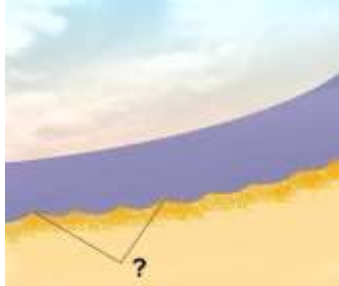
В-4. Какие документы во время плавания должен иметь при себе судоводитель моторного маломерного судна, если он сам управляет этим судном?

	<ul style="list-style-type: none">а) Удостоверение на право управленияб) Акт технического освидетельствованияв) Судовой билет (или его копию)г) Судовой билет (или его заверенную копию) и удостоверение на право управления
---	---

В-5. Как называется место начала реки?

	<ul style="list-style-type: none">а) Воложкаб) Протокав) Стреженьг) Исток
---	--

В-6. Как называется скопление наносов, отложенных в виде подводной гряды по ширине русла?



- а) Коса
- б) Порог
- в) Отмель
- г) Перекат

В-7. Как называется угол между диаметральной плоскостью судна и направлением на истинный север?



- а) курс
- б) компасный курс
- в) истинный курс
- г) магнитный курс

В-8. Как называется прибор для наблюдения за изменениями атмосферного давления и графической записи показаний?



- а) Барометр
- б) Гидролокатор
- в) Анемометр
- г) Барограф

В-9. Какую погоду следует ожидать при резком падении атмосферного давления и появлении перисто-кучевых облаков?



- а) Изменение направления ветра
- б) Усиления дождя
- в) Ухудшение погоды через 6-10 часов
- г) Грозу и шторм через 1-2 часа

В-10. По какой шкале производится визуальная оценка силы ветра?



- а) Саффира – Симпсона
- б) Бофорта
- в) Цельсия
- г) Кельвина

Ключи ВВ

Ключ 11

1 – б	2 – г	3 – г	4 – г	5 – г
6 – г	7 – а	8 – г	9 – в	10 – в

Ключ 12

1 – б	2 – г	3 – г	4 – г	5 – г
6 – г	7 – а	8 – г	9 – г	10 – г

Ключ 13

1 – г	2 – г	3 – г	4 – г	5 – а
6 – а	7 – б	8 – г	9 – а	10 – в

Ключ 14

1 – а	2 – г	3 – г	4 – г	5 – г
6 – б	7 – а	8 – г	9 – г	10 – б

Ключ 15

1 – а	2 – г	3 – б	4 – г	5 – г
6 – г	7 – г	8 – г	9 – г	10 – г

Ключ 16

1 – в	2 – г	3 – г	4 – г	5 – г
6 – в	7 – в	8 – г	9 – г	10 – г

Ключ 17

1 – г	2 – г	3 – г	4 – г	5 – в
6 – в	7 – а	8 – г	9 – г	10 – в

Ключ 18

1 – г	2 – д	3 – г	4 – г	5 – г
6 – г	7 – б	8 – г	9 – г	10 – б

Ключ 19

1 – г	2 – г	3 – г	4 – г	5 – г
6 – г	7 – а	8 – г	9 – г	10 – в

Ключ 20

1 – д	2 – д	3 – г	4 – г	5 – г
6 – г	7 – в	8 – г	9 – г	10 – б