


**Министерство Российской Федерации
по делам гражданской обороны, чрезвычайным ситуациям и
ликвидации последствий стихийных бедствий**

Управление безопасности людей на водных объектах


**Экзаменационные билеты
для аттестации граждан на право управления маломерным судном
в районе плавания ВВ**

Билет 1 – ВВ


В-1. Что означает сигнал - горизонтальное движение флагом - отмашкой, подаваемый с патрульного судна ГИМС?

	<ul style="list-style-type: none">а) "Подойдите к моему борту"б) "Прошу лечь на обратный курс"в) "Проходите по борту со стороны отмашки"г) "Прошу остановить судно"
---	--


В-2. Что обозначает изображенный на иллюстрации знак?

	<ul style="list-style-type: none">а) Судно на ходуб) Судно, осуществляющее перевозку радиоактивных грузовв) Судно, идущее под парусом и одновременно использующее силовую установкуг) Судно, стоящее на якоре
---	--


В-3. На какой срок задерживается маломерное судно при совершении административного правонарушения?

	<ul style="list-style-type: none">а) На срок до рассмотрения дела об административном правонарушенииб) На срок до составления протокола об административном правонарушениив) На срок до вступления постановления по делу об административном правонарушении в законную силуг) На срок до устранения причины задержания
---	---


В-4. При каком условии можно перевозить на маломерном судне детей дошкольного возраста?

	<ul style="list-style-type: none">а) В сопровождении взрослого, не связанного с управлением гидроциклаб) При наличии одетого на ребенка спасательного жилетав) Если ребенок умеет плаватьг) Нельзя ни при каких условиях
---	---


В-5. Как называется место начала реки?

	<ul style="list-style-type: none">а) Воложкаб) Протокав) Стреженьг) Исток
---	--


В-6. Как называется часть реки, которая образовалась при разделении русла островом?

	<ul style="list-style-type: none">а) Поймаб) Протокав) Старицаг) Рукав
---	---


В-7. Как называется угол между северным направлением меридиана и диаметральной плоскостью судна по направлению его движения?

	<ul style="list-style-type: none">а) пеленгб) курсовой уголв) курсг) магнитный курс
---	--


В-8. Что измеряет барометр-анероид?

	<ul style="list-style-type: none">а) Температуру водыб) Силу ветрав) Влажность воздухаг) Атмосферное давление
--	--

В-9. Как называется интенсивное (при забрызгивании) нарастание слоя льда на палубе, фальшборте, надстройках, рангоуте и палубных судовых устройствах?


	<ul style="list-style-type: none">а) Замораживаниеб) Наледьв) Обмораживаниег) Обледенение
---	--

В-10. Какое название носят приливы, которые наблюдаются в дни первой и последней четверти луны?


	<ul style="list-style-type: none">а) полусуточные;б) суточные;в) сигизийные;г) квадратурные.
---	---

Билет 2 – ВВ


В-1. В присутствии какого лица осуществляется доступ судоводителя (судовладельца) к маломерному судну, задержанному и находящемуся на специализированной стоянке?

	<ul style="list-style-type: none">а) Государственного инспектора по маломерным судамб) Представителя милициив) Представителя прокуратурыг) Лица, ответственного за хранение судна
---	--


В-2. Как должен производиться обгон маломерным судном другого маломерного судна?

	<ul style="list-style-type: none">а) По правому борту обгоняемого суднаб) По правому борту при следовании внизв) По правому борту при следовании вверхг) По левому борту обгоняемого судна
---	---

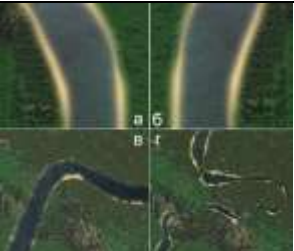
В-3. В течение какого срока гражданин, в отношении которого вынесено административное наказание, имеет право обжаловать постановление по делу об административном правонарушении?

	<ul style="list-style-type: none">а) 5 сутокб) 20 сутокв) 15 сутокг) 10 суток
---	--


В-4. В каком из перечисленных случаев маломерному судну разрешается маневрировать на акватории пляжа?

	<ul style="list-style-type: none">а) Только на самом малом ходуб) Только с принятием всех необходимых мер предосторожностив) Если в непосредственной близости от судна нет купающихся людейг) Ни в одном из перечисленных случаев не разрешается
---	---


В-5. Какой из этих изгибов реки называется "лука"?

	<ul style="list-style-type: none">а)б)в)г)
---	---


В-6. Как называется отклонение движущегося судна от курса под влиянием течения?

	<ul style="list-style-type: none">а) дрейфб) дифферентв) сносг) слеминг
---	--


В-7. Как называется местоположение судна, полученное путем обработки результатов визуальных наблюдений различных ориентиров, положение которых известно?

	<ul style="list-style-type: none">а) обсервованноеб) счислимоев) истинноег) расчетное
---	--


В-8. Что измеряется ручным анемометром?

	<ul style="list-style-type: none">а) Направление ветраб) Скорость теченияв) Атмосферное давлениег) Скорость ветра
--	--

В-9. Как называется область с повышенным давлением, которое понижается от центра к периферии?


	<ul style="list-style-type: none">а) Циклонб) Штормв) Штильг) Антициклон
---	---

В-10. Какое название носят приливы, имеющие одну полную и одну малую воду в течение суток?


	<ul style="list-style-type: none">а) полусуточные;б) суточные;в) сизигийные;г) квадратурные.
---	---

Билет 3 – ВВ


В-1. Что необходимо выполнить судоводителю маломерного судна при встрече немаломерного судна на судовом ходу?

	<ul style="list-style-type: none">а) заблаговременно уйти с его пути без обмена звуковыми и зрительными сигналами;б) уступить дорогу после обмена звуковыми сигналами;в) уступить дорогу после обмена зрительными сигналами;г) потребовать, чтобы ему уступили дорогу.
---	---


В-2. Какие из перечисленных сигналов может подавать терпящее бедствие судно, которое просит о помощи?

	<ul style="list-style-type: none">а) Ракеты красного цветаб) Частое мигание круговым огнем или вертикальное перемещение огняв) Медленное повторяемое поднятие и опускание вытянутыми в сторону рукамиг) Все перечисленные сигналы
---	--

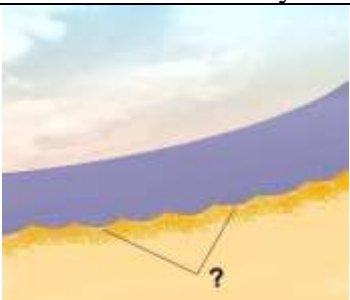
В-3. Какое административное наказание предусмотрено за управление маломерным судном судоводителю, не имеющему при себе судового билета маломерного судна или его копии, заверенной в установленном порядке, а равно документов, подтверждающих право владения, пользования или распоряжения управляемым им судном в отсутствие владельца?

	<ul style="list-style-type: none">а) Наказание не предусмотреноб) Предупреждениев) Штрафг) Предупреждение или штраф
---	--

В-4. При наличии какой из перечисленных неисправностей пользование маломерным судном запрещается?

	<ul style="list-style-type: none">а) Наличие вибрацииб) Наличие утечек топливав) Повреждение системы дистанционного управления двигателемг) При любой из перечисленных
---	---

В-5. Как называется глубоководный участок реки между двумя перекатами?

	<ul style="list-style-type: none">а) Рейдб) Ложбинав) Стреженьг) Плёс
---	--

В-6. Как называется движение двух судов, двигающихся навстречу друг другу?



- а) Контрплавание
- б) Осевое плавание
- в) Курсовое плавание
- г) Встречное плавание

В-7. Как называется угол между диаметральной плоскостью судна и направлением на магнитный север?



- а) курс
- б) компасный курс
- в) истинный курс
- г) магнитный курс

В-8. Признаком какого изменения погоды является резкое падение атмосферного давления?



- а) Изменения направления ветра
- б) Улучшения погоды
- в) Устойчивой хорошей погоды
- г) Приближения шторма

В-9. Укажите единицу измерения силы ветра.



- а) м/сек;
- б) км/час;
- в) балл;
- г) градус.


В-10. Какое название носят приливы, которые наблюдаются в дни новолуния и полнолуния?




- а) полусуточные;
- б) суточные;
- в) сизигийные;
- г) квадратурные.

Билет 4 – ВВ


В-1. Что обязан выполнить судоводитель, находящийся поблизости от аварийного судна, если имеется опасность для находящихся на нем людей?

	<ul style="list-style-type: none">а) оказать немедленную помощьб) насколько это совместимо с безопасностью его судна, оказать немедленную помощь;в) не оказывать помощь;г) привлечь внимание других судов
---	--


В-2. Какое судно несет на наиболее видном месте сигнал - черный конус вершиной вниз?

	<ul style="list-style-type: none">а) Судно, стоящее на мелиб) Судно, стоящее на якорев) Судно, осуществляющее перевозку радиоактивных грузовг) Судно, идущее под парусом и одновременно использующее силовую установку
---	---


В-3. Какое административное наказание предусмотрено за утерю или утрату судового билета маломерного судна?

	<ul style="list-style-type: none">а) Предупреждениеб) Предупреждение или штрафв) Штрафг) Наказание не предусмотрено
---	--

В-4. Какой орган может отменить право собственности на маломерное судно, зарегистрированное в судовой книге?

	<ul style="list-style-type: none">а) Прокуратураб) Прокуратура или судв) Вышестоящий орган ГИМСг) Суд
---	--

В-5. Как называется ветер, дующий против течения реки?

	<ul style="list-style-type: none">а) Верховойб) Бризв) Встречныйг) Низовой
---	---

В-6. Какое название носят приливы, имеющие одну полную и одну малую воду в течение суток?

?

- а) полусуточные;
- б) суточные;
- в) сигизийные;
- г) квадратурные.

В-7. По какой шкале производится визуальная оценка силы ветра?

?

- а) Саффира – Симпсона
- б) Бофорта
- в) Цельсия
- г) Кельвина

В-8. Как называется течение из главного русла, направляющееся в боковые протоки у их входов?



- а) Свальное
- б) Боковое
- в) Прижимное
- г) Затяжное

В-9. Как называется участок земной поверхности, ограничивающий долину реки с боков?



- а) Левая пойма
- б) Приток
- в) Затон
- г) Коренной берег


В-10. Как называется небольшое обособленное скопление камней недалеко от берега?




- а) Шалыга
- б) Осередок
- в) Огрудки
- г) Одинец

Билет 5 – ВВ


В-1. Что должен выполнить судоводитель в случае неуверенности в оценке ситуации (неясность в действиях других судов, неподача или неправильное подтверждение сигналов, потеря ориентировки, отсутствие или неисправность знаков навигационного оборудования и т.п.)?

	<ul style="list-style-type: none">а) уменьшить ход или прекратить движение до выяснения ситуации;б) продолжать движение, не меняя курса и скорости;в) максимально быстро покинуть место развития ситуации;г) изменить курс и двигаться к ближайшему берегу.
---	--


В-2. Что означает звуковой сигнал – серия, не менее пяти коротких звуков?

	<ul style="list-style-type: none">а) "Мои движители работают на задний ход"б) "Прошу уменьшить ход"в) "Я намереваюсь остановиться"г) "Предупреждение"
---	--


В-3. Какие из перечисленных документов судоводители маломерных судов обязаны предъявлять для проверки государственному инспектору по маломерным судам?

	<ul style="list-style-type: none">а) Удостоверение на право управленияб) Документ на право пользования судном при отсутствии на борту собственника или владельца суднав) Судовой билет или его заверенную копиюг) Все перечисленные
---	--

В-4. Какое административное наказание предусмотрено за эксплуатацию маломерного судна, у которого содержание загрязняющих веществ в выбросах превышает установленные государственными стандартами нормативы?

	<ul style="list-style-type: none">а) Наказания не предусмотреноб) Лишение права управленияв) Предупреждение или штрафг) Штраф
---	--

В-5. Как называется одиночный камень больших размеров в русле реки?

	<ul style="list-style-type: none">а) Шальгаб) Осередокв) Перекатг) Одинец
---	--

В-6. Как называется часть старого русла, соединенное с действующим?



- а) Левая пойма
- б) Приток
- в) Правая пойма
- г) Затон

В-7. Как называется отклонение движущегося судна от курса под влиянием течения?



- а) дрейф
- б) дифферент
- в) снос
- г) слеминг

В-8. Как называется явление скопления микроскопических капелек воды в нижних слоях атмосферы?



- а) Мгла
- б) Морось
- в) Дымка
- г) Туман

В-9. Какое название носят приливы, имеющие две полные и две малые воды в течение лунных суток?



- а) полусуточные;
- б) суточные;
- в) сигизийные;
- г) квадратурные.


В-10. Как называется ветер, который дует днем с моря на сушу, а ночью с суши на море?




- а) пассат;
- б) бора;
- в) бриз;
- г) муссон.

Билет 6 – ВВ


В-1. Сколько метров составляет ширина береговой полосы водных объектов общего использования?

	<ul style="list-style-type: none">а) 10 мб) 30 мв) 50 мг) 20 м
---	---


В-2. Какое маломерное судно ("А" - парусное судно, "Б" - гребная лодка, "В" - моторная лодка) имеет преимущество при расхождении перед другими?

	<ul style="list-style-type: none">а) "Б"б) "В"в) Никакоег) "А"
---	---


В-3. В течение какого срока собственник маломерного судна обязан сообщить в орган государственной регистрации судна о любом изменении сведений, внесенных в реестр маломерных судов?

	<ul style="list-style-type: none">а) В течение неделиб) В течение месяцав) В течение трех недельг) В течение двух недель
---	---

В-4. В чьи обязанности входит проведение инструктажа пассажиров по правилам поведения на маломерном судне во время плавания?

	<ul style="list-style-type: none">а) Государственного инспектора по маломерным судамб) Должностного лица базы (сооружения) для стоянки маломерных судовв) Судовладельцаг) Судоводителя
---	---

В-5. Как называется подводный глинистый выступ?

	<ul style="list-style-type: none">а) Шалыгаб) Опечкав) Осередокг) Печина
---	---

В-6. Как называется течение из главного русла, направляющееся в боковые протоки у их входов?



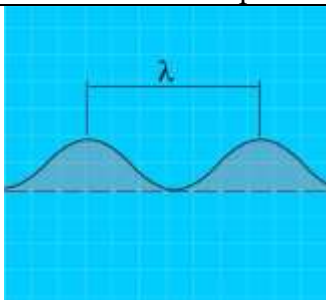
- а) Свальное
- б) Боковое
- в) Прижимное
- г) Затяжное

В-7. Как называется отклонение движущегося судна от курса под влиянием ветра?



- а) дрейф
- б) дифферент
- в) крен
- г) слеминг

В-8. Как называется расстояние между гребнями или подошвами двух смежных волн?



- а) Бег волны
- б) Период волны
- в) Высота волны
- г) Длина волны

В-9. Как называется ветер, дующий против течения реки?



- а) Верховой
- б) Бриз
- в) Встречный
- г) Низовой

В-10. Какое название носят приливы, имеющие две полные и две малые воды в течение лунных суток?



- а) полусуточные;
- б) суточные;
- в) сигизийные;
- г) квадратурные.

Билет 7 – ВВ

В-1. Через сколько дней заявитель, показавший неудовлетворительный результат при проверке теоретических знаний при аттестации на право управления маломерным судном, может быть повторно допущен к проверке теоретических знаний?



- а) Такой срок не установлен
- б) Через 3 дня
- в) Через 5 дней
- г) Через 7 дней

В-2. Если два маломерных моторных судна идут пересекающимися курсами так, что возникает опасность столкновения, какое судно должно уступить дорогу другому судну?



- а) Судно, находящееся южнее другого судна
- б) Судно, находящееся севернее другого судна
- в) Судно, которое наблюдает другое судно по своему левому борту
- г) Судно, которое наблюдает другое судно по своему правому борту

В-3. Какое административное наказание лица, управляющего маломерным судном, предусматривается за преднамеренную остановку или стоянку судна в запрещенных местах?



- а) Административный штраф
- б) Предупреждение
- в) Предупреждение либо административный штраф
- г) Предупреждение, либо административный штраф, либо лишение права управления маломерным судном на срок до шести месяцев

В-4. Какие действия должны предпринять судоводители маломерных моторных судов "А" и "Б" для безопасного расхождения при встречном движении (плавании)?



- а) Должны изменить курс влево
- б) "А" должен повернуть вправо, а "Б" - влево
- в) "А" должен повернуть влево, а "Б" - вправо
- г) Должны изменить курс вправо

В-5. Как называется неправильное течение, которое представляет собой слив воды, направленный под углом к судовому ходу, и возникающее из-за разности в уровнях воды по ширине реки?



- а) Затяжное
- б) Спорное
- в) Прижимное
- г) Свальное

В-6. Как называется условная линия, соединяющая на водной поверхности реки точки с наибольшей глубиной русла и максимальными скоростями течения?



- а) Перевал
- б) Ход
- в) Ось
- г) Стрежень

В-7. Как называется движение двух судов, двигающихся навстречу друг другу?



- а) Контрплавание
- б) Осевое плавание
- в) Курсовое плавание
- г) Встречное плавание

В-8. Признаком какого изменения погоды является резкое падение атмосферного давления?



- а) Изменения направления ветра
- б) Улучшения погоды
- в) Устойчивой хорошей погоды
- г) Приближения шторма

В-9. Как называется интенсивное (при забрызгивании) нарастание слоя льда на палубе, фальшборте, надстройках, рангоуте и палубных судовых устройствах?



- а) Замораживание
- б) Наледь
- в) Обмораживание
- г) Обледенение


В-10. Где будет находиться область высокого давления по отношению к человеку, стоящему спиной к ветру в северном полушарии?




- а) впереди;
- б) справа,
- в) слева,
- г) со стороны спины

Билет 8 – ВВ


В-1. Отметьте правильный ответ на вопрос: «Что должен выполнить судоводитель для предотвращения непосредственно угрожающей опасности или ее возможных последствий?»

	<ul style="list-style-type: none">а) принять все меры, которые диктуются практикой судовождения.б) принять все меры, которые диктуются практикой судовождения или особыми обстоятельствами.в) принять все меры, которые диктуются практикой судовождения или особыми обстоятельствами, не отступая от Правил плавания по ВВП РФ.г) принять все меры, которые диктуются практикой судовождения или особыми обстоятельствами, даже если вынужден отступить от Правил плавания по ВВП РФ.
---	---


В-2. Что означает звуковой сигнал из трех продолжительных звуков?

	<ul style="list-style-type: none">а) "Прошу уменьшить ход"б) "Я изменяю свой курс влево"в) "Я намереваюсь сделать оборот"г) "Человек за бортом"
---	--


В-3. Какое административное наказание предусмотрено за управление маломерным судном, не прошедшим технического освидетельствования?

	<ul style="list-style-type: none">а) Лишение права управленияб) Предупреждениев) Предупреждение или штраф, или лишение права управленияг) Штраф
---	--

В-4. Как должно осуществляться маневрирование маломерных судов при расхождении на водных объектах, не имеющих навигационной обстановки?

	<ul style="list-style-type: none">а) С учетом направления теченияб) С учетом левостороннего движенияв) Порядок расхождения не установленг) С учетом правостороннего движения
---	---

В-5. Как называется подводный глинистый выступ?

	<ul style="list-style-type: none">а) Шальгаб) Опечкав) Осередокг) Печина
---	---

В-6. Как называется песчаная отмель – бугор в русле реки?



- а) Огрудок
- б) Лещадь
- в) Печина
- г) Шалыга

В-7. Как называется водный поток, вливающийся в реку?



- а) Побочень
- б) Рукав
- в) Ручей
- г) Приток

В-8. Как называется прибор для наблюдения за изменениями атмосферного давления и графической записи показаний?



- а) Барометр
- б) Гидролокатор
- в) Анемометр
- г) Барограф

В-9. Как называется ветер, при котором воздух перемещается с запада на восток?



- а) Западный;
- б) Восточный;
- в) Северный;
- г) Южный.


В-10. Где будет находиться область высокого давления по отношению к человеку, стоящему спиной к ветру в северном полушарии?




- а) впереди;
- б) справа,
- в) слева,
- г) со стороны спины

Билет 9 – ВВ


В-1. В каком из перечисленных случаев государственный инспектор по маломерным судам имеет право использовать суда, принадлежащие гражданам?

	<ul style="list-style-type: none">а) Для следования к месту работыб) Для транспортировки судна нарушителяв) Для доставки нарушителей на медицинское обследованиег) Для доставки в лечебные учреждения пострадавших людей
---	---


В-2. Что обозначает изображенный на иллюстрации знак?

	<ul style="list-style-type: none">а) Судно, стоящее на мелиб) Судно, стоящее на якорев) Судно, идущее под парусом и одновременно использующее силовую установкуг) Судно, осуществляющее перевозку опасных грузов
--	---


В-3. Какой срок отводится Кодексом Российской Федерации об административных правонарушениях для уплаты административного штрафа?

	<ul style="list-style-type: none">а) 10 сутокб) 20 сутокв) 60 сутокг) 30 суток
--	---


В-4. При каком условии маломерному судну можно заходить и маневрировать на акватории пляжей?

	<ul style="list-style-type: none">а) Только на самом малом ходуб) Только для высадки на берег пассажировв) Если в непосредственной близости от судна нет купающихся людейг) Ни при каких условиях
--	--

В-5. Под каким номером на рисунке обозначен урез воды?


	<ul style="list-style-type: none">а) 1б) 2в) 4г) 3
--	---

В-6. Какая зависимость между продольным уклоном поверхности воды и скоростью течения воды в реке?



- а) Скорость течения возрастает с уменьшением продольного уклона
- б) Скорость течения уменьшается с увеличением продольного уклона
- в) Скорость течения не зависит от продольного уклона поверхности воды в реке
- г) Скорость течения возрастает с увеличением продольного уклона

В-7. Как называется выработанное речным потоком ложе, по которому осуществляется сток воды при самых низких уровнях?



- а) Плес
- б) Пойма
- в) Старица
- г) Русло

В-8. Что измеряется ручным анемометром?



- а) Направление ветра
- б) Скорость течения
- в) Атмосферное давление
- г) Скорость ветра

В-9. Как называется ветер, дующий против течения реки?



- а) Верховой
- б) Бриз
- в) Встречный
- г) Низовой


В-10. Где будет находиться область высокого давления по отношению к человеку, стоящему спиной к ветру в северном полушарии?




- а) впереди;
- б) справа,
- в) слева,
- г) со стороны спины

Билет 10 – ВВ


В-1. Выберите правильное определение понятия «район плавания маломерного судна»

	<ul style="list-style-type: none">а) район, по которому произведена предварительная прокладка перехода;б) район, в котором фактически находится маломерное судно;в) акватория, на которой допускается использование маломерного судна в соответствии с его техническими и конструктивными характеристиками;г) акватория, в которой осуществляют плавание маломерные суда
---	---


В-2. Какому из судов ("А" – моторное судно, "В" - парусное судно) должна уступить дорогу гребная лодка "Б"?

	<ul style="list-style-type: none">а) "А"б) "А" и "В"в) Никакомуг) "В"
---	--


В-3. При совершении административного правонарушения, влекущего задержание маломерного судна, оно задерживается на время:

	<ul style="list-style-type: none">а) До составления протокола об административном правонарушенииб) До вынесения постановления по делу об административном правонарушениив) До исполнения постановления по делу об административном правонарушенииг) До устранения причины задержания
---	---

В-4. Какие документы во время плавания должен иметь при себе судоводитель маломерного судна, если он не является владельцем этого судна?

	<ul style="list-style-type: none">а) Удостоверение на право управления и акт технического освидетельствованияб) Судовой билет и документ на право пользования судномв) Судовой билет (или его копию) и удостоверение на право управленияг) Судовой билет (или его заверенную копию), удостоверение на право управления и документ на право пользования судном
---	--

В-5. Как называется неправильное (беспорядочное) вращательное течение в реке, вызываемое либо столкновением струй двух водных потоков (спорными водами), либо наличием на дне реки крупных предметов?

	<ul style="list-style-type: none">а) Майданб) Взбросыв) Толчаяг) Суводь
---	--

В-6. Как называется вращательное движение воды за подводным или надводным выступом?



- а) Майдан
- б) Водоворот
- в) Сулои
- г) Суводь

В-7. Как называется направление на географический северный полюс?



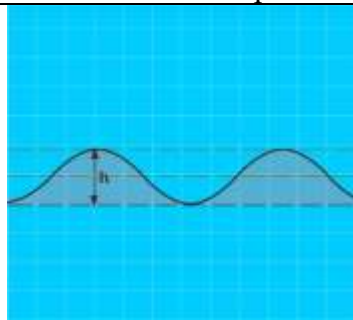
- а) магнитный север
- б) истинный север
- в) север по компасу
- г) полюсный север

В-8. Что измеряет барометр-анероид?



- а) Температуру воды
- б) Силу ветра
- в) Влажность воздуха
- г) Атмосферное давление

В-9. Как называется расстояние (h) от подошвы до гребня волны?



- а) Период волны
- б) Диаметр волны
- в) Длина волны
- г) Высота волны

В-10. Какую погоду следует ожидать при резком падении атмосферного давления и появлении перисто-кучевых облаков?



- а) Изменение направления ветра
- б) Усиления дождя
- в) Ухудшение погоды через 6-10 часов
- г) Грозу и шторм через 1-2 часа

Ключи ВВ

Ключ 1

1 – г	2 – г	3 – г	4 – а	5 – г
6 – г	7 – в	8 – г	9 – г	10 – г

Ключ 2

1 – г	2 – г	3 – г	4 – г	5 – г
6 – в	7 – а	8 – г	9 – г	10 – б

Ключ 3

1 – а	2 – г	3 – г	4 – г	5 – г
6 – г	7 – г	8 – г	9 – в	10 – в

Ключ 4

1 – б	2 – г	3 – г	4 – г	5 – г
6 – б	7 – б	8 – г	9 – г	10 – в

Ключ 5

1 – а	2 – г	3 – г	4 – в	5 – г
6 – г	7 – в	8 – г	9 – а	10 – в

Ключ 6

1 – г	2 – г	3 – г	4 – г	5 – г
6 – г	7 – а	8 – г	9 – г	10 – а

Ключ 7

1 – г	2 – г	3 – г	4 – г	5 – г
6 – г	7 – г	8 – г	9 – г	10 – б

Ключ 8

1 – г	2 – г	3 – г	4 – г	5 – г
6 – г	7 – г	8 – г	9 – а	10 – б

Ключ 9

1 – г	2 – г	3 – в	4 – г	5 – а
6 – г	7 – г	8 – г	9 – г	10 – б

Ключ 10

1 – в	2 – г	3 – г	4 – г	5 – а
6 – г	7 – б	8 – г	9 – г	10 – г