

Билет 21 – ВВП

В-1. Что означает сигнал – горизонтальное движение флагом - отмашкой, подаваемый с патрульного судна ГИМС?




- а) "Подойдите к моему борту"
- б) "Прошу лечь на обратный курс"
- в) "Проходите по борту со стороны отмашки"
- г) "Прошу остановить судно"

В-2. В течение какого срока собственник маломерного судна обязан сообщить в орган государственной регистрации судна о любом изменении сведений, внесенных в судовую книгу?



- а) В течение недели
- б) В течение двух недель
- в) В течение трех недель
- г) В течение месяца

В-3. На что указывает изображенный на иллюстрации береговой навигационный знак?



- а) На положение судового хода и его кромок
- б) На фарватер для прохода крупных судов
- в) На ось судового хода
- г) На направление судового хода

В-4. Какую длину имеет изображенное на иллюстрации парусное судно?




- а) Более 7 м
- б) До 7 м
- в) 20 м и более
- г) От 7 м до 20 м

В-5. Какой срок отводится Кодексом Российской Федерации об административных правонарушениях для уплаты административного штрафа?



- а) 10 суток
- б) 20 суток
- в) 60 суток
- г) 30 суток

В-6. Какой из изображенных на иллюстрации плавучих навигационных знаков, выставяемых в морских устьях рек, ограждает опасность с юга?



- а) А)
- б) Б)
- в) Г)
- г) В)

В-7. Как часто необходимо сверять показания часов с сигналами точного времени?



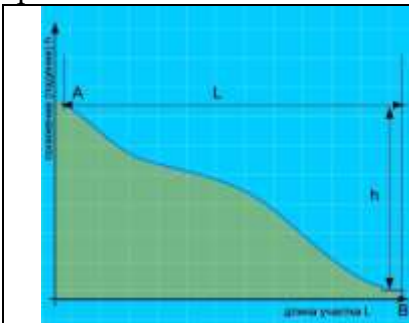
- а) Один раз в сутки
- б) Один раз в течение ходовой вахты
- в) По мере необходимости с учетом точности хода часов
- г) Не реже двух раз в сутки

В-8. Под каким номером на рисунке обозначен урез воды?



- а) 1
- б) 2
- в) 4
- г) 3

В-9. Какая зависимость между продольным уклоном поверхности воды и скоростью течения воды в реке?



- а) Скорость течения возрастает с уменьшением продольного уклона
- б) Скорость течения возрастает с увеличением продольного уклона
- в) Скорость течения не зависит от продольного уклона поверхности воды в реке
- г) Скорость течения уменьшается с увеличением продольного уклона

В-10. Что измеряется ручным анемометром?



- а) Скорость ветра
- б) Скорость течения
- в) Атмосферное давление
- г) Направление ветра

Билет 22 – ВВП

В-1. Какое движение флага-отмашки днем означает сигнал "Прошу остановиться"?



- а) Горизонтальное
- б) Вращательное
- в) Любое
- г) Вертикальное

В-2. На какие органы (организации) Водным кодексом РФ возложены обязанности об информировании жителей в случае введения запрета (ограничения) на использование маломерных судов на водных объектах общего пользования?




- а) На органы местного самоуправления
- б) На инспекторские подразделения ГИМС
- в) На территориальные органы МЧС России
- г) На ВОСВОД

В-3. Что означают непрерывно повторяющиеся продолжительные сигналы либо беспрерывные частые удары в колокол или металлический предмет, подаваемые судном?




- а) Прошу выйти на связь
- б) Человек за бортом
- в) Сигнал бедствия
- г) Предупреждение

В-4. Укажите огни судна, буксирующего плот.



- а)
- б)
- в)
- г)

В-5. Какое административное наказание предусматривается за нарушение лицом, управляющим маломерным судном, правил маневрирования?



- а) Предупреждение, либо административный штраф, либо лишение права управления маломерным судном на срок до шести месяцев
- б) Предупреждение
- в) Предупреждение либо, административный штраф
- г) Административный штраф

В-6. На каком из указанных УКВ каналов передаются радиотелефонные сигналы срочности?



- а) На 2 канале
- б) На 5 канале
- в) На 4 канале
- г) На 3 канале

В-7. При движении по затруднительному и не просматриваемому участку судно должно



- а) Информировать по радиотелефонной связи о своем местонахождении и через 2-3 минуты подавать звуковой сигнал: два продолжительных звука
- б) Информировать по радиотелефонной связи о своем местонахождении и через 2-3 минуты подавать звуковой сигнал: один продолжительный звук
- в) Информировать по радиотелефонной связи о своем местонахождении
- г) Информировать по радиотелефонной связи о своем местонахождении и через 2-3 минуты подавать звуковой сигнал: один продолжительный, один короткий и один продолжительный звуки

В-8. Что измеряет барометр-анероид?



- а) Температуру воды
- б) Силу ветра
- в) Атмосферное давление
- г) Влажность воздуха

В-9. Как называется ветер, дующий против течения реки?



- а) Верховой
- б) Бриз
- в) Встречный
- г) Низовой

В-10. Что обозначает изображенный на иллюстрации навигационный знак?



- а) Пост судоходной инспекции
- б) Место оборота судов
- в) Указатель рейда
- г) «Якоря не бросать»

Билет 23 - ВВП

В-1. В каком случае требуется заключение договора водопользования для плавания на маломерном судне?



- а) Таких случаев законодательством не предусмотрено
- б) Если на одного владельца зарегистрировано два и более маломерных судов
- в) Если судовладелец использует судно для рыболовства, рыбоводства или охоты
- г) Если мощность двигателя маломерного судна более 55 кВт (75 л.с.)

В-2. Какой документ, выдаваемый собственнику маломерного судна, подтверждает право плавания под Государственным флагом Российской Федерации?



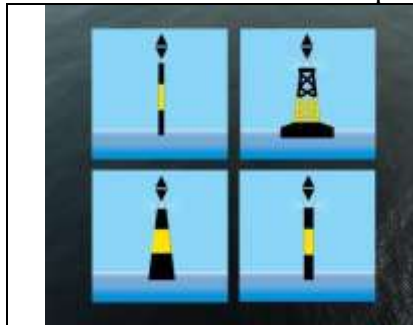
- а) Удостоверение на право управления маломерными судами
- б) Технический талон
- в) Судовой билет
- г) Акт технического освидетельствования

В-3. Что обозначают изображенные на иллюстрации знаки?



- а) Лоцманское судно при исполнении своих обязанностей
- б) Судно, занятое буксировкой с длиной буксира более 200 м
- в) Судно, ограниченное в возможности маневрировать, на ходу
- г) Судно, лишенное возможности управляться

В-4. Что обозначают изображенные на иллюстрации плавучие навигационные знаки?



- а) Необходимость обойти знак со стороны юга
- б) Необходимость обойти знак со стороны востока
- в) Необходимость обойти знак со стороны запада
- г) Необходимость обойти знак со стороны севера

В-5. Какое административное наказание предусмотрено за управление маломерным судном, не зарегистрированным в установленном порядке?




- а) Административный штраф
- б) Предупреждение либо административный штраф
- в) Предупреждение, либо административный штраф, либо лишение права управления маломерным судном
- г) Предупреждение

В-6. Какие документы должны находиться на маломерном судне, оборудованном УКВ радиостанцией?



- а) Правила радиосвязи на внутренних водных путях Российской Федерации
- б) Все перечисленные
- в) Указания по организации судовой радиосвязи в бассейне (регионе)
- г) Разрешение на право пользования судовой радиостанцией

В-7. При подходе к работающему на судовом ходу дноуглубительному или дноочистительному снаряду судно должно




- а) Заблаговременно убавить скорость хода и запросить разрешение на проход
- б) На расстоянии не менее 500 м должно подать звуковой сигнал "Внимание" и согласовать по УКВ радиосвязи сторону прохода
- в) На расстоянии не менее 1 сверху, и не менее 500 м, при движении снизу, должно подать звуковой сигнал "Внимание" и согласовать по УКВ радиосвязи сторону прохода
- г) На расстоянии не менее 1 км должно подать звуковой сигнал "Внимание" и согласовать по УКВ радиосвязи сторону прохода

В-8. Как называется невысокий обрывистый, как правило, вогнутый берег?



- а) Обрыв
- б) Яр
- в) Пески
- г) Овраг

В-9. Как называется явление скопления микроскопических капелек воды в нижних слоях атмосферы?



- а) Мгла
- б) Морось
- в) Туман
- г) Дымка

В-10. Как называется ветер, дующий в сторону берега?



- а) Прижимной
- б) Навальный
- в) Привальный
- г) Прибрежный

Билет 24 – ВВП

В-1. При какой мощности подвесного лодочного мотора (двигателя) маломерное судно массой более 200 кг подлежит государственной регистрации?



- а) Более 3,68 кВт
- б) Более 5 кВт
- в) Более 8 кВт
- г) Более 10 кВт

В-2. В присутствии какого лица осуществляется доступ судоводителя (судовладельца) к маломерному судну, задержанному и находящемуся на специализированной стоянке?




- а) Государственного инспектора по маломерным судам
- б) Лица, ответственного за хранение судна
- в) Представителя прокуратуры
- г) Представителя милиции

В-3. Что обозначает изображенный на иллюстрации плавучий навигационный знак?



- а) поворот судового хода и стоит на его левой кромке
- б) правую кромку судового хода
- в) поворот судового хода и стоит на его правой кромке
- г) левую кромку судового хода

В-4. Какое из перечисленных судов должно нести изображенные на иллюстрации огни?



- а) Маломерное судно на мели
- б) Несамостоятельное судно на буксире
- в) Судно, занятое ловом рыбы
- г) Парусное судно длиной менее 50м, идущее под мотором

В-5. За какой промежуток времени суда, идущие на шлюзование, обязаны сообщать по радиотелефонной связи диспетчеру шлюза о расчетном времени подхода к границам шлюза?



- а) За 1,5 часа
- б) За 1 час
- в) За 0,5 часа
- г) Сразу при подходе к границам шлюза

В-6. Как называется столкновение струй двух водных потоков (слияние рукавов)?



- а) Взброс
- б) Толчея
- в) Спорные воды
- г) Прибой

В-7. Как называется вращательное движение воды в реке, возникающее, как правило, за выступами берегов, мысами, выпуклыми берегами, мостовыми опорами, дамбами?



- а) Майдан
- б) Суводь
- в) Бурун
- г) Водоворот

В-8. Какое административное наказание предусматривается за несоблюдение лицом, управляющим маломерным судном, установленной скорости?



- а) Административный штраф
- б) Предупреждение
- в) Предупреждение либо административный штраф
- г) Предупреждение, либо административный штраф, либо лишение права управления маломерным судном на срок до шести месяцев

В-9. Какую погоду следует ожидать при резком падении атмосферного давления и появлении перисто-кучевых облаков?



- а) Грозу и шторм через 1-2 часа
- б) Усиления дождя
- в) Ухудшение погоды через 6-10 часов
- г) Изменение направления ветра


В-10. Запрещается расхождение и обгон судов




- а) В пролете мостов, при ширине пролета менее 200 м
- б) В пролете мостов, при ширине пролета менее 100 м
- в) В пролете мостов
- г) В пролете мостов, при ширине пролета менее 5 кратной суммарной ширины судов (составов)

Билет 25 – ВВП


В-1. Какова периодичность проведения очередного освидетельствования маломерного судна?

	<ul style="list-style-type: none">а) Один раз в 5 летб) Один раз в 2 годав) Один раз в 3 годаг) Ежегодно
---	---


В-2. Выберите правильное определение понятия «район плавания маломерного судна»

	<ul style="list-style-type: none">а) район, по которому произведена предварительная прокладка перехода;б) район, в котором фактически находится маломерное судно;в) акватория, на которой допускается использование маломерного судна в соответствии с его техническими и конструктивными характеристиками;г) акватория, в которой осуществляют плавание маломерные суда
---	---


В-3. Что обозначает изображенный на иллюстрации береговой навигационный знак "Ориентир"?

	<ul style="list-style-type: none">а) Затопляемый берегб) Перевал судового ходав) Характерное место судоходного путиг) Вход в канал
---	---

В-4. Как называется створ из трех знаков, который указывает положение и кромки судового хода?

	<ul style="list-style-type: none">а) Линейныйб) Щелевойв) Осевойг) Кромочный
--	---

В-5. Какое административное наказание предусматривается за управление маломерным судном, судоводителем, не имеющим при себе судового билета?


	<ul style="list-style-type: none">а) Предупреждениеб) Предупреждение либо административный штрафв) Предупреждение, либо административный штраф, либо лишение права управления маломерным судном на срок до шести месяцевг) Административный штраф
---	--

В-6. Как называется неправильное (беспорядочное) вращательное течение в реке, вызываемое либо столкновением струй двух водных потоков (спорными водами), либо наличием на дне реки крупных предметов?



- а) Взбросы
- б) Толчея
- в) Суводь
- г) Майдан

В-7. Как называется подводный глинистый выступ?



- а) Печина
- б) Опечка
- в) Осередок
- г) Шальга

В-8. Как называется вращательное движение воды за подводным или надводным выступом?



- а) Майдан
- б) Водоворот
- в) Сулои
- г) Суводь

В-9. Как называется условная линия, соединяющая на водной поверхности реки точки с наибольшей глубиной русла и максимальными скоростями течения?



- а) Перевал
- б) Ход
- в) Стрежень
- г) Ось


В-10. Укажите тип судна




- а) Толкаемый состав, с толкачом шириной более 5 м, следует курсом от нас
- б) Толкаемый состав, с толкачом шириной 5 м и менее, следует курсом от нас
- в) Буксирный состав, шириной 5 м и менее, следует курсом от нас
- г) Буксирный состав, шириной более 5 м, следует курсом от нас

Билет 26 – ВВП


В-1. Какими нормативными документами регулируется безопасность судоходства маломерных судов на внутренних водных путях Российской Федерации?

	<ul style="list-style-type: none">а) Правилами плавания по внутренним водным путям Российской Федерацииб) Всеми перечисленными маломерными судами на водных объектах Российской Федерациив) Кодексом внутреннего водного транспорта Российской Федерации;г) Правилами пользования
---	--


В-2. Что должен выполнить судоводитель для предотвращения непосредственно угрожающей опасности или ее возможных последствий?

	<ul style="list-style-type: none">а) следовать безопасной скоростьюб) остановитьсяв) увеличить скорость до максимальнойг) уменьшить скорость до минимальной
---	--


В-3. Что обозначает плавучий навигационный знак на ВВП, имеющий изображенную на иллюстрации расцветку?

	<ul style="list-style-type: none">а) Обозначает левую кромку судового ходаб) Обозначает правую кромку судового ходав) Обозначает поворот судового хода и стоит на его правой кромкег) Обозначает поворот судового хода и стоит на его левой кромке
--	---

В-4. В какой стороне необходимо оставить изображенный на иллюстрации навигационный знак в устье крупной реки?

	<ul style="list-style-type: none">а) К востокуб) К западув) К северуг) К югу
--	---

В-5. Какое административное наказание предусмотрено за управление маломерным судном судоводителем или иным лицом, находящимся в состоянии опьянения?

	<ul style="list-style-type: none">а) Лишение прав управления маломерным судномб) Штраф или лишение прав управления маломерным судномв) Штрафг) Предупреждение
---	--

В-6. Как называется часть старого русла, соединенное с действующим?



- а) Левая пойма
- б) Приток
- в) Затон
- г) Правая пойма

В-7. Как называется движение двух судов, двигающихся навстречу друг другу?



- а) Встречное плавание
- б) Осевое плавание
- в) Курсовое плавание
- г) Контрплавание

В-8. Как называется часть реки, образованная при разделении русла островом?



- а) Рукав
- б) Затон
- в) Старица
- г) Прорва

В-9. Признаком какого изменения погоды является резкое падение атмосферного давления?



- а) Изменения направления ветра
- б) Приближения шторма
- в) Устойчивой хорошей погоды
- г) Улучшения погоды


В-10. Как называется интенсивное (при забрызгивании) нарастание слоя льда на палубе, фальшборте, надстройках, рангоуте и палубных судовых устройствах?




- а) Замораживание
- б) Наледь
- в) Обледенение
- г) Обмораживание

Билет 27 – ВВП


В-1. Что должен выполнить судоводитель в случае неуверенности в оценке ситуации (неясность в действиях других судов, неподача или неправильное подтверждение сигналов, потеря ориентировки, отсутствие или неисправность знаков навигационного оборудования и т.п.)?

	<ul style="list-style-type: none">а) продолжать движение, не меняя курса и скорости;б) уменьшить ход или прекратить движение до выяснения ситуации;в) максимально быстро покинуть место развития ситуации;г) изменить курс и двигаться к ближайшему берегу.
---	--

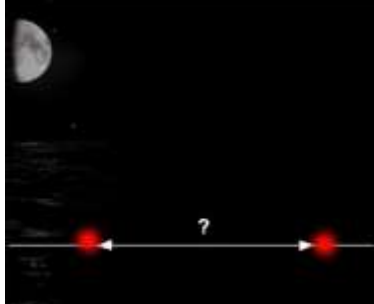
В-2. Как называется изображенный на иллюстрации береговой навигационный знак?

	<ul style="list-style-type: none">а) " Ориентир"б) Перевальныйв) Ходовойг) Весенний
---	--


В-3. Как называется изображенный на иллюстрации береговой навигационный знак?

	<ul style="list-style-type: none">а) Ходовой знак левого берегаб) Ходовой знак правого берегав) Опознавательный знак левого берегаг) Путевой огонь левого берега
--	---


В-4. Через сколько метров должны обозначаться круговыми огнями (красными - у правого берега, белыми или желтыми, или зелеными - у левого берега) сети, поставленные в непосредственной близости от судового хода?

	<ul style="list-style-type: none">а) Через 20 мб) Через 50 мв) Через 100 мг) Через 200 м
--	---

В-5. Какое административное наказание предусматривается за несоблюдение лицом, управляющим маломерным судном, требований навигационных знаков?

	<ul style="list-style-type: none">а) Административный штрафб) Лишение права управления маломерным судном на срок до шести месяцевв) Предупреждениег) Одно из перечисленных
---	---

В-6. Какое из маломерных судов не нарушает ППВВП?



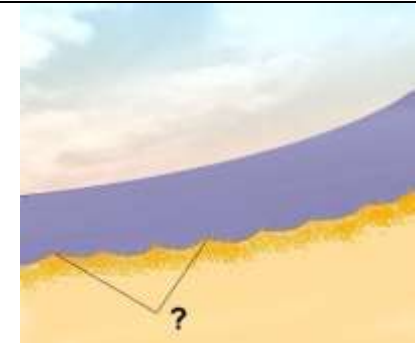
- а) Только "Б"
- б) Только "А" и "В"
- в) Только "А"
- г) Только "В"

В-7. С какого борта катер "А" должен оставить при обгоне моторную лодку "Б", согласно требованиям ППВВП?



- а) С правого
- б) С левого при движении вниз
- в) С левого при движении вверх
- г) С любого

В-8. Как называется скопление наносов, отложенных в виде подводной гряды по ширине русла?



- а) Коса
- б) Порог
- в) Отмель
- г) Перекат

В-9. Как называется наносное (без растительности) образование в русле, омываемое водой со всех сторон?



- а) Осередок
- б) Заплесок
- в) Заструга
- г) Заманиха

В-10. Как называется ветер, при котором воздух перемещается с запада на восток?

?

- а) Восточный ;
- б) Западный;
- в) Северный;
- г) Южный.

Билет 28 – ВВП

В-1. Каким нормативным документом регулируется безопасность судоходства маломерных судов на внутренних водах, не включенных в Перечень внутренних водных путей Российской Федерации?



- а) Правилами плавания по внутренним водным путям Российской Федерации;
- б) Правилами пользования маломерными судами на водных объектах Российской Федерации;
- в) Кодексом внутреннего водного транспорта Российской Федерации;
- г) Водным кодексом Российской Федерации.

В-2. На какой срок выдается свидетельство о классификации маломерного судна после его постройки и (или) освидетельствования?




- а) на 1 год
- б) на 10 лет
- в) на 5 лет
- г) бессрочно

В-3. Что обозначают изображенные на иллюстрации плавучие навигационные знаки?



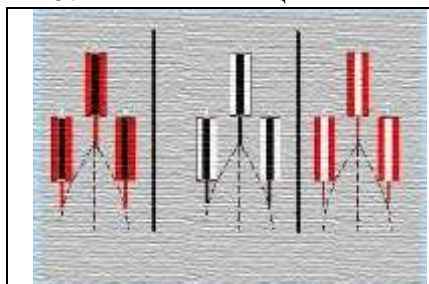
- а) Необходимость обойти знак со стороны юга
- б) Необходимость обойти знак со стороны севера
- в) Необходимость обойти знак со стороны востока
- г) Необходимость обойти знак со стороны запада

В-4. Какое административное наказание лица, управляющего маломерным судном, предусматривается за преднамеренную остановку или стоянку судна в запрещенных местах?



- а) Предупреждение, либо административный штраф, либо лишение права управления маломерным судном на срок до шести месяцев
- б) Предупреждение
- в) Предупреждение либо административный штраф
- г) Административный штраф

В-5. Какой навигационный знак изображен на иллюстрации?



- а) Ходовой, для обозначения судового хода, расположенного вдоль берега
- б) Линейный (осевой) створный, для обозначения направления оси судового хода
- в) Весенний, для обозначения затопленных берегов
- г) Щелевой створный, для обозначения положения судового хода и его кромок

В-6. Отметьте правильное определения понятия «судоходство маломерных судов»



- а) деятельность, связанная с использованием маломерных судов для отдыха, туризма, а также культурных, спортивных, производственных, развлекательных и иных целей
- б) движение маломерных судов по водной акватории, на которой разрешено использование маломерного судна
- в) деятельность, связанная с использованием маломерных судов исключительно для производственных целей
- г) движение маломерных судов по водной акватории

В-7. Как называется одиночный камень больших размеров в русле реки?



- а) Шалыга
- б) Одинец
- в) Перекат
- г) Осередок

В-8. Как называется часть речной долины, затапливаемая при половодье (1 и 2)?



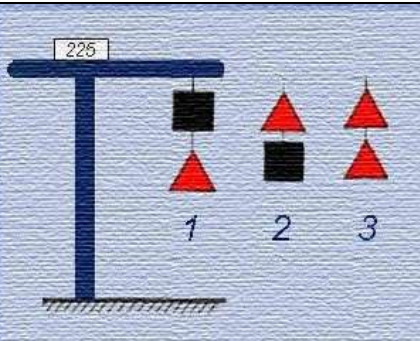
- а) Затон
- б) Воложка
- в) Пойма
- г) Протока

В-9. На какой канал должны быть переключены судовые УКВ радиостанции в границах шлюза?



- а) На 70 канал
- б) На 16 канал
- в) На канал диспетчера шлюза
- г) На 5 канал


В-10. Какой навигационный знак изображен на иллюстрации?




- а) Пост судоходной инспекции
- б) Сигнальная мачта
- в) Указатель рейда
- г) Семафор

Билет 29 – ВВП


В-1. Отметьте правильный ответ на вопрос: «Что должен выполнить судоводитель для предотвращения непосредственно угрожающей опасности или ее возможных последствий?»

	<ul style="list-style-type: none">а) принять все меры, которые диктуются практикой судовождения или особыми обстоятельствами, даже если вынужден отступить от Правил по ВВП РФ.б) принять все меры, которые диктуются практикой судовождения или особыми обстоятельствами.в) принять все меры, которые диктуются практикой судовождения или особыми обстоятельствами, не отступая от Правил плавания по ВВПРФ.г) принять все меры, которые диктуются практикой судовождения.
---	---


В-2. Отметьте правильное определение состояния защищённости маломерных судов, находящихся на водных объектах, от аварий и происшествий.

	<ul style="list-style-type: none">а) Безопасность маломерных судовб) Безопасность судоходства маломерных судовв) Безопасность на водных объектахг) Безаварийное судоходство
---	--

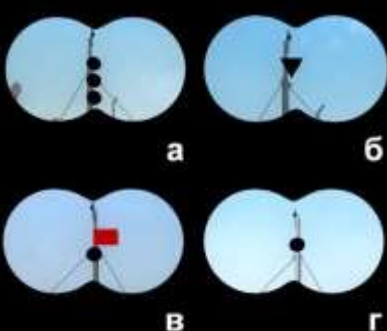
В-3. Что означает изображенное на иллюстрации сочетание сигнальных фигур на семафорной мачте?

	<ul style="list-style-type: none">а) Ход закрыт в оба направленияб) Ход закрыт для движения сверхув) Ход закрыт для движения снизуг) Ход закрыт в оба направления для маломерных судов
---	---

В-4. В течение какого срока гражданин, в отношении которого вынесено административное наказание, имеет право обжаловать постановление по делу об административном правонарушении?

	<ul style="list-style-type: none">а) 10 сутокб) 20 сутокв) 15 сутокг) 5 суток
---	--

В-5. Какой из изображенных на иллюстрации сигналов несет судно, терпящее бедствие?

	<ul style="list-style-type: none">а) а)б) в)в) г)г) б)
--	---

В-6. Как называется большое скопление камней в русле либо каменная коса?



- а) Шальга
- б) Огрудок
- в) Печина
- г) Гряда

В-7. Какое значение имеет звуковой сигнал из четырех коротких звуков?



- а) "Мои движители работают назад"
- б) "Прошу увеличить ход"
- в) "Я намереваюсь сделать оборот"
- г) "Человек за бортом"

В-8. Как называется течение из главного русла, направляющееся в боковые протоки у их входов?



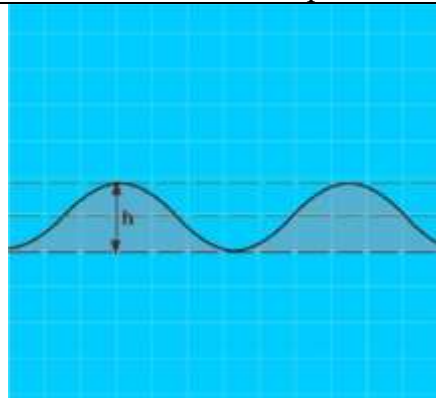
- а) Затяжное
- б) Боковое
- в) Прижимное
- г) Свальное

В-9. Как называется старое русло, спрямленное новым руслом и изолированное от него?



- а) Воложка
- б) Старица
- в) Рукав
- г) Пойма


В-10. Как называется расстояние (h) от подошвы до гребня волны?




- а) Период волны
- б) Диаметр волны
- в) Высота волны
- г) Длина волны

Билет 30 – ВВП


В-1. Что необходимо выполнить судоводителю маломерного судна при встрече немаломерного судна на судовом ходу?

	<ul style="list-style-type: none">а) уступить дорогу после обмена зрительными сигналами;б) уступить дорогу после обмена звуковыми сигналами;в) заблаговременно уйти с его пути без обмена звуковыми и зрительными сигналами;г) потребовать, чтобы ему уступили дорогу.
---	---


В-2. Отметьте правильное определение понятия «маломерное моторное судно»

	<ul style="list-style-type: none">а) маломерное судно, использующее в качестве основного средства движения подвесной моторб) маломерное судно, использующее в качестве основного средства стационарный двигательв) маломерное судно, использующее в качестве движителя гребной винтг) маломерное судно, использующее в качестве основного средства движения механический двигатель
--	---


В-3. Что обозначает изображенный на иллюстрации береговой навигационный информационный знак?

	<ul style="list-style-type: none">а) Участок судоходного пути, где скорость движения водоизмещающих судов ограничена 15 км/чб) Участок судоходного пути, на котором максимальная допустимая высота надводного габарита судна 15 мв) Участок судоходного пути, на котором глубина судового хода 15 мг) Участок судоходного пути, на котором максимальная допустимая ширина судов 15 м
---	---


В-4. Какое судно несет изображенный на иллюстрации сигнал?

	<ul style="list-style-type: none">а) Парусное судно на якорюб) Судно с опасными грузами на якорюв) Рыболовное судно, занятое выборкой тралаг) Дноуглубительный снаряд, работающий у правого берега
---	---


В-5. Кем выносятся постановления о лишении права управления маломерным судном?

	<ul style="list-style-type: none">а) Главным государственным инспектором по маломерным судамб) Государственным инспектором по маломерным судамв) Судьейг) Прокурором
---	---


В-6. Что запрещается делать в границах шлюза?

	<ul style="list-style-type: none">а) выход на территорию шлюза и посадка с территории шлюза пассажиров и членов экипажей судов без разрешения диспетчера шлюзаб) все перечисленноев) нанесение надписей и иных меток на поверхности камер и голов шлюза, на причальные палы, причальные стенки и другие конструкции шлюзаг) работа на судах радиовещательных установок
---	---


В-7. Как называется песчаная отмель – бугор в русле реки?

	<ul style="list-style-type: none">а) Шальгаб) Лещадьв) Печинаг) Осередок
---	---


В-8. Укажите звуковой сигнал, который необходимо подать, если необходимо вызвать на радиосвязь другое судно

	<ul style="list-style-type: none">а) Один продолжительный и один короткий звукиб) Один продолжительный звукв) Один продолжительный, один короткий и один продолжительный звукиг) Один продолжительный, один короткий, один продолжительный и один короткий звуки
--	---

В-9. Как называется разновидность тумана при видимости от 1 до 10 км?


	<ul style="list-style-type: none">а) Мглаб) Рефракцияв) Дымкаг) Морось
---	---

В-10. Как называется клиновидное отложение наносов, образованное у выпуклого берега и расположенное под углом к нему вниз по течению?

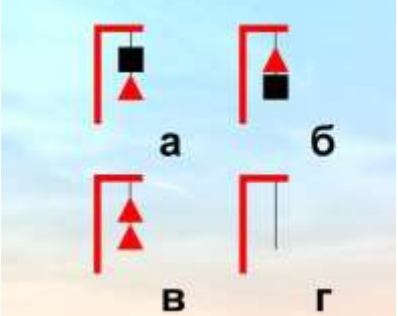
	<ul style="list-style-type: none">а) Заманихаб) Косав) Грядаг) Заструга
---	--

Билет 31 – ВВП


В-1. Какому из перечисленных судов НЕ должно уступать дорогу парусное судно на ходу?

	<ul style="list-style-type: none">а) судно, занятое ловом рыбы;б) одиночное самоходное судно, толкающее или буксирующее состав (кроме плота);в) судно, буксирующее плот;г) судно, лишенное возможности управляться, занятое подводными или водолазными работами
---	--


В-2. Какое из изображенных на иллюстрации сочетаний сигнальных фигур на семафорной мачте запрещает проход вверх?

	<ul style="list-style-type: none">а) Бб) А и Вв) Гг) Б и В
--	---


В-3. Что обозначает изображенный на иллюстрации береговой навигационный знак?

	<ul style="list-style-type: none">а) Оповестительный знак правого берега при входе в искусственное руслоб) Оповестительный знак левого берега при входе в искусственное руслов) Путевой огонь левого берегаг) Ходовой знак правого берега
--	--

В-4. Какое административное наказание предусмотрено за превышение установленной скорости?

	<ul style="list-style-type: none">а) Лишение права управленияб) Предупреждениев) Предупреждение или штраф, или лишение права управленияг) Штраф
---	--

В-5. Что должен предпринять судоводитель маломерного судна в случае утери в границах шлюза крупногабаритных судовых принадлежностей?

	<ul style="list-style-type: none">а) Ничего предпринимать не долженб) Попытаться незамедлительно принять меры по подъему этого предметав) Обязан сделать запрос о помощи в подъеме этого предмета у другого суднаг) Обязан незамедлительно сообщить об этом диспетчеру шлюза
---	---

В-6. Каким сигналом предваряется сообщение о важных гидрометеорологических предупреждениях, изменениях навигационной и путевой обстановки?



- а) БЕДСТВИЯ
- б) СРОЧНОСТИ
- в) БЕЗОПАСНОСТИ
- г) важности

В-7. Как называется течение, которое создается у берега на участках, где слив воды направлен к берегу, и вызывает раскат судов в сторону берега?



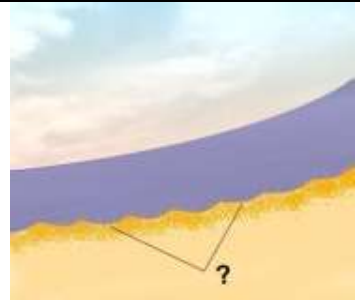
- а) Прижимное
- б) Раскатное
- в) Свальное
- г) Затяжное

В-8. Какое административное наказание предусмотрено за управление маломерным судном, не несущим бортовых номеров?



- а) Лишение права управления
- б) Штраф
- в) Предупреждение или штраф, или лишение права управления
- г) Предупреждение или штраф

В-9. Как называется глубоководный участок реки между двумя перекатами?



- а) Рейд
- б) Ложбина
- в) Плёс
- г) Стрежень


В-10. Какое значение имеет звуковой сигнал - 1 короткий, 1 продолжительный и 1 короткий звуки, подаваемый судном в условиях ограниченной видимости?




- а) "Несамостоятельное судно с экипажем на якоре или на мели в пределах судового хода"
- б) "Одиночные суда или составы на якоре или на мели в пределах судового хода"
- в) "Составы в движении"
- г) "Одиночные суда в движении"

Билет 32 – ВВП


В-1. Отметьте правильное определение понятия «полоса движения»:

	<ul style="list-style-type: none">а) судовой ход;б) ось судового хода;в) часть судового хода между его осью и правой или левой кромкой;г) правая сторона судового хода.
---	--

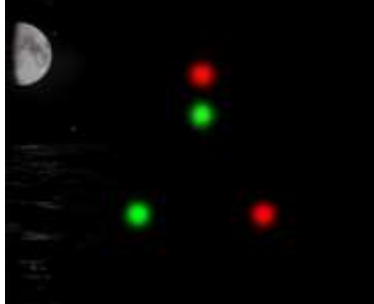
В-2. Что обозначает изображенный на иллюстрации береговой навигационный информационный знак?

	<ul style="list-style-type: none">а) Участок водного пути, где запрещено отдавать якоря, опускать цепи, лотыб) Пересечение судового ходав) Участок водного пути, где необходимо соблюдать особую осторожностьг) Участок водного пути, где движение мелких плавсредств запрещено
--	--


В-3. Что обозначает изображенный на иллюстрации плавучий навигационный знак?

	<ul style="list-style-type: none">а) правую кромку судового ходаб) левую кромку судового ходав) поворот судового хода и стоит у правого берегаг) поворот судового хода и стоит у левого берега
---	---

В-4. Какое из перечисленных судов несет изображенные на иллюстрации огни?

	<ul style="list-style-type: none">а) Парусное судно под мотором.б) Парусное судно длиной менее 20 м.в) Парусное судно длиной 20 м и более.г) Рыболовное судно.
--	---

В-5. На какой срок задерживается маломерное судно при совершении административного правонарушения?

	<ul style="list-style-type: none">а) На срок до рассмотрения дела об административном правонарушенииб) На срок до устранения причины задержанияв) На срок до вступления постановления по делу об административном правонарушении в законную силуг) На срок до составления протокола об административном правонарушении
--	---

В-6. К месту отстоя рядом со шлюзом подошли суда в следующем хронологическом порядке: нефтяной танкер, маломерное судно, сухогруз. Каким по порядку будет пропущено в шлюз маломерное судно?



- а) Первым
- б) Вторым
- в) Не будет пропущено
- г) Третьим

В-7. В каком случае категорически запрещается передача сигналов бедствия, срочности и безопасности?



- а) Без получения разрешения судовладельца
- б) В случае стоянки вне пределов судового хода
- в) В случае отсутствия разрешения на право пользования судовой радиостанцией
- г) Без действительной необходимости

В-8. Какое время принято на внутренних водных путях Российской Федерации?




- а) Единое московское время
- б) Среднеевропейское время
- в) Всемирное универсальное время
- г) Поясное время

В-9. При движении по затруднительному и не просматриваемому участку судно должно



- а) Информировать по радиотелефонной связи о своем местонахождении
- б) Информировать по радиотелефонной связи о своем местонахождении и через 2-3 минуты подавать звуковой сигнал: один продолжительный звук
- в) Информировать по радиотелефонной связи о своем местонахождении и через 2-3 минуты подавать звуковой сигнал; два продолжительных звука
- г) Информировать по радиотелефонной связи о своем местонахождении и через 2-3 минуты подавать звуковой сигнал: один продолжительный, один короткий и один продолжительный звуки


В-10. Как называется выработанное речным потоком ложе, по которому осуществляется сток воды при самых низких уровнях?




- а) Плес
- б) Пойма
- в) Русло
- г) Старица

Билет 33 - ВВП


В-1. При какой мощности подвесного лодочного мотора (двигателя) маломерное судно массой более 200 кг подлежит государственной регистрации?

	<ul style="list-style-type: none">а) Более 8 кВтб) Более 5 кВтв) Более 3,68 кВтг) Более 10 кВт
---	---


В-2. На каком расстоянии от границ шлюза судоводитель должен запросить по радиотелефонной связи у диспетчера шлюза уточненные данные о порядке судопропуска и доложить о готовности к шлюзованию?

	<ul style="list-style-type: none">а) Не менее чем за 100 мб) Не менее чем за 3 кмв) Не менее чем за 1 кмг) Сразу по прибытии к границам шлюза
---	--


В-3. На какие органы (организации) Водным кодексом РФ возложены обязанности об информировании жителей в случае введения запрета (ограничения) на использование маломерных судов на водных объектах общего пользования?

	<ul style="list-style-type: none">а) На органы местного самоуправленияб) На инспекторские подразделения ГИМСв) На территориальные органы МЧС Россииг) На ВОСВОД
---	--

В-4. Какое судно несет изображенный на иллюстрации сигнал?

	<ul style="list-style-type: none">а) Паром канатной переправы на стоянке у берегаб) Самоходный дноуглубительный снаряд с волочащимся грунтоподъемником на ходув) Судно, лишенное возможности управлятьсяг) Дебаркадер на буксире
---	---

В-5. С какой скоростью маломерное судно должно заходить в шлюз?

	<ul style="list-style-type: none">а) 10 км/чб) 3 км/чв) С безопасной скоростью, чтобы избежать повреждения шлюза и судовг) 1 км/ч
---	--

В-6. Как называется место начала реки?



- а) Воложка
- б) Протока
- в) Стрежень
- г) Исток

В-7. Как называется длинный изгиб русла вместе с долиной реки?



- а) Излучина
- б) Колено
- в) Лука
- г) Извилина

В-8. Как называется вращательное движение воды за подводным или надводным выступом?



- а) Майдан
- б) Суводь
- в) Сулои
- г) Водоворот

В-9. Как называется ветер, дующий в сторону берега?



- а) Навальный
- б) Прибрежный
- в) Привальный
- г) Прижимной

В-10. Какое судно несет изображенные на иллюстрации огни?



- а) Пассажирское водоизмещающее судно на переправе. Лежит в дрейфе
- б) Пассажирское водоизмещающее судно на переправе. Стоит на якорь
- в) Пассажирское водоизмещающее судно на переправе. Стоит у причала
- г) Паром канатной переправы

Билет 34 – ВВП

В-1. Что означает сигнал – горизонтальное движение флагом - отماشкой, подаваемый с патрульного судна ГИМС?




- а) "Подойдите к моему борту"
- б) "Прошу лечь на обратный курс"
- в) "Проходите по борту со стороны отماشки"
- г) "Прошу остановить судно"

В-2. На какие органы (организации) Водным кодексом РФ возложены обязанности об информировании жителей в случае введения запрета (ограничения) на использование маломерных судов на водных объектах общего пользования?



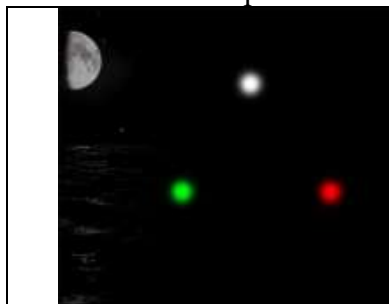
- а) На органы местного самоуправления
- б) На инспекторские подразделения ГИМС
- в) На территориальные органы МЧС России
- г) На ВОСВОД

В-3. Что обозначают изображенные на иллюстрации знаки?



- а) Лоцманское судно при исполнении своих обязанностей
- б) Судно, занятое буксировкой с длиной буксира более 200 м
- в) Судно, ограниченное в возможности маневрировать, на ходу
- г) Судно, лишенное возможности управляться

В-4. Какое из перечисленных судов должно нести изображенные на иллюстрации огни?



- а) Маломерное судно на мели
- б) Несамостоятельное судно на буксире
- в) Судно, занятое ловом рыбы
- г) Парусное судно длиной менее 50м, идущее под мотором

В-5. Какое административное наказание предусматривается за управление маломерным судном, судоводителем, не имеющим при себе судового билета?



- а) Предупреждение
- б) Предупреждение либо административный штраф
- в) Предупреждение, либо административный штраф, либо лишение права управления маломерным судном на срок до шести месяцев
- г) Административный штраф

В-6. Как называется часть старого русла, соединенное с действующим?



- а) Левая пойма
- б) Приток
- в) Затон
- г) Правая пойма

В-7. С какого борта катер "А" должен оставить при обгоне моторную лодку "Б", согласно требованиям ППВВП?



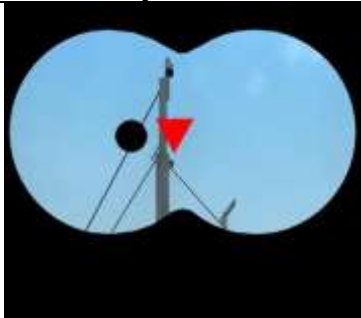
- а) С правого
- б) С левого при движении вниз
- в) С левого при движении вверх
- г) С любого

В-8. Как называется часть речной долины, затапливаемая при половодье (1 и 2)?



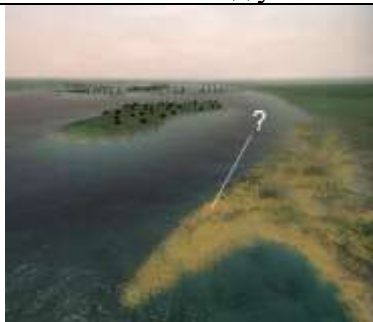
- а) Затон
- б) Воложка
- в) Пойма
- г) Протока

В-9. Какое судно несет изображенный на иллюстрации сигнал?



- а) Парусное судно на якоре
- б) Судно с опасными грузами на якоре
- в) Рыболовное судно, занятое выборкой трала
- г) Дноуглубительный снаряд, работающий у правого берега

В-10. Как называется клиновидное отложение наносов, образованное у выпуклого берега и расположенное под углом к нему вниз по течению?



- а) Заманиха
- б) Коса
- в) Гряда
- г) Заструга

Билет 35 – ВВП

В-1. Какое движение флага-отмашки днем означает сигнал "Прошу остановиться"?



- а) Горизонтальное
- б) Вращательное
- в) Любое
- г) Вертикальное

В-2. Какой документ, выдаваемый собственнику маломерного судна, подтверждает право плавания под Государственным флагом Российской Федерации?



- а) Удостоверение на право управления маломерными судами
- б) Технический талон
- в) Судовой билет
- г) Акт технического освидетельствования

В-3. Что обозначает изображенный на иллюстрации плавучий навигационный знак?



- а) поворот судового хода и стоит на его левой кромке
- б) правую кромку судового хода
- в) поворот судового хода и стоит на его правой кромке
- г) левую кромку судового хода

В-4. Как называется створ из трех знаков, который указывает положение и кромки судового хода?



- а) Линейный
- б) Щелевой
- в) Осевой
- г) Кромочный

В-5. Какое административное наказание предусмотрено за управление маломерным судном судоводителем или иным лицом, находящимся в состоянии опьянения?



- а) Лишение прав управления маломерным судном
- б) Штраф или лишение прав управления маломерным судном
- в) Штраф
- г) Предупреждение

В-6. Какое из маломерных судов не нарушает ППВВП?

	<ul style="list-style-type: none">а) Только "Б"б) Только "А" и "Б"в) только "А"г) Только "Б"
--	---

В-7. Как называется одиночный камень больших размеров в русле реки?

	<ul style="list-style-type: none">а) Шальгаб) Одинецв) Перекатг) Осередок
--	--

В-8. Как называется течение из главного русла, направляющееся в боковые протоки у их входов?

	<ul style="list-style-type: none">а) Затяжноеб) Боковоев) Прижимноег) Свальное
--	---

В-9. Какое административное наказание предусмотрено за превышение установленной скорости?

	<ul style="list-style-type: none">а) Лишение права управленияб) Предупреждениев) Предупреждение или штраф, или лишение права управленияг) Штраф
--	--

В-10. Какое значение имеет звуковой сигнал - 1 короткий, 1 продолжительный и 1 короткий звуки, подаваемый судном в условиях ограниченной видимости?

	<ul style="list-style-type: none">а) "Несамостоятельное судно с экипажем на якорю или на мели в пределах судового хода"б) "Одиночные суда или составы на якорю или на мели в пределах судового хода"в) "Составы в движении"г) "Одиночные суда в движении"
--	--

Билет 36 – ВВП

В-1. В каком случае требуется заключение договора водопользования для плавания на маломерном судне?



- а) Таких случаев законодательством не предусмотрено
- б) Если на одного владельца зарегистрировано два и более маломерных судов
- в) Если судовладелец использует судно для рыболовства, рыбоводства или охоты
- г) Если мощность двигателя маломерного судна более 55 кВт (75 л.с.)

В-2. В присутствии какого лица осуществляется доступ судоводителя (судовладельца) к маломерному судну, задержанному и находящемуся на специализированной стоянке?



- а) Государственного инспектора по маломерным судам
- б) Лица, ответственного за хранение судна
- в) Представителя прокуратуры
- г) Представителя милиции

В-3. Что обозначает изображенный на иллюстрации береговой навигационный знак "Ориентир"?




- а) Затопляемый берег
- б) Перевал судового хода
- в) Характерное место судоходного пути
- г) Вход в канал

В-4. В какой стороне необходимо оставить изображенный на иллюстрации навигационный знак в устье крупной реки?




- а) К востоку
- б) К западу
- в) К северу
- г) К югу

В-5. Какое административное наказание предусматривается за несоблюдение лицом, управляющим маломерным судном, требований навигационных знаков?




- а) Административный штраф
- б) Лишение права управления маломерным судном на срок до шести месяцев
- в) Предупреждение
- г) Одно из перечисленных

В-6. Отметьте правильное определения понятия «судоходство маломерных судов»

	<ul style="list-style-type: none">а) деятельность, связанная с использованием маломерных судов для отдыха, туризма, а также культурных, спортивных производственных, развлекательных и иных целейб) движение маломерных судов по водной акватории, на которой разрешено использование маломерного суднав) деятельность, связанная с использованием маломерных судов исключительно для производственных целейг) движение маломерных судов по водной акватории
---	---


В-7. Какой из звуковых сигналов в условиях ограниченной видимости подает одиночное судно на якоре?

	<ul style="list-style-type: none">а) "а"б) "б"в) "г"г) "в"
--	---


В-8. Как называется глубоководный участок реки между двумя перекатами?

	<ul style="list-style-type: none">а) Рейдб) Ложбинав) Плёсг) Стрежень
---	--

В-9. С какой скоростью маломерное судно должно заходить в шлюз?

	<ul style="list-style-type: none">а) 10 км/чб) 3 км/чв) С безопасной скоростью, чтобы избежать повреждения шлюза и судовг) 1 км/ч
--	--

В-10. Как называется подводный глинистый выступ?

	<ul style="list-style-type: none">а) Шальгаб) Опечкав) Печинаг) Осередок
--	---

Билет 37 – ВВП

В-1. Какими нормативными документами регулируется безопасность судоходства маломерных судов на внутренних водных путях Российской Федерации?



- а) Правилами плавания по внутренним водным путям Российской Федерации
- б) Всеми перечисленными маломерными судами на водных объектах Российской Федерации
- в) Кодексом внутреннего водного транспорта Российской Федерации;
- г) Правилами пользования

В-2. Какое значение имеет звуковой сигнал из четырех коротких звуков?



- а) "Мои движители работают назад"
- б) "Прошу увеличить ход"
- в) "Я намереваюсь сделать оборот"
- г) "Человек за бортом"

В-3. Какое из маломерных судов имеет преимущество при расхождении?




- а) "А" и "Б"
- б) Только "А"
- в) Только "Б"
- г) Ни одно из них

В-4. Что обозначает изображенный на иллюстрации навигационный знак?



- а) Разделение судового хода
- б) Поворот оси судового хода
- в) Свал воды на правую кромку судового хода
- г) Свал воды на левую кромку судового хода

В-5. Какое административное наказание лица, управляющего маломерным судном, предусматривается за преднамеренную остановку или стоянку судна в запрещенных местах?



- а) Предупреждение, либо административный штраф, либо лишение права управления маломерным судном на срок до шести месяцев
- б) Предупреждение
- в) Предупреждение либо административный штраф
- г) Административный штраф

В-6. К месту отстоя рядом со шлюзом подошли суда в следующем хронологическом порядке: нефтяной танкер, маломерное судно, сухогруз. Каким по порядку будет пропущено в шлюз маломерное судно?




- а) Первым
- б) Вторым
- в) Не будет пропущено
- г) Третьим

В-7. Как называется длинный изгиб русла вместе с долиной реки?



- а) Излучина
- б) Колено
- в) Лука
- г) Извилина

В-8. С какого борта катер "А" должен оставить при обгоне моторную лодку "Б", согласно требованиям ППВВП?




- а) С правого
- б) С левого при движении вниз
- в) С левого при движении вверх
- г) С любого

В-9. Какое административное наказание предусмотрено за превышение установленной скорости?



- а) Лишение права управления
- б) Предупреждение
- в) Предупреждение или штраф, или лишение права управления
- г) Штраф

В-10. Как называется клиновидное отложение наносов, образованное у выпуклого берега и расположенное под углом к нему вниз по течению?



- а) Заманиха
- б) Коса
- в) Гряда
- г) Заструга

Билет 38 – ВВП

В-1. Каким нормативным документом регулируется безопасность судоходства маломерных судов на внутренних водах, не включенных в Перечень внутренних водных путей Российской Федерации?




- а) Правилами плавания по внутренним водным путям Российской Федерации;
- б) Правилами пользования маломерными судами на водных объектах Российской Федерации;
- в) Кодексом внутреннего водного транспорта Российской Федерации;
- г) Водным кодексом Российской Федерации.

В-2. Отметьте правильное определение состояния защищённости маломерных судов, находящихся на водных объектах, от аварий и происшествий.



- а) Безопасность маломерных судов
- б) Безопасность судоходства маломерных судов
- в) Безопасность на водных объектах
- г) Безаварийное судоходство

В-3. Укажите звуковой сигнал, который необходимо подать, если необходимо вызвать на радиосвязь другое судно



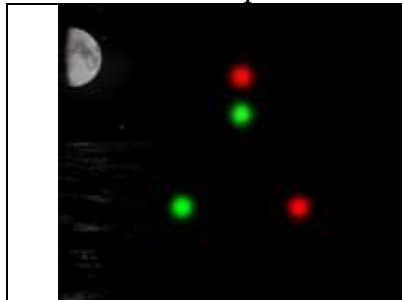
- а) Один продолжительный и один короткий звуки
- б) Один продолжительный звук
- в) Один продолжительный, один короткий и один продолжительный звуки
- г) Один продолжительный, один короткий, один продолжительный и один короткий звуки

В-4. Какое административное наказание предусмотрено за превышение установленной скорости?




- а) Лишение права управления
- б) Предупреждение
- в) Предупреждение или штраф, или лишение права управления
- г) Штраф

В-5. Какое из перечисленных судов несет изображенные на иллюстрации огни?




- а) Парусное судно под мотором.
- б) Парусное судно длиной менее 20 м.
- в) Парусное судно длиной 20 м и более.
- г) Рыболовное судно.

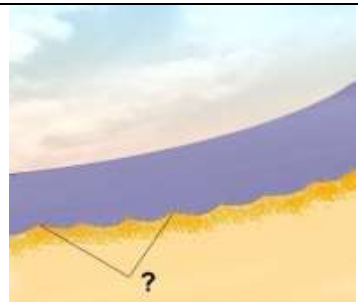
В-6. При подходе к работающему на судовом ходу дноуглубительному или дноочистительному снаряду судно должно

	<ul style="list-style-type: none">а) Заблаговременно убавить скорость хода и запросить разрешение на проходб) На расстоянии не менее 500 м должно подать звуковой сигнал "Внимание" и согласовать по УКВ радиосвязи сторону проходав) На расстоянии не менее 1 сверху, и не менее 500 м, при движении снизу, должно подать звуковой сигнал "Внимание" и согласовать по УКВ радиосвязи сторону проходаг) На расстоянии не менее 1 км должно подать звуковой сигнал "Внимание" и согласовать по УКВ радиосвязи сторону прохода
--	---


В-7. Как часто необходимо сверять показания часов с сигналами точного времени?

	<ul style="list-style-type: none">а) Один раз в суткиб) Один раз в течение ходовой вахтыв) По мере необходимости с учетом точности хода часовг) Не реже двух раз в сутки
--	---


В-8. Как называется скопление наносов, отложенных в виде подводной гряды по ширине русла?

	<ul style="list-style-type: none">а) Косаб) Порогв) Отмельг) Перекат
--	---

В-9. Как называется старое русло, спрямленное новым руслом и изолированное от него?


	<ul style="list-style-type: none">а) Воложкаб) Старицав) Рукавг) Пойма
--	---

В-10. Укажите тип судна


	<ul style="list-style-type: none">а) Дноуглубительный снаряд, работает на правой кромке судового ходаб) Дноуглубительный снаряд, работает на левой кромке судового ходав) Рефулерный снаряд, работает на левой кромке судового ходаг) Рефулерный снаряд, работает на правой кромке судового хода
--	---

Билет 39 – ВВП


В-1. Отметьте правильное определения понятия «судоходство маломерных судов»

	<ul style="list-style-type: none">а) Деятельность, связанная с использованием маломерных судов для отдыха, туризма, а также культурных, спортивных, производственных, развлекательных и иных целейб) Движение маломерных судов по водной акватории, на которой разрешено использование маломерного суднав) Деятельность, связанная с использованием маломерных судов исключительно для производственных целейг) Движение маломерных судов по водной акватории
---	--


В-2. Какое значение имеет звуковой сигнал из четырех коротких звуков?

	<ul style="list-style-type: none">а) "Мои движители работают назад"б) "Прошу увеличить ход"в) "Я намереваюсь сделать оборот"г) "Человек за бортом"
---	---


В-3. Что обозначает изображенный на иллюстрации береговой навигационный знак "Ориентир"?

	<ul style="list-style-type: none">а) Затопляемый берегб) Перевал судового ходав) Характерное место судоходного путиг) Вход в канал
--	---

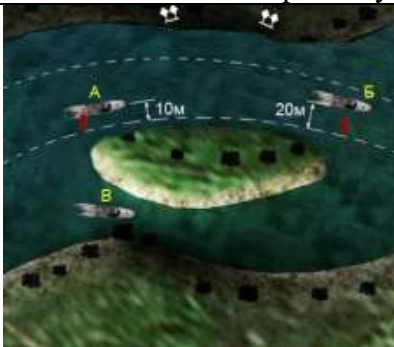
В-4. Какое из перечисленных судов должно нести изображенные на иллюстрации огни?

	<ul style="list-style-type: none">а) Маломерное судно на мелиб) Несамостоятельное судно на буксирев) Судно, занятое ловом рыбыг) Парусное судно длиной менее 50м, идущее под мотором
--	---

В-5. С какой скоростью маломерное судно должно заходить в шлюз?

	<ul style="list-style-type: none">а) 10 км/чб) 3 км/чв) С безопасной скоростью, чтобы избежать повреждения шлюза и судовг) 1 км/ч
--	--

В-6. Какое из маломерных судов не нарушает ППВВП?



- а) Только "Б"
- б) Только "А" и "В"
- в) только "А"
- г) Только "В"

В-7. Как называется одиночный камень больших размеров в русле реки?



- а) Шальга
- б) Одинец
- в) Перекат
- г) Осередок

В-8. Как называется течение из главного русла, направляющееся в боковые протоки у их входов?



- а) Затяжное
- б) Боковое
- в) Прижимное
- г) Свальное

В-9. На рисунке изображен следующий вправо от нас буксирный состав



- а) С одним несамоходным судном
- б) С двумя несамоходными судами
- в) С несамоходными судами, длиной менее 50 м
- г) С несамоходными судами, длиной более 50 м


В-10. Какой срок отводится Кодексом Российской Федерации об административных правонарушениях для уплаты административного штрафа?




- а) 10 суток
- б) 20 суток
- в) 60 суток
- г) 30 суток

Билет 40 – ВВП


В-1. Что необходимо выполнить судоводителю маломерного судна при встрече немаломерного судна на судовом ходу?

	<ul style="list-style-type: none">а) уступить дорогу после обмена зрительными сигналами;б) уступить дорогу после обмена звуковыми сигналами;в) заблаговременно уйти с его пути без обмена звуковыми и зрительными сигналами;г) потребовать, чтобы ему уступили дорогу.
---	---


В-2. Отметьте правильное определение состояния защищённости маломерных судов, находящихся на водных объектах, от аварий и происшествий.

	<ul style="list-style-type: none">а) Безопасность маломерных судовб) Безопасность судоходства маломерных судовв) Безопасность на водных объектахг) Безаварийное судоходство
--	--


В-3. На рисунке изображено

	<ul style="list-style-type: none">а) Судно, занятое устранением девиацииб) Самоходный дноуглубительный снаряд на ходу при заборе грунта, следует курсом на насв) Судно, занятое водолазными работамиг) Судно, занятое протаскиванием траловых сетей или другого орудия лова рыбы, идет курсом на нас
---	---

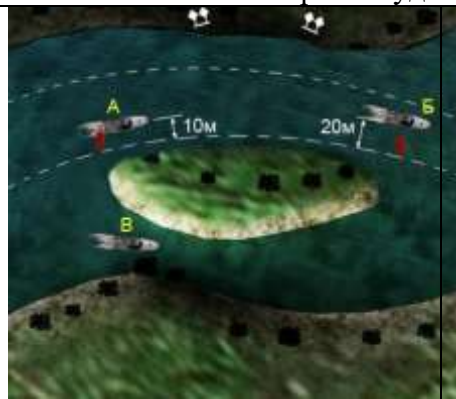
В-4. Как называется часть старого русла, соединенное с действующим?

	<ul style="list-style-type: none">а) Левая поймаб) Притокв) Затонг) Правая пойма
--	---

В-5. Какое из маломерных моторных судов нарушает в данной ситуации ППВВП?

	<ul style="list-style-type: none">а) "А" и "Б" не нарушаютб) "А"в) "Б"г) "А" и "Б"
--	---

В-6. Какое из маломерных судов не нарушает ППВВП?




- а) Только "Б"
- б) Только "А" и "В"
- в) только "А"
- г) Только "В"

В-7. В течение какого времени радиостанции, принявшие сигнал срочности, должны продолжать наблюдение за этой передачей?



- а) Не менее 5-ти минут.
- б) Не менее 15-ти минут.
- в) До окончания ходовой вахты
- г) Не менее 3-х минут.

В-8. Под каким номером на рисунке обозначен урез воды?



- а) 1
- б) 2
- в) 4
- г) 3

В-9. Какую погоду следует ожидать при резком падении атмосферного давления и появлении перистокучевых облаков?



- а) Грозу и шторм через 1-2 часа
- б) Усиления дождя
- в) Ухудшение погоды через 6-10 часов
- г) Изменение направления ветра

В-10. Какое административное наказание предусмотрено за передачу управления маломерным судном лицу, не имеющему при себе удостоверения на право управления маломерным судном?



- а) Наказание не предусмотрено
- б) Предупреждение
- в) Штраф
- г) Предупреждение или штраф

Ключи ВВП

Билет 21

1 – г	2 – б	3 – а	4 – в	5 – в
6 – г	7 – г	8 – а	9 – б	10 – а

Билет 22

1 – а	2 – а	3 – в	4 – г	5 – а
6 – б	7 – а	8 – в	9 – г	10 – а

Билет 23

1 – а	2 – в	3 – г	4 – б	5 – а
6 – б	7 – г	8 – б	9 – в	10 – б

Билет 24

1 – в	2 – б	3 – а	4 – г	5 – а
6 – в	7 – б	8 – г	9 – а	10 – в

Билет 25

1 – а	2 – в	3 – в	4 – б	5 – б
6 – г	7 – а	8 – г	9 – в	10 – а

Билет 26

1 – б	2 – г	3 – в	4 – а	5 – б
6 – в	7 – а	8 – а	9 – б	10 – в

Билет 27

1 – б	2 – а	3 – в	4 – в	5 – г
6 – б	7 – а	8 – г	9 – а	10 – б

Билет 28

1 – б	2 – в	3 – б	4 – а	5 – г
6 – а	7 – б	8 – в	9 – в	10 – г

Билет 29

1 – а	2 – б	3 – в	4 – а	5 – б
6 – г	7 – в	8 – а	9 – б	10 – в

Билет 30

1 – в	2 – г	3 – а	4 – б	5 – в
6 – б	7 – а	8 – в	9 – в	10 – б

Билет 31

1 – б	2 – б	3 – а	4 – в	5 – г
6 – в	7 – а	8 – б	9 – в	10 – б

Билет 32

1 – в	2 – а	3 – б	4 – в	5 – б
6 – г	7 – г	8 – а	9 – в	10 – в

Билет 33

1 – а	2 – в	3 – а	4 – б	5 – в
6 – г	7 – в	8 – б	9 – а	10 – г

Ключи ВВП

Билет 34

1 – г	2 – а	3 – г	4 – г	5 – б
6 – в	7 – а	8 – в	9 – б	10 – б

Билет 35

1 – а	2 – в	3 – а	4 – б	5 – б
6 – б	7 – б	8 – а	9 – в	10 – б

Билет 36

1 – а	2 – б	3 – в	4 – а	5 – г
6 – а	7 – в	8 – в	9 – в	10 – в

Билет 37

1 – б	2 – в	3 – г	4 – б	5 – а
6 – г	7 – в	8 – а	9 – в	10 – б

Билет 38

1 – б	2 – б	3 – а	4 – в	5 – в
6 – а	7 – г	8 – г	9 – б	10 – б

Билет 39

1 – а	2 – в	3 – в	4 – г	5 – в
6 – б	7 – б	8 – а	9 – г	10 – в

Билет 40

1 – в	2 – б	3 – г	4 – в	5 – а
6 – б	7 – г	8 – а	9 – а	10 – г