

Билет 11 – ВВП

В-1. Сколько метров составляет ширина береговой полосы водных объектов общего использования?



- а) 10 м
- б) 30 м
- в) 50 м
- г) 20 м

В-2. Что обозначает изображенный на иллюстрации плавучий навигационный знак?



- а) левую кромку судового хода
- б) поворот судового хода и стоит на его левой кромке
- в) поворот судового хода и стоит на его правой кромке
- г) правую кромку судового хода

В-3. Как должно осуществляться маневрирование маломерных судов при расхождении на водных объектах, не имеющих навигационной обстановки?



- а) С учетом направления течения
- б) С учетом левостороннего движения
- в) Порядок расхождения не установлен
- г) С учетом правостороннего движения

В-4. Что должен предпринять судоводитель маломерного судна в случае утери в границах шлюза крупногабаритных судовых принадлежностей?



- а) Обязан незамедлительно сообщить об этом диспетчеру шлюза
- б) Попытаться незамедлительно принять меры по подъему этого предмета
- в) Обязан сделать запрос о помощи в подъеме этого предмета у другого судна
- г) Ничего предпринимать не должен

В-5. Для чего из перечисленного ниже используется магнитный компас?



- а) Измерение скорости и расстояния до пункта назначения.
- б) Снятие пеленга на объект.
- в) Определение расстояния от объекта.
- г) Для всего вышеперечисленного

В-6. Какие действия необходимо предпринять судоводителю маломерного судна при выходе на судоходный участок реки из протоки?



- а) Запустить вверх ракету, если судно не оборудовано звуковой сигнализацией
- б) Подать звуковой сигнал из 5 коротких звуков
- в) Остановить судно у правого берега и при помощи бинокля ознакомиться с обстановкой
- г) Уменьшить ход и быть готовым к маневрированию

В-7. Как называется направление на географический северный полюс?



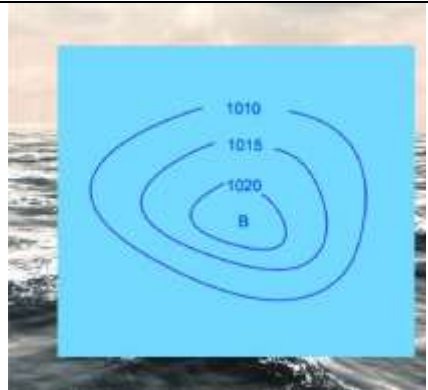
- а) магнитный север;
- б) истинный север
- в) север по компасу
- г) полюсный север

В-8. Какое название носят приливы, которые наблюдаются в дни первой и последней четверти луны?



- а) полусуточные;
- б) суточные;
- в) сигизийные;
- г) квадратурные.

В-9. Как называется область с повышенным давлением, которое понижается от центра к периферии?



- а) Циклон
- б) Шторм
- в) Штиль
- г) Антициклон


В-10. Признаком какого изменения погоды является резкое падение атмосферного давления?




- а) Изменения направления ветра
- б) Улучшения погоды
- в) Устойчивой хорошей погоды
- г) Приближения шторма

Билет 12 – ВВП


В-1. Какой орган может отменить право собственности на маломерное судно, зарегистрированное в реестре маломерных судов?

	<ul style="list-style-type: none">а) Прокуратураб) Прокуратура или судв) Вышестоящий орган ГИМСг) Суд
--	--


В-2. При наличии какой из перечисленных неисправностей пользование маломерным судном запрещается?

	<ul style="list-style-type: none">а) Повреждение леерного огражденияб) При любой из перечисленныхв) Отсутствие или неисправность ленточного или винтового стопора для удержания якорной цепиг) Неисправность отличительных (бортовых) огней
---	--


В-3. Что обозначает изображенный на иллюстрации плавучий навигационный знак?

	<ul style="list-style-type: none">а) левую кромку судового ходаб) правую кромку судового ходав) поворот судового хода и стоит на его правой кромкег) поворот судового хода и стоит на его левой кромке
---	---

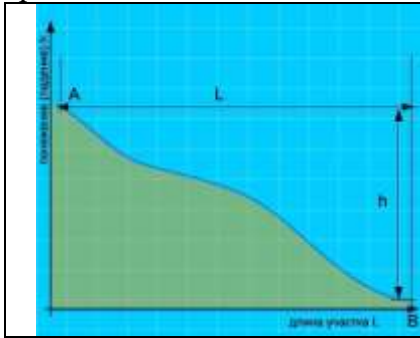
В-4. На какой канал должны быть переключены судовые УКВ радиостанции в границах шлюза?

	<ul style="list-style-type: none">а) На 70 каналб) На 16 каналв) На канал диспетчера шлюзаг) На 5 канал
---	--

В-5. Что следует предпринять судоводителю, если был принят вызов, но нет уверенности, что этот вызов предназначен радиостанции его судна?


	<ul style="list-style-type: none">а) Ответить на вызов сразу же и переспросить название вызывающего суднаб) Обратиться ко всем судам, с просьбой уточнить название вызывающего суднав) Запросить береговую радиостанцию с просьбой уточнить название вызывающего суднаг) Не отвечать до тех, пока вызов не будет повторен и понят.
---	---

В-6. Какая зависимость между продольным уклоном поверхности воды и скоростью течения воды в реке?



- а) Скорость течения возрастает с уменьшением продольного уклона
- б) Скорость течения уменьшается с увеличением продольного уклона
- в) Скорость течения не зависит от продольного уклона поверхности воды в реке
- г) Скорость течения возрастает с увеличением продольного уклона

В-7. Как называется выработанное речным потоком ложе, по которому осуществляется сток воды при самых низких уровнях?



- а) Плес
- б) Пойма
- в) Старица
- г) Русло

В-8. Как называется разновидность тумана при видимости от 1 до 10 км?




- а) Мгла
- б) Рефракция
- в) Морось
- г) Дымка

В-9. Как называется прибор для наблюдения за изменениями атмосферного давления и графической записи показаний?



- а) Барометр
- б) Гидролокатор
- в) Анемометр
- г) Барограф


В-10. Какую погоду следует ожидать при резком падении атмосферного давления и появлении перисто-кучевых облаков?




- а) Изменение направления ветра
- б) Усиления дождя
- в) Ухудшение погоды через 6-10 часов
- г) Грозу и шторм через 1-2 часа

Билет 13 - ВВП


В-1. Отметьте правильное определение понятия «полоса движения»:

	<ul style="list-style-type: none">а) судовой ход;б) часть судового хода между его осью и правой или левой кромкой;в) ось судового хода;г) правая сторона судового хода.
---	--


В-2. Что обозначает изображенный на иллюстрации плавучий навигационный знак?

	<ul style="list-style-type: none">а) поворот судового ходаб) особо опасное место у левой кромки судового ходав) особо опасное место у правой кромки судового ходаг) ось судового хода
--	--


В-3. С какого борта в соответствии с ППВВП при буксировке "лагом" должно быть ошвартовано буксируемое судно по отношению к буксировщику?

	<ul style="list-style-type: none">а) С любогоб) С левогов) С левого при движении вверх (против течения)г) С правого
---	--

В-4. Кто осуществляет руководство пропуском судов через шлюз?

	<ul style="list-style-type: none">а) Диспетчер шлюзаб) Капитан бассейнав) Директор шлюзаг) Дежурный по шлюзу
---	---

В-5. Как называется вращательное движение воды за подводным или надводным выступом?

	<ul style="list-style-type: none">а) Майданб) Водоворотв) Сулоиг) Суводь
---	---

В-6. Как называется местоположение судна, полученное путем обработки результатов визуальных наблюдений различных ориентиров, положение которых известно?



- а) обсервованное;
- б) счислимое;
- в) истинное;
- г) расчетное.

В-7. Как называется движение двух судов, двигающихся навстречу друг другу?



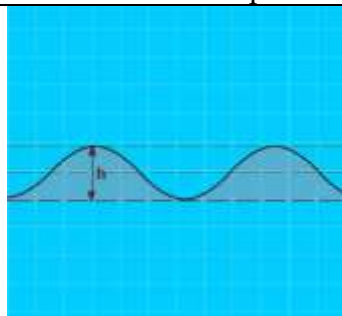
- а) Контрплавание
- б) Осевое плавание
- в) Курсовое плавание
- г) Встречное плавание

В-8. По какой шкале производится визуальная оценка силы ветра?



- а) Саффира – Симпсона
- б) Бофорта
- в) Цельсия
- г) Кельвина

В-9. Как называется расстояние (h) от подошвы до гребня волны?



- а) Период волны
- б) Диаметр волны
- в) Длина волны
- г) Высота волны


В-10. Как называется явление скопления микроскопических капелек воды в нижних слоях атмосферы?




- а) Мгла
- б) Морось
- в) Дымка
- г) Туман

Билет 14 – ВВП


В-1. Как в соответствии с ППВВП называется частный случай расхождения, когда хотя бы одно из судов остановилось или уменьшило скорость до минимальной?

	<ul style="list-style-type: none">а) "Маневр"б) "Обгон"в) "Отстой"г) "Пропуск"
---	---


В-2. Что обозначает изображенный на иллюстрации плавучий навигационный знак?

	<ul style="list-style-type: none">а) ось судового ходаб) поворот судового ходав) особо опасное место у левой кромки судового ходаг) особо опасное место у правой кромки судового хода
---	--


В-3. Каким нормативным документом регулируется безопасность судоходства маломерных судов на внутренних водах, не включенных в Перечень внутренних водных путей Российской Федерации?

	<ul style="list-style-type: none">а) Правилами плавания по внутренним водным путям Российской Федерации;б) Правилами пользования маломерными судами на водных объектах Российской Федерации;в) Кодексом внутреннего водного транспорта Российской Федерации;г) Водным кодексом Российской Федерации.
---	---

В-4. В каком документе, применительно к отдельным шлюзам, могут быть применены нормы, иные чем в Правилах пропуска судов через шлюзы внутренних водных путей?

	<ul style="list-style-type: none">а) Правила движения и стоянки судов в бассейнах внутренних водных путейб) Правила движения и стоянки судов в Российской Федерациив) Инструкция по шлюзованиюг) Кодекс торгового судоходства
---	--

В-5. Выберите правильное определение термина «курсовой угол».

	<ul style="list-style-type: none">а) угол между направлением на север и направлением на объект;б) угол между направлением на север и диаметральной плоскостью судна;в) угол между диаметральной плоскостью судна и направлением на объект;г) угол между курсом судна и направлением на объект
---	--

В-6. Как часто необходимо сверять показания часов с сигналами точного времени?



- а) Один раз в сутки
- б) Один раз в течение ходовой вахты
- в) По мере необходимости с учетом точности хода часов
- г) Не реже двух раз в сутки

В-7. Как называется место начала реки?



- а) Воложка
- б) Протока
- в) Стрежень
- г) Исток

В-8. Как называется ветер, который дует днем с моря на сушу, а ночью с суши на море?

?

- а) пассат;
- б) бора;
- в) бриз;
- г) муссон.

В-9. Какое название носят приливы, которые наблюдаются в дни новолуния и полнолуния?

?

- а) полусуточные;
- б) суточные;
- в) сизигийные;
- г) квадратурные.


В-10. Как называется интенсивное (при забрызгивании) нарастание слоя льда на палубе, фальшборте, надстройках, рангоуте и палубных судовых устройствах?




- а) Замораживание
- б) Наледь
- в) Обмораживание
- г) Обледенение

Билет 15 – ВВП


В-1. Какому из перечисленных судов НЕ должно уступать дорогу парусное судно на ходу?

	<ul style="list-style-type: none">а) одиночное самоходное судно, толкающее или буксирующее состав (кроме плота);б) судно, занятое ловом рыбы;в) судно, буксирующее плот;г) судно, лишенное возможности управляться, занятое подводными или водолазными работами
---	--


В-2. Какое из изображенных на иллюстрации сочетаний сигнальных фигур на семафорной мачте запрещает проход вверх?

	<ul style="list-style-type: none">а) Бб) Б и Вв) Гг) А и В
---	---


В-3. При наличии какой из перечисленных неисправностей пользование маломерным судном запрещается?

	<ul style="list-style-type: none">а) Ненадежное крепление планширяб) При любой из перечисленныхв) Отсутствие или неисправность штормовых портиков в фальшбортег) Отсутствие или неисправность глушителя
--	--


В-4. Что должен предпринять судоводитель маломерного судна, находясь в границах шлюза, в случае, если из-за маневренных характеристик судна не удастся следовать полученным указаниям диспетчера шлюза?

	<ul style="list-style-type: none">а) Об этом обстоятельстве необходимо незамедлительно сообщить диспетчеру шлюза, не предпринимать никаких действий до принятия решения, согласованного с диспетчером шлюза.б) Не предпринимать никаких действий.в) Об этом обстоятельстве необходимо незамедлительно сообщить диспетчеру шлюза, и все-таки попытаться выполнить указание диспетчера шлюза.г) Попросить помощи у других судов выполнить необходимый маневр
---	---


В-5. Под каким номером на рисунке обозначен урез воды?

	<ul style="list-style-type: none">а) 1б) 2в) 4г) 3
---	---


В-6. Как называется течение, которое создается у берега на участках, где слив воды направлен к берегу, и вызывает раскат судов в сторону берега?

	<ul style="list-style-type: none">а) Затяжноеб) Раскатноев) Свальноег) Прижимное
---	---


В-7. Какая команда применяется для прекращения передач, мешающих аварийному радиотелефонному обмену?

	<ul style="list-style-type: none">а) "ВСЕМ СУДАМ СОБЛЮДАТЬ МОЛЧАНИЕ"б) "ВНИМАНИЕ! ВЕДЕТСЯ СПАСАТЕЛЬНАЯ ОПЕРАЦИЯ"в) "КАНАЛ ЗАНЯТ АВАРИЙНЫМ ОБМЕНОМ"г) "ПРЕКРАТИТЕ ПЕРЕДАЧУ", "БЕДСТВИЕ"
---	---


В-8. Как называется ветер, дующий против течения реки?

	<ul style="list-style-type: none">а) Верховойб) Бризв) Встречныйг) Низовой
--	---

В-9. Укажите единицу измерения силы ветра.


	<ul style="list-style-type: none">а) м/сек;б) км/час;в) балл;г) градус.
---	--

В-10. Какое название носят приливы, имеющие две полные и две малые воды в течение лунных суток?


	<ul style="list-style-type: none">а) полусуточные;б) суточные;в) сигизийные;г) квадратурные.
---	---

Билет 16 – ВВП


В-1. Что обязан выполнить судоводитель, находящийся поблизости от аварийного судна, если имеется опасность для находящихся на нем людей?

	<ul style="list-style-type: none">а) оказать немедленную помощьб) насколько это совместимо с безопасностью его судна, оказать немедленную помощь;в) не оказывать помощь;г) привлечь внимание других судов
---	--


В-2. Что обозначает изображенный на иллюстрации знак?

	<ul style="list-style-type: none">а) Судно на ходуб) Судно, осуществляющее перевозку радиоактивных грузовв) Судно, идущее под парусом и одновременно использующее силовую установкуг) Судно, стоящее на якоре
---	--


В-3. Какие действия должен предпринять судоводитель маломерного судна "А" при выходе из базы стоянки?

	<ul style="list-style-type: none">а) Пропустить "А" и начать движениеб) Пропустить судно "Б" и начать движениев) Выйти с базы, не пропуская "Б" и "В"г) Пропустить "Б" и "В" и начать движение
---	---

В-4. На каком расстоянии от границ шлюза судоводитель должен запросить по радиотелефонной связи у диспетчера шлюза уточненные данные о порядке судопропуска и доложить о готовности к шлюзованию?

	<ul style="list-style-type: none">а) Не менее чем за 1 кмб) Не менее чем за 3 кмв) Не менее чем за 100 мг) Сразу по прибытии к границам шлюза
---	--

В-5. Как называется невысокий обрывистый, как правило, вогнутый берег?

	<ul style="list-style-type: none">а) Обрывб) Оврагв) Пескиг) Яр
---	--

В-6. Как называется угловая разница между направлением на истинный север и направлением на магнитный север?



- а) Магнитное склонение
- б) Девиация
- в) Угловое склонение
- г) Демаркация

В-7. Каким сигналом предваряется сообщение о важных гидрометеорологических предупреждениях, изменениях навигационной и путевой обстановки?



- а) БЕЗОПАСНОСТИ
- б) СРОЧНОСТИ
- в) БЕДСТВИЯ

В-8. Что означает выражение «Шторм 9 баллов»?



- а) волна высотой 9 метров;
- б) ветер скоростью 9 м/сек;
- в) ветер скоростью 9 км/час;
- г) ветер силой 9 баллов.

В-9. Как называется разновидность тумана при видимости от 1 до 10 км?



- а) Мгла
- б) Рефракция
- в) Морось
- г) Дымка

В-10. Что измеряет барометр-анероид?



- а) Температуру воды
- б) Силу ветра
- в) Влажность воздуха
- г) Атмосферное давление

Билет 17 – ВВП

В-1. Какие из маломерных судов ("А", "Б", "В" и "Г") осуществляет проход под мостом в соответствии с требованиями ППВП?



- а) "А" и "В"
- б) "А" и "Г"
- в) "Б" и "В"
- г) "Б" и "Г"

В-2. Что обозначает изображенный на иллюстрации знак?



- а) Судно, стоящее на мели
- б) Судно, стоящее на якорь
- в) Судно, идущее под парусом и одновременно использующее силовую установку
- г) Судно, осуществляющее перевозку опасных грузов

В-3. В течение какого срока собственник маломерного судна обязан сообщить в орган государственной регистрации судна о любом изменении сведений, внесенных в реестр маломерных судов?



- а) В течение недели
- б) В течение месяца
- в) В течение трех недель
- г) В течение двух недель

В-4. Могут ли маломерные суда, находящиеся в очереди, потребовать пройти шлюзование, отдельное от других судов?



- а) Не могут ни при каких обстоятельствах
- б) Могут, при наличии заключенного договора на шлюзование
- в) Могут, если они будут находиться в шлюзе в счале
- г) Могут

В-5. Какое время принято на внутренних водных путях Российской Федерации?



- а) Поясное время
- б) Среднеевропейское время
- в) Всемирное универсальное время
- г) Единое московское время

В-6. Как называется крутой и короткий изгиб русла в пределах долины реки?



- а) Извилина
- б) Излучина
- в) Лука
- г) Колено

В-7. Как называется угол между диаметральной плоскостью судна и направлением на магнитный север?



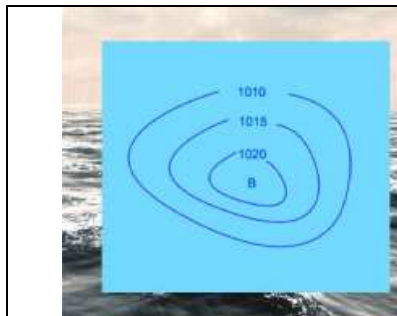
- а) курс
- б) компасный курс
- в) истинный курс
- г) магнитный курс

В-8. Какое название носят приливы, имеющие одну полную и одну малую воду в течение суток?



- а) полусуточные;
- б) суточные;
- в) сизигийные;
- г) квадратурные

В-9. Как называется область с повышенным давлением, которое понижается от центра к периферии?



- а) Циклон
- б) Шторм
- в) Штиль
- г) Антициклон


В-10. Как называется ветер, при котором воздух перемещается с запада на восток?




- а) Западный;
- б) Восточный;
- в) Северный;
- г) Южный.

Билет 18 – ВВП


В-1. На какие органы (организации) Водным кодексом РФ возложены обязанности об информировании жителей в случае введения запрета (ограничения) на использование маломерных судов на водных объектах общего пользования?

	<ul style="list-style-type: none">а) На ВОСВОДб) На инспекторские подразделения ГИМСв) На территориальные органы МЧС Россииг) На органы местного самоуправления
--	--


В-2. Что обозначает изображенный на иллюстрации береговой навигационный знак "Ориентир"?

	<ul style="list-style-type: none">а) Затопляемый берегб) Перевал судового ходав) Вход в каналг) Характерное место судоходного пути
---	---


В-3. Как движется это судно по отношению к наблюдателю?

	<ul style="list-style-type: none">а) Идет вправоб) Идет на наблюдателяв) Идет от наблюдателяг) Идет влево
---	--

В-4. К месту отстоя рядом со шлюзом подошли суда в следующем хронологическом порядке: нефтяной танкер, маломерное судно, сухогруз. Каким по порядку будет пропущено в шлюз маломерное судно?

	<ul style="list-style-type: none">а) Первымб) Вторымв) Третьимг) Не будет пропущено
--	--

В-5. Какой вид радиосвязи на ВВП является основным?

	<ul style="list-style-type: none">а) телефонная радиосвязьб) буквопечатающая телеграфная радиосвязьв) слуховая телеграфная радиосвязьг) сотовая связь
---	--

В-6. Как называется течение из главного русла, направляющееся в боковые протоки у их входов?



- а) Свальное
- б) Боковое
- в) Прижимное
- г) Затяжное

В-7. Как называется отклонение стрелки компаса от магнитного севера под влиянием внешних магнитных полей?



- а) Магнитное склонение
- б) Девиация
- в) Угловое склонение
- г) Демаркация

В-8. Где будет находиться область высокого давления по отношению к человеку, стоящему спиной к ветру в северном полушарии?



- а) впереди;
- б) справа,
- в) слева,
- г) со стороны спины

В-9. Как называется ветер, дующий против течения реки?



- а) Верховой
- б) Бриз
- в) Встречный
- г) Низовой


В-10. Как называется явление скопления микроскопических капелек воды в нижних слоях атмосферы?




- а) Мгла
- б) Морось
- в) Дымка
- г) Туман

Билет 19 – ВВП


В-1. Для прохода каких судов предназначен изображенный на иллюстрации пролет моста?

	<ul style="list-style-type: none">а) Для плотовых составовб) Для судов и составов, идущих снизув) Для судов и составов, идущих сверхуг) Для маломерных судов
---	---


В-2. Кем выносятся постановления о лишении права управления маломерным судном?

	<ul style="list-style-type: none">а) Главным государственным инспектором по маломерным судамб) Государственным инспектором по маломерным судамв) Прокуроромг) Судьей
--	---


В-3. Что обозначает изображенный на иллюстрации навигационный знак?

	<ul style="list-style-type: none">а) Поворот судового хода в сторону правого берегаб) Левую кромку судового ходав) Правую кромку судового ходаг) Поворот судового хода в сторону левого берега
---	---

В-4. За какой промежуток времени суда, идущие на шлюзование, обязаны сообщать по радиотелефонной связи диспетчеру шлюза о расчетном времени подхода к границам шлюза?

	<ul style="list-style-type: none">а) За 1,5 часаб) За 1 часв) За 0,5 часаг) Сразу при подходе к границам шлюза
---	---

В-5. Какие действия необходимо предпринять судоводителю маломерного судна при выходе на судоходный участок реки из протоки?

	<ul style="list-style-type: none">а) Запустить вверх ракету, если судно не оборудовано звуковой сигнализациейб) Подать звуковой сигнал из 5 коротких звуковв) Остановить судно у правого берега и при помощи бинокля ознакомиться с обстановкойг) Уменьшить ход и быть готовым к маневрированию
--	--

В-6. Как называется часть реки, образованная при разделении русла островом?



- а) Прорва
- б) Затон
- в) Старица
- г) Рукав

В-7. Какой служебной фразой при ведении радиотелефонного обмена оценивается качество радиосвязи?



- а) Сигнал слабый (сильный)
- б) Слышимость 1 (2,3,4,5) балл
- в) Слышимость разборчивая (неразборчивая)
- г) Слышу хорошо (удовлетворительно, плохо)

В-8. Что измеряется ручным анемометром?



- а) Направление ветра
- б) Скорость течения
- в) Атмосферное давление
- г) Скорость ветра

В-9. Какую погоду следует ожидать при резком падении атмосферного давления и появлении перистокучевых облаков?



- а) Изменение направления ветра
- б) Усиления дождя
- в) Ухудшение погоды через 6-10 часов
- г) Грозу и шторм через 1-2 часа


В-10. Какое название носят приливы, которые наблюдаются в дни первой и последней четвертей луны?




- а) полусуточные;
- б) суточные;
- в) сизигийные;
- г) квадратурные.

Билет 20 – ВВП


В-1. Какими нормативными документами регулируется безопасность судоходства маломерных судов на внутренних водных путях Российской Федерации?

	<ul style="list-style-type: none">а) Правилами плавания по внутренним водным путям Российской Федерацииб) Правилами пользования маломерными судами на водных объектах Российской Федерациив) Кодексом внутреннего водного транспорта Российской Федерации;г) Всеми перечисленными
--	--


В-2. Что обозначают изображенные на иллюстрации знаки?

	<ul style="list-style-type: none">а) Лоцманское судно при исполнении своих обязанностейб) Судно, занятое буксировкой с длиной буксира более 200 мв) Судно, ограниченное в возможности маневрировать, на ходуг) Судно, лишенное возможности управляться
---	---


В-3. При наличии какой из перечисленных неисправностей пользование маломерным судном запрещается?

	<ul style="list-style-type: none">а) Наличие вибрацииб) Наличие утечек топливав) Повреждение системы дистанционного управления двигателемг) При любой из перечисленных
---	---

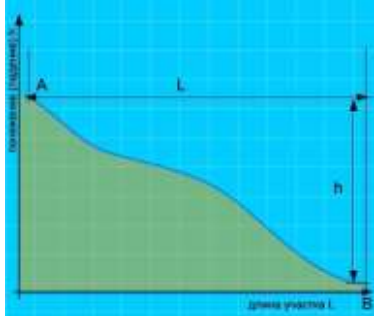
В-4. В каких из перечисленных случаев маломерным судам разрешен обгон судов в подходных каналах и камере шлюза?

	<ul style="list-style-type: none">а) При шлюзовании внизб) При шлюзовании вверхв) Если при входе подходного канала горит зеленый огонь светофораг) Таких случаев не предусмотрено
---	--


В-5. Какие документы должны находиться на маломерном судне, оборудованном УКВ радиостанцией?

	<ul style="list-style-type: none">а) Правила радиосвязи на внутренних водных путях Российской Федерацииб) Разрешение на право пользования судовой радиостанциейв) Указания по организации судовой радиосвязи в бассейне (регионе)г) Все перечисленные
--	--

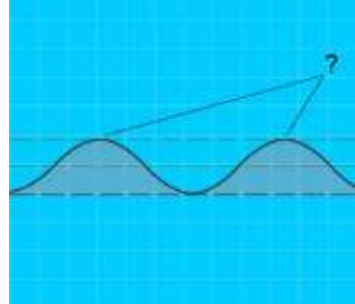
В-6. Какая зависимость между продольным уклоном поверхности воды и скоростью течения воды в реке?

	<ul style="list-style-type: none">а) Скорость течения возрастает с уменьшением продольного уклонаб) Скорость течения уменьшается с увеличением продольного уклонав) Скорость течения не зависит от продольного уклона поверхности воды в рекег) Скорость течения возрастает с увеличением продольного уклона
--	---


В-7. Какой из этих изгибов реки называется "лука"?

	<ul style="list-style-type: none">а)б)в)г)
---	---


В-8. Как называется наивысшая точка волнового профиля?

	<ul style="list-style-type: none">а) Взбросб) Подошвав) Высотаг) Гребень
--	---

В-9. Как называется ветер, который дует днем с моря на сушу, а ночью с суши на море?

	<ul style="list-style-type: none">а) пассат;б) бора;в) бриз;г) муссон.
---	---

В-10. Что означает выражение «Шторм 9 баллов»?

	<ul style="list-style-type: none">а) волна высотой 9 метров;б) ветер скоростью 9 м/сек;в) ветер скоростью 9 км/час;г) ветер силой 9 баллов.
---	--

Ключи ВВП

Билет 11

1 – г	2 – г	3 – г	4 – а	5 – б
6 – г	7 – б	8 – г	9 – г	10 – г

Билет 12

1 – г	2 – г	3 – г	4 – в	5 – г
6 – г	7 – г	8 – г	9 – г	10 – г

Билет 13

1 – б	2 – г	3 – г	4 – а	5 – г
6 – а	7 – г	8 – б	9 – г	10 – г

Билет 14

1 – г	2 – г	3 – б	4 – а	5 – в
6 – г	7 – г	8 – в	9 – в	10 – г

Билет 15

1 – а	2 – г	3 – г	4 – а	5 – а
6 – г	7 – г	8 – г	9 – в	10 – а

Билет 16

1 – б	2 – г	3 – г	4 – а	5 – г
6 – а	7 – а	8 – г	9 – г	10 – г

Билет 17

1 – г	2 – г	3 – г	4 – а	5 – г
6 – г	7 – г	8 – б	9 – г	10 – а

Билет 18

1 – г	2 – г	3 – г	4 – в	5 – а
6 – г	7 – б	8 – б	9 – г	10 – г

Билет 19

1 – г	2 – г	3 – а	4 – а	5 – г
6 – г	7 – г	8 – г	9 – г	10 – г

Билет 20

1 – г	2 – г	3 – г	4 – г	5 – г
6 – г	7 – г	8 – г	9 – в	10 – г